

۱	معنی عبارات زیر را بنویسید.
	الف) پس به کار دوستان اندیشه کن و دوستی ایشان به مردمی و احسان تازه دار.
	ب) مشورت نکردن در کارها، ضعیف رایی باشد و هیچ شغلی بی مشورت، نیکونیايد.
۲	معنی کلمات زیر را بنویسید.
	دلپذیر: .....
	متفق: .....
	مشاورت: .....
	هم خانواده کلمات زیر را بنویسید.
	نظر: ..... و .....
	عجیب: ..... و .....
۴	مخالف کلمات زیر را بنویسید.
	سختی: .....
	گرما: .....
۵	مفرد یا جمع کلمات زیر را بنویسید.
	الف ( ملل : ..... ب ( ادب : .....
	ج) ساعات : .....
	د ( مدارس

<p>۹</p> <p>املاي کدام کلمه با توجه به معنی آن صحیح است؟</p> <p>الف ( مشفع : مهربان ) ب) ناگزیر: ناچار ج) اسرار: پافشاری د ( تب: پزشکی</p>	
<p>۱۰</p> <p>کدام کلمه با بقیه متفاوت است؟</p> <p>الف ( اخبار ) ب) اموال ج) اسرار د ( ارچه</p>	
<p>۱۱</p> <p>هم خانواده کلمات مقابل را بنویسید.</p> <p>عادل : ..... و..... مثل : ..... و .....</p>	
<p>۱۲</p> <p>مخالف کلمات مقابل را بنویسید.</p> <p>خیر: ..... خواب : .....</p>	
<p>۱۳</p> <p>کلمه مناسب را انتخاب کنید.</p> <p>الف) معلم گفت: نام ( شهدای - شهداء ) انقلاب ما در تاریخ جاویدان باقی می ماند.</p> <p>ب) چون دوست نو گیری پشت بر دوستان ( کوهن / کهن ) مکن.</p>	

1	الف) پس به کار دوستان اندیشه کن و دوستی ایشان به مردمی و احسان تازه دار. پس به رفتار و اعمال دوستانت فکر کن و دوستی با آنها را با انسانیت و محبت همیشه تازه نگه دار ب) مشورت نکردن در کارها، ضعیف رایی باشد و هیچ شغلی بی مشورت، نیکو نیاید. مشورت و هم فکری نکردن در کارها نشانه ی بی خردی است و هیچ کاری بدون مشورت و هم فکری درست انجام نمی شود. معنی کلمات زیر را بنویسید.
2	دلپذیر: پسندیده ، دلپسند متفق: هم عقیده مشاورت: هم فکری
	هم خاتواده کلمات زیر را بنویسید. نظر: ناظر، نظارت عجیب: عجایب، تعجب
4	مخالف کلمات زیر را بنویسید. سختی: آسانی گرما: سرما
5	مفرد یا جمع کلمات زیر را بنویسید. الف ( ملل : ملت ) ب ( ادب : ادیب ) ج ( ساعات : ساعت ) د ( مدارس: مدرسه )

9	املاي کدام کلمه با توجه به معنی آن صحیح است؟
د ( تب :	ج) اسرار: پافشاری
ب) ناگزیر: ناچار	الف ( مشفع : مهربان
	پزشکی
1	کدام کلمه با بقیه متفاوت است؟
د ( ارچه	ج) اسرار
	ب) اموال
	الف ( اخبار
1	هم خانواده کلمات مقابل را بنویسید.
	مثل : مثال ، تمثیل
	عقل : عقل ، عاقلانه
12	مخالف کلمات مقابل را بنویسید.
	خواب : بیدار
	خیر: شر
13	کلمه مناسب را انتخاب کنید.
	الف) معلم گفت: نام ( شهدای - شهداء ) انقلاب ما در تاریخ جاویدان باقی می ماند.
	ب) چون دوست نو گیری پشت بر دوستان ( کوهن/ کهن ) مکن.

۱) جاهای خالی را با کلمات مناسب کامل کنید.

الف) مساحت زمین کشاورزی معمولا با واحد..... بیان میشود.

ب) فظی که از وسط یک پاره فظ بگذرد و بر آن عمود باشد..... نام دارد.

ج) هر هکتار برابر است با..... مترمربع.

د)  $6/37$  متر برابر است با ..... دسی متر.

۲) گزینه درست را علامت بزنید

الف) کدام مورد با بقیه متفاوت است؟

۲۰۰۰ متر مکعب

۲ دسی متر مکعب

۲۰۰۰ سی سی

۲ لیتر

ب) حجم یک گاو صندوق  $0/087$ ..... است.

متر مکعب

کیلو متر مربع

متر مربع

دسی متر مکعب

ج) کدام واحد برای اندازه گیری جرم به کار نمی رود؟

کیلوگرم

گرم

لیتر

تن

د) مساحت گسترده مکعب مربع با ضلع ۶ سانتی متر برابر است با؟

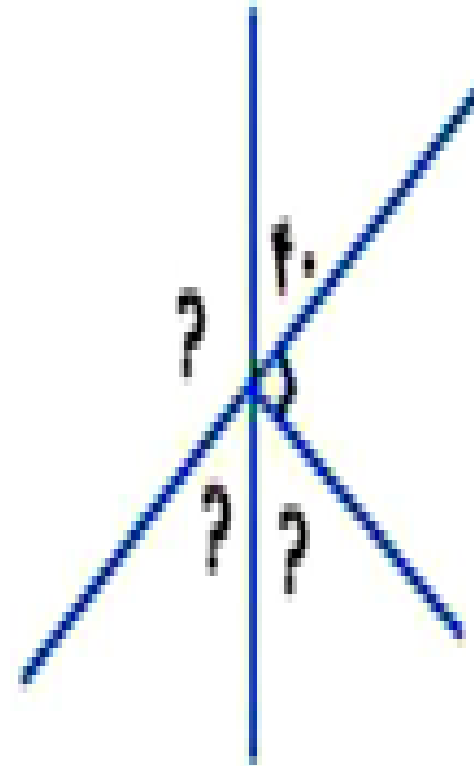
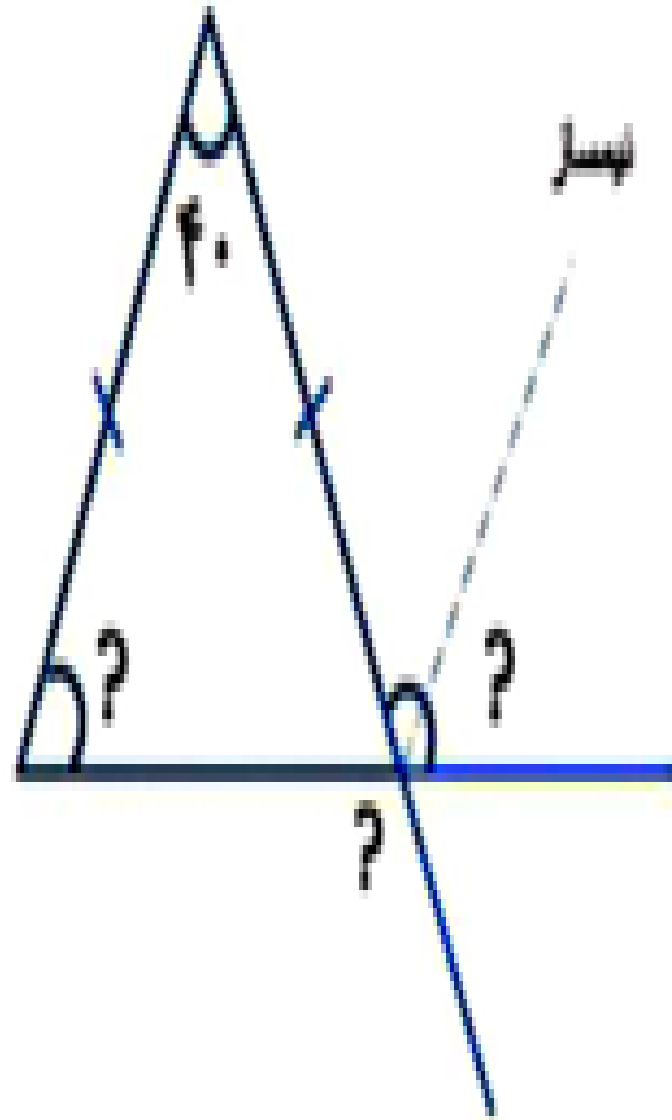
۶۴۰ سانتی متر مربع

۲۱۶۰۰ میلی متر مربع

۲۱۶۰ میلی متر مربع

۶۴ سانتی متر مربع

۱) اندازه زاویه های زیر را به دست آورید.



۴) نسبت منجم زاویه ای به مکمل آن ۱ به ۴ است، اندازه زاویه مندرجه است؟

۱) جاهای خالی را با کلمات مناسب کامل کنید.

الف) مساحت زمین کشاورزی معمولاً با واحد **هکتار** بیان میشود.

ب) فظی که از وسط یک پاره فظ بگذرد و بر آن عمود باشد..... نام دارد. **عمود منصف**

ج) هر هکتار برابر است با..... **۱۰۰۰۰ متر مربع**.

د)  $6/37$  متر برابر است با ..... **۶۳۷ دسی متر**.

۲) گزینه درست را علامت بزنید

الف) کدام مورد با بقیه متفاوت است؟

۲ لیتر      ۲۰۰۰ سی سی

ب) حجم یک گاو صندوق  $0/087$ ..... است.

دسی متر مکعب      متر مربع

ج) کدام واحد برای اندازه گیری جرم به کار نمی رود؟

تن      لیتر ✓

د) مساحت گسترده مکعب مربع با ضلع ۶ سانتی متر برابر است با؟

۶۴ سانتی متر مربع      ۲۱۶۰ میلی متر مربع

۲۱۶۰۰ میلی متر مربع ✓

۶۴۰ سانتی متر مربع

۲۰۰۰ متر مکعب ✓

۲ دسی متر مکعب

متر مکعب ✓

کیلو متر مربع

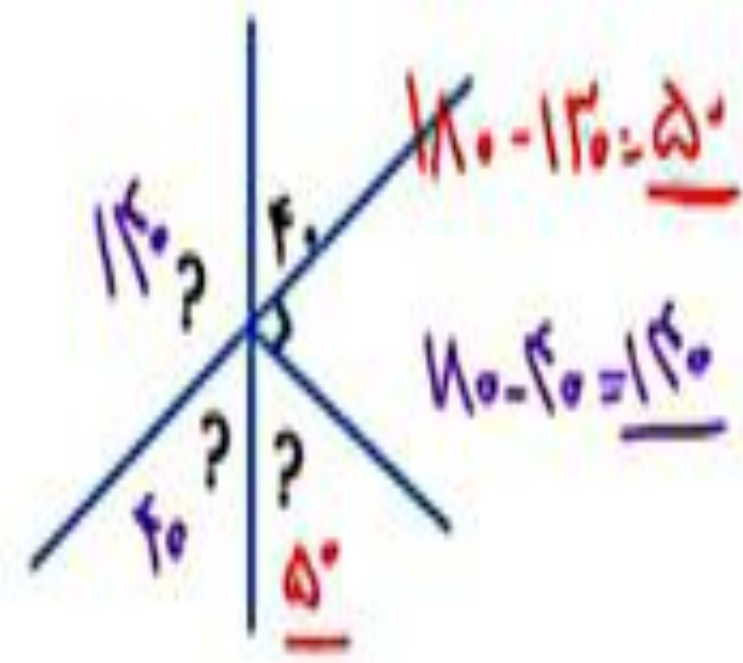
کیلوگرم

گرم

$$6 \times 6 \times 6 = 216 \times 100 = 21600$$

۱) اندازه زاویه های زیر را به دست آورید.

$$40 + 90 = 130$$



$$180 - 130 = 50$$

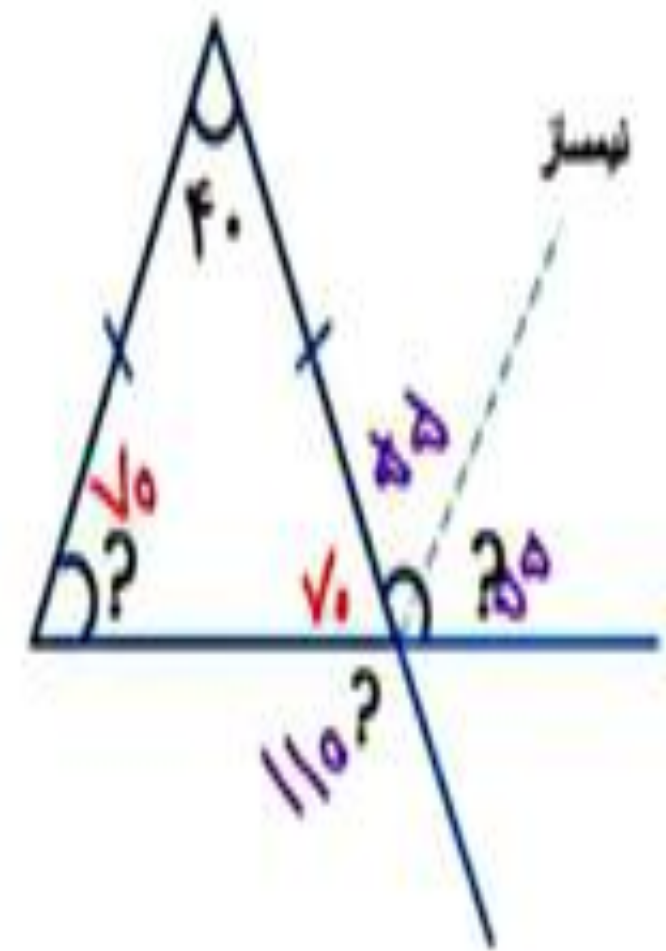
$$180 - 40 = 140$$

$$180 - 40 = 140$$

$$140 \div 2 = 70$$

$$180 - 70 = 110$$

$$110 \div 2 = 55$$



۴) نسبت منم; زاویه ای به مکمل آن ۱ به ۴ است، اندازه زاویه پند درجه است؟

منم  
مکمل  
افزاد

۱	۳۰
۴	۱۲۰
۴	۹۰

→  $180 - 120 = 60$  درجه