



موضوع:

تاریخ:

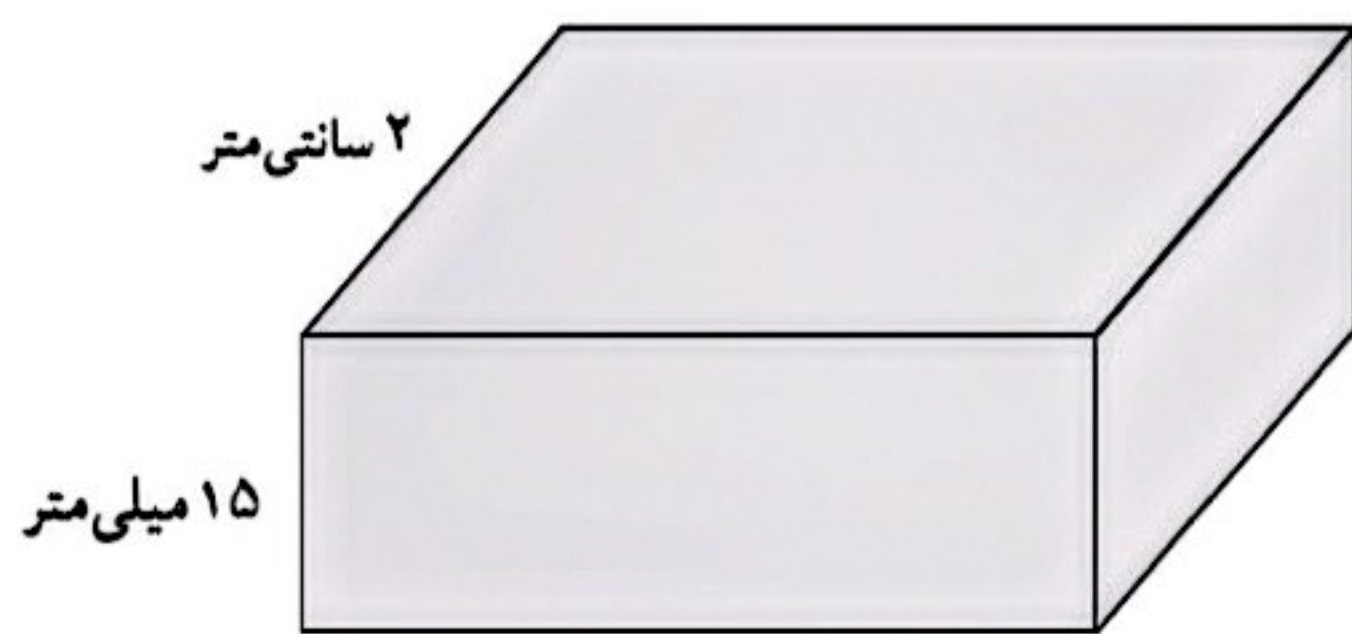
نام و نام خانوادگی:

هدف:

نکته مربوط به سوال.

- هر سانتی متر مکعب یک سی سی است.
- یک دسی متر مکعب \_\_\_\_\_ سی سی یا یک لیتر است.
- یک متر مکعب معادل چند لیتر است؟
- جرم یک سی سی آب تقریباً یک گرم است.
- یک لیتر آب تقریباً \_\_\_\_\_ گرم یا یک \_\_\_\_\_ جرم دارد.

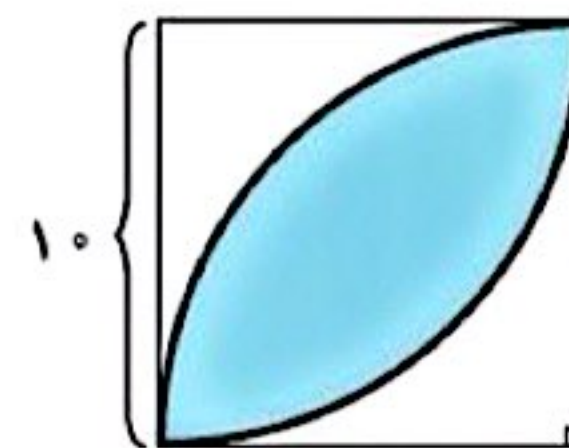
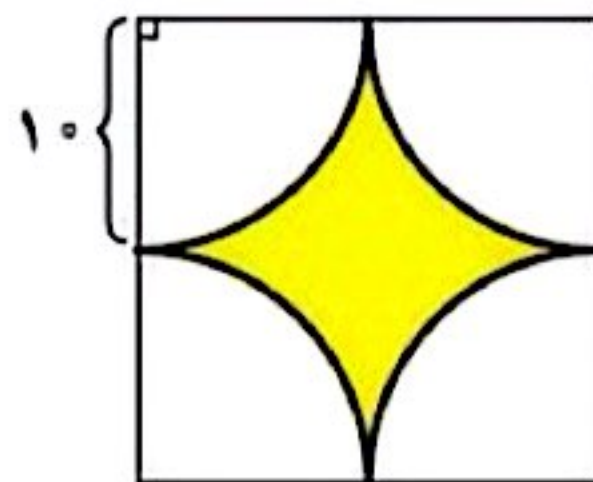

نکته مربوط به سوال.



- حجم مکعب مستطیل روبه رو  $14/82$  سانتی متر مکعب است.
- طول آن چند سانتی متر است؟

نکته مربوط به سوال.

مساحت قسمت های رنگی شکل های زیر را پیدا کنید.



بازخورد:

\_\_\_\_\_

\_\_\_\_\_

