

نام و نام خانوادگی:

خانم .....

دبستان دفترانه علوی شعبه امامت

پیک دوره ای شماره ی ۱

مرور هفته ی اول

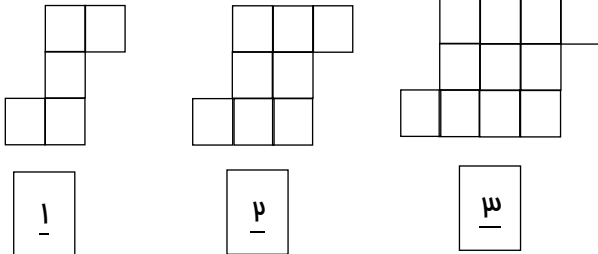
علوی

مخارج هزاره پنجم



ریاضی

۱- شکل چهارم الگوی زیر را رسم کنید و به سوالات زیر پاسخ دهید:



الف) الگوی عددی مربوط به این شکل را بنویسید.

ب) عدد بیست و نهم این الگو را بنویسید.

ج) رابطه ی (روش) به دست آوردن عددهای این الگو را بنویسید.

۲- یک فروشگاه بزرگ دارای ۸ طبقه روی همکف و ۳ طبقه زیر همکف است. مادر علی اکنون در طبقه ی سوم روی همکف قرار دارد. او ابتدا ۴ طبقه بالا می رود و سپس برای خرید لبنیات ۶ طبقه پایین می آید. اگر پارکینگ در طبقه ی دوم زیر همکف باشد، او چند طبقه با پارکینگ فاصله دارد؟



۳- حاصل عبارت مقابل را به دست آورید. (نوشتن راه حل ها الزامی می باشد).

$$7\frac{1}{5} + 4\frac{1}{2} = 2\frac{3}{5}$$





۱- عزیزم با رسم یک خط عبارت ها را به تعاریف مربوط وصل کنید.

آرامش رومی افراد را به هم می زند

دوست فوب

مایه ی آرامش انسان است

دوستی افراطی

رفتار ما در مقابل درفواست نابجا

گفتن نه

داشتن رفتار متفاوت

۲- سه نکته در مورد مهارت « نه گفتن » که باید مورد توجه قرار دهیم را بنویسید.

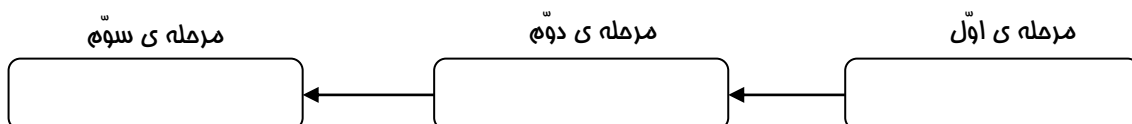


.....

.....

.....

۳- مراحل تصمیم گیری را بنویسید.



۴- در جدول عوامل مؤثر در کشاورزی را بنویسید.



عوامل انسانی

عوامل طبیعی

۱- .....

۲- .....

۳- .....

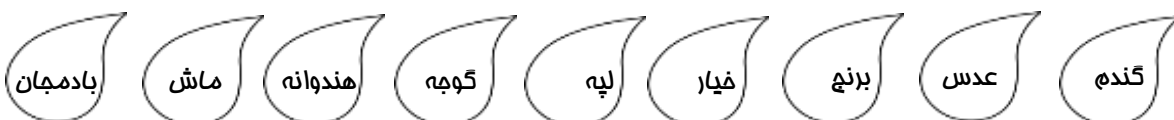
۴- .....

۱- .....

۲- .....

۳- .....

۵- موارد مطرح شده را در جدول دسته بندی کنید.



ممصولات جالیزی

مبوبات

غلات

نام و نام خانوادگی:

دبستان دفترانه علوی شعبه امامت

مرور هفته ی اول

پیک دوره ای شماره ی ۱

خانم .....

علوم

۱- مواد طبیعی و مواد مصنوعی را تعریف کنید .



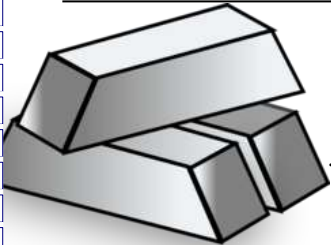
۲- مراحل ساخت کاغذ را بنویسید .



۳- یکی از راه های مناسب حفظ منابع طبیعی ..... است .



۴- چهار مورد از ویژگی های فلزات را بیان کنید .



۵- اسیدها به چند گروه تقسیم می شوند؟ برای هر کدام مثالی بزنید .

۱- آیات زیر را معنی کنید :

الف ( برگ درفتان سبز در نظر هوشیار)

هر ورقش دفتری ست معرفت کردگار

.....

ب ( فیز و غنیمت شمر جنبش باد ربیع)

نامه ی موزون مرغ ، بوی فوش لاله زار

.....

ج ( بیندافت چون باد فَمّ گمند)

سَر جادو آورد ناگه به بند

.....

۲- کلم دو هم خانواده برای هر کدام بنویس.

عامل ..... و .....

شهد ..... و .....

۳- در بیت زیر کدام آرایه ی ادبی به کار رفته است ؟

بزد تیغ و بنداخت از بر سرش      فروریخت چون رود خون از برش

۱- جاهای خالی را پر کنید .

الف ( نظم و هماهنگی که در جهان اطراف ما وجود دارد نشانه ی ..... می باشد .

ب ( فداوند در سوره ی ممد از قیامت به نام ..... یاد کرده است .

ج) بسیاری از گناهان مردم به خاطر از یاد بردن ..... است .

