



موضوع:

تاریخ:

نام و نام خانوادگی:

هدف:

۲ با توجه به بیت زیر به پرسش‌های آن پاسخ دهید.


فجر تا سینه‌ی آفتاب شکافت چشم بیدار علی خفته نیافت

الف) به نثر ساده بازنویسی کنید.

ب) قافیه را در این بیت مشخص کنید.

پ) از بیت دو کلمه‌ی متضاد بنویسید.

۳ نمودار زیر را کامل کنید.



۴ عبارت «سرد و گرم چشیده، کتایه از چیست؟»


مطالعات اجتماعی

۱ عبارات مرتبط را به یکدیگر وصل کنید.

- | | |
|-----------|---|
| پاکستان | مرقد مظهر حضرت علی (ع) در این کشور است. |
| قطر | کشوری که از طریق دریا با ایران ارتباط دارد. |
| افغانستان | مردم این کشور همسایه مسلمان نیستند. |
| عراق | در این کشور نوروژ را «عالم‌افروز» می‌گویند. |
| ارمنستان | |

۲ برچسب‌های مربوط به نام کشورها را در جای مناسب بچسبانید.

	همسایگان شمالی ایران
	همسایگان جنوبی ایران





موضوع:

تاریخ:

نام و نام خانوادگی:

هدف:



۳ پاسخ کوتاه دهید.

الف) برای این که یک فرد از کشور خارج شود به چه چیزهایی نیاز دارد؟

ب) مرز یعنی چه؟

پ) وظیفه پاسگاه‌های مرزی چیست؟

هدیه‌های آسمان - قرآن

۱ جملات زیر را با کلمات داده شده کامل کنید.

ژاله - دو کوهه - شلمچه - چغبه - گمنام - جانبازان

الف) پارچه‌ای که رزمندگان اسلام در دوران دفاع مقدس به دور گردن خود می‌انداختند نام دارد.

ب) روز هفده شهریور سال ۱۳۵۷ جوانان زیادی در میدان شهر تهران به شهادت رسیدند.

پ) یادگان محل تجمع رزمندگان اسلام و اعزام آن‌ها به خط مقدم بود.

ت) سرزمین شقایق‌های پرپر، نام دارد.

ث) عزیزی که حتی نام و نشان‌شان را تقدیم خدا نموده‌اند، شهدای نام دارند.

۲ معنی کلمات را روبه‌روی آن‌ها بنویسید.

<input type="text"/>	اطیعوا	<input type="text"/>	خبیر
<input type="text"/>	تقلون	<input type="text"/>	مفلحون





موضوع:

تاریخ:

نام و نام خانوادگی:

هدف:

ریاضی

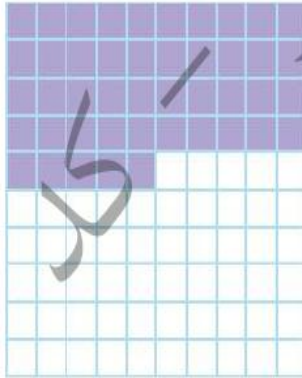
۱ ۷۵ درصد را به صورت شکل نمایش دهید.

.....

.....

.....

۲ در شکل زیر نسبت خانه‌های رنگی به کل را به صورت اعشار، کسر و درصد نشان دهید.



درصد: کسر: اعشار:

۳ اختلاف ۴۰٪ عدد ۸۰ را با ۲۰٪ عدد ۶۰ به دست آورید.

.....

.....

۴ دانش آموزان کلاس ششم دبستان علوی ۹۰ نفر هستند. اگر این تعداد ۱۲٪ همه‌ی دانش آموزان این دبستان باشد. دانش آموزان این دبستان چند نفر می‌باشند؟

.....

.....





موضوع:

تاریخ:

نام و نام خانوادگی:

هدف:



درصد مربوط به هر کسر را در جای خود بنویسید.

$\frac{3}{35}$ →

$\frac{3}{8}$ →

$\frac{3}{20}$ →

$\frac{3}{5}$ →

$\frac{3}{12}$ →

$\frac{1}{16}$ →

علوم

۱ دو شکل در ارتباط با معرفی و حفظ محیط طبیعی که وجود دارد را نام ببرید.

.....

.....

۲ به نظر شما چه عواملی سبب از بین رفتن (جانور یا گیاه) می‌شود؟ (دو مورد)

.....

.....

۳ در طول تاریخ جانوران و گیاهانی بوده‌اند که اکنون وجود ندارند. در این باره دو مثال بزنید.

.....

.....

۴ مسئولیت حفظ محیط‌های طبیعی در کشور ما به عهده‌ی چه سازمان‌هایی است؟

الف) سازمان حفاظت از
ب) سازمان

فارسی

۱ جدول زیر را کامل کنید.

معنی	ترکیب	
<input type="text"/>	<input type="text"/>	همی + طلب
<input type="text"/>	<input type="text"/>	همی + دار
<input type="text"/>	<input type="text"/>	همی + رفت

