



نام و نام خانوادگی

تاریخ

موضوع: ریاضی

هدف:

۱- شعاع صیخ دو چیرهای برابر ۹۰ سانتی متر است. اگر این دو چیره ۵۰ دور بنزند، در کل چند متر اطمی کرده است؟

۲- حاصل عبارت های زیر را بدست آورید.

الف)  $2 \times \frac{0.5 \times 1.8}{1.8 - 1.5} =$

ب)  $(3.2 + 1.2) \times (0.78 + 0.21) =$

الف)  $128,72 \overline{) 10,32}$

۳- تقسیم های زیر را بدست آورید.


ب)  $36 \overline{) 412}$

۴- ضخامت یک کتاب ۵۰۰ صفحه ای ۲۴ میلی متر است. ضخامت هر برگ آن چند میلی متر می شود؟

۵- محیط صیخ های کوچک و بزرگ یک ترکتور به ترتیب ۲۴ و ۳۶ متر است. الف) مسافتی که ترکتور طی می کند را حساب کنید. ب) اگر صیخ بزرگ ۱۴۴ دور بنزند، صیخ کوچک چند دور می زند؟

بازخورد:

Handwritten feedback area with horizontal lines.



علوی

بنام خداوند جان و خرد

پایه:

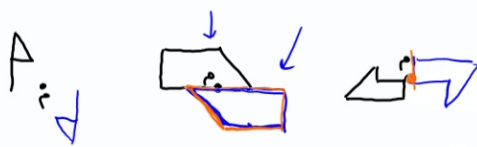





موضوع:

تاریخ:

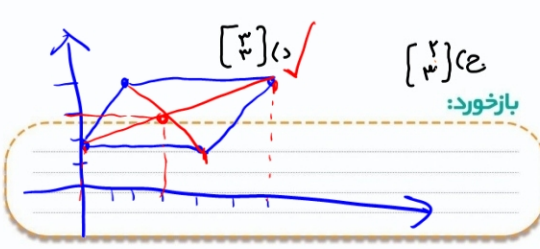
نام و نام خانوادگی:

هدف:



$$\frac{4+2}{2} = 3$$

۵- مختصات محل برخورد قطرهای متوازی الاضلاع که مختصات آن  $(2,3)$ ,  $(4,6)$ ,  $(6,4)$ ,  $(4,2)$  باشد را بنویسید.



کدام بزرگتر است؟  
الف)  $(4,3)$     ب)  $(3,4)$     ج)  $(3,3)$

