



ارمغان هفته - ششم دبستان

شماره‌ی

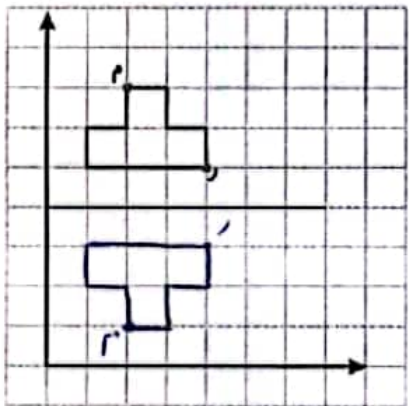
۲۲

نام و نام خانوادگی: تاریخ: نام آموزگار:

- ریاضی < دوره‌ی نیمسال دوم
- علوم < دوره‌ی نیمسال دوم
- فارسی < دوره‌ی نیمسال دوم
- مطالعات اجتماعی < دوره‌ی نیمسال دوم
- هدیه‌های آسمان < دوره‌ی نیمسال دوم
- قرآن < دوره‌ی نیمسال دوم

ریاضی

- ۱) جاهای خالی را با کلمه‌های مناسب کامل کنید.
 - الف) کوچک‌ترین مخرج مشترک دو کسر $\frac{1}{6}$ و $\frac{1}{3}$ عدد می‌باشد.
 - ب) متمم زاویه 77° زاویه درجه می‌باشد.
 - پ) قطع شده‌ی عدد $5\frac{3}{4}$ با تقریب رقم یکان عدد می‌شود.
 - ت) 736 گرم برابر کیلوگرم می‌باشد.




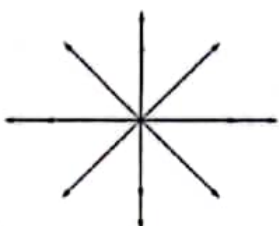
- ۲) مختصات نقاط قرینه‌ی M و R بنویسید.

$$M = \begin{bmatrix} 2 \\ 1 \end{bmatrix} \quad R = \begin{bmatrix} 4 \\ 3 \end{bmatrix}$$

- ۳) دور اعداد صحیح خط بکشید.

10 $-\frac{2}{5}$ $+\frac{100}{5}$ $\frac{12}{3}$ $+\frac{1}{4}$ 1097 $-4/05$ 108

- ۴) شکل زیر را حداقل چند درجه بچرخانیم تا شکل روی خودش بیفتد؟



۵ در پرتاب یک تاس احتمال آمدن کدام پیشامد بیش از ۵۰٪ است؟

۴ کم تر از ۵ بیاید ✓

۳ مضرب ۳ باشد

۲ بیش تر از ۴ بیاید

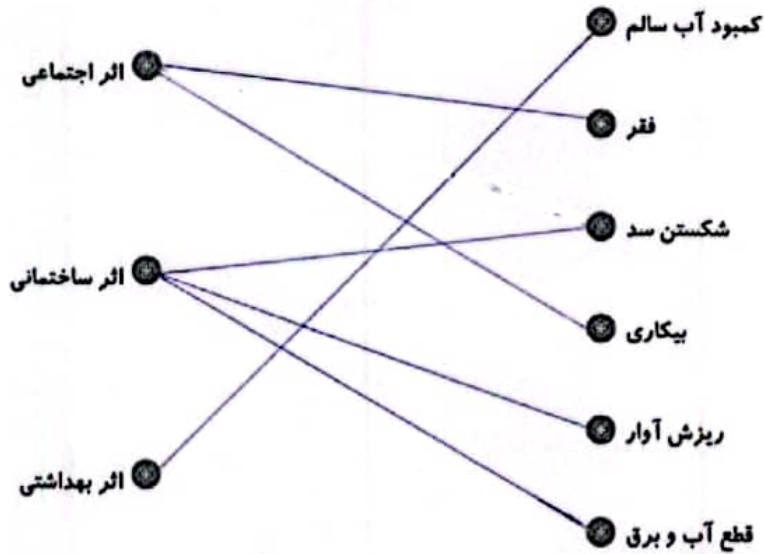
۱ عدد زوج باشد

علوم

۱ فرزندانم، برچسب تصاویر باکتری هر بیماری را زیر نام آن بچسبان.

وبا	آنفلوآنزا	روماتیسم قلبی	سل

۲ عبارات مرتبط را به هم وصل کنید.



۳ جاهای خالی را کامل کنید.

الف) نیروی اصطکاک همواره حرکت بر جسم اثر می کند.

ب) دانشمندان معتقدند منبع اصلی بیش تر انرژی هایی که ما در زندگی مصرف می کنیم است.

پ) در زنجیره ی غذایی حلقه ی اول همیشه یک است.

ت) به گلبول های سفیدی که میکروب ها را می خورند گفته می شود.

تاریخ‌های زیر را به مناسبت‌های آن وصل کنید. (یک مورد اضافی است).

- | | |
|--------------------|------------------------------|
| ● ۲۹ اسفندماه ۱۳۲۹ | ● آتش‌بس بین ایران و عراق |
| ● ۵ مرداد ۱۳۶۷ | ● شروع ۸ سال جنگ تحمیلی |
| ● ۳۱ شهریور ۱۳۵۹ | ● روز ملی شدن صنعت نفت ایران |
| ● ۲۲ بهمن ۱۳۵۷ | ● روز آزادسازی خرمشهر |
| ● ۳ خرداد ۱۳۶۱ | |

مفاهیم زیر را تعریف کنید.

الف) سفرنامه: ... جایی که در آن، دیده‌ها و سینه‌ها، حقایق خود را از سفرها بیان می‌نویسند. ...
 ب) مستعمره: ... مسیری است که استقلال، میسر و ایمنی را می‌بخشد. ...
 پ) تنگه: ... راهی است که دو دریا را از هم جدا می‌کند. ...

هدیه‌های آسمان - قرآن


مفاهیم زیر را تعریف کنید.

ولایت: ... منظور از ولایت، در اینجا ... است.
 معاد: ... مرگ و زنده شدن است.

امام خمینی (ره) چه دعوایی در حق کودکان کردند؟ خداوند تعالی ما را چه دعوی معقول کند.

نام میوه‌های زیر به عربی نوشته شده است. برچسب تصویر هر کلمه را زیر آن بچسبانید.

رَمَان عِنَب تَفَاح نَخْل



<ul style="list-style-type: none"> گزارش نویسی آشنایی با وقایع تاریخی در ایران مفهوم سفرنامه، مستعمره آشنایی با اصل ولایت و معاد معانی واژه‌های قرآنی 	<ul style="list-style-type: none"> شناخت اعداد صحیح و کسری شناخت درصد، تقارن و احتمال شناخت عوامل بیماری‌زا اثرات حاصل از زمین لرزه آشنایی با نهاد و فعل 	<p>شاخص‌ها</p> <ul style="list-style-type: none"> خشک‌خوب خوب قابل قبول باز به تلاش بیشتر
--	---	---