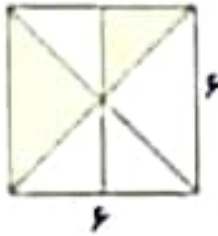
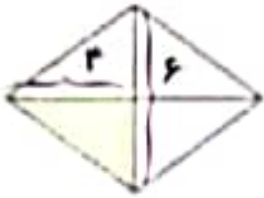
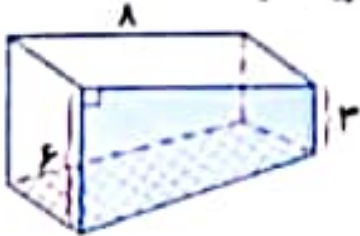


۷) در هر شکل مساحت قسمت رنگ شده را به دست آورید.



۸) مهندس معماری می خواهد یکی از دیواره های ورودی پارکینگ مرکز خریدی را با نوعی سنگ مخصوص مربع شکل پوشش دهد.

اگر قطر هر سنگ مربع شکل، ۲ متر باشد. تعداد سنگ های لازم برای پوشاندن دیواره ی رنگی را پیدا کنید.



۹) اگر مساحت یک لوزی ۲۴ سانتی متر مربع باشد، اندازه ی قطرهای آن چند است؟ (سه حالت جواب بنویسید).

۱۰) اگر اندازه ی قطرهای یک لوزی را ۵ برابر کنیم، اندازه ی مساحت آن چند برابر خواهد شد؟

۱۱) اگر قطر کوچک یک لوزی ۴۰ سانتی متر و نسبت قطر کوچک به بزرگ آن، ۴ به ۷ باشد آن گاه مساحت این لوزی چند است؟