



مدت پاسخ گویی
۱۱۰ دقیقه

تاریخ برگزاری:

نام آموزگار:

نام کلاس:

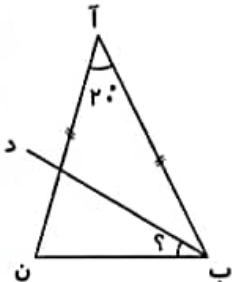
نام و نام خانوادگی:

ردیف	سؤالات ریاضی پنجم دبستان (صفحه اول)
۱	<p>گزینه صحیح را مشخص کنید.</p> <p>الف) در نمودار دایره‌ای، هر قسمت چه نسبتی را نشان می‌دهد؟</p> <p>(۱) نسبت یکی از داده‌ها به کل آن <input type="checkbox"/></p> <p>(۲) نسبت کل داده‌ها به یکی از آن‌ها <input type="checkbox"/></p> <p>(۳) نسبت یک داده به داده‌ی دیگر <input type="checkbox"/></p> <p>(۴) نمی‌توان مشخص کرد <input type="checkbox"/></p> <p>ب) کدام یک از شکل‌های زیر محور تقارن <u>ندارد</u>؟</p> <p>(۱) لوزی <input type="checkbox"/> (۲) مربع <input type="checkbox"/> (۳) متوازی‌الاضلاع <input type="checkbox"/> (۴) مستطیل <input type="checkbox"/></p> <p>ج) کدام گزینه با کسر $\frac{4}{9}$ تشکیل تناسب نمی‌دهد؟</p> <p>(۱) $\frac{8}{18}$ (۲) $\frac{12}{27}$ (۳) $\frac{16}{36}$ (۴) $\frac{20}{36}$</p>
۲	<p>درستی یا نادرستی عبارات زیر را مشخص کنید.</p> <p>الف) پنج ضلعی منتظم مرکز تقارن ندارد. <input type="radio"/></p> <p>ب) مقدار آبی که در مکعبی به ضلع ۱۰ سانتی‌متر جا می‌شود، برابر با یک لیتر است. <input type="radio"/></p> <p>ج) ذوزنقه‌ی قائم‌الزاویه یک خط تقارن دارد. <input type="radio"/></p> <p>د) میانگین دو عدد زوج - همواره زوج است. <input type="radio"/></p>
۳	<p>در جای خالی کلمه مناسب بنویسید.</p> <p>الف) $\frac{1}{5}$ لیتر برابر با سانتی‌متر مکعب است.</p> <p>ب) خط تقارن زاویه را می‌نامند.</p> <p>ج) نسبت محیط دایره به قطر آن همواره عددی ثابت و برابر با است.</p> <p>د) درصد آن است.</p>
۴	<p>با توجه به الگوی شکل‌های زیر، جدول را کامل کنید و به سؤال‌های آن پاسخ دهید.</p> <p></p> <p>الف) شکل سی ام از چند چوب‌کبریت درست شده است؟</p> <p>.....</p> <p>.....</p> <p>ب) آیا شکلی وجود دارد که از ۵۹ چوب‌کبریت درست شده باشد؟</p> <p>.....</p> <p>.....</p>
۵	<p>آرش ساعت $38^{\circ} : 24' : 8''$ از منزل خارج شد و ساعت $3: 21'$ بعد از ظهر به منزل بازگشت. او چه مدت بیرون از منزل بوده است؟</p> <p>.....</p> <p>.....</p>



گدوت پاسخ گویی
۱۱۰ دقیقه

تاریخ برگزاری: / /

سؤالات ریاضی پنجم دبستان (صفحه دوم)	ردیف
<p>برای دوختن یک لباس $2\frac{1}{3}$ متر پارچه لازم است با $10\frac{1}{4}$ متر پارچه حداکثر چند لباس می توان دوخت؟</p> <p>.....</p> <p>.....</p>	۶
<p>زمانی که ناهید به دنیا آمد مادرش ۲۴ ساله بود اگر اکنون نسبت سن آن ها $\frac{5}{4}$ باشد پس هر کدام را به دست آورید.</p> <p>.....</p> <p>.....</p>	۷
<p>قیمت کتابی ۶۸۰۰ تومان است. اگر ۲۰٪ آن را تخفیف بگیریم:</p> <p>الف) چند تومان تخفیف گرفته ایم؟</p> <p>.....</p> <p>.....</p> <p>ب) چند تومان پرداخت کرده ایم؟</p> <p>.....</p> <p>.....</p> <p>.....</p>	۸
<p>در شکل زیر اندازه زاویه ی خواسته شده را حساب کن.</p> <p>د ب د، نیمساز است.</p>  <p>.....</p> <p>.....</p>	۹



نکته پاسخ گویی
۱۱۰ دقیقه

ریاضی پنجم دبستان

آموزش و پرورش شهر منطقه

دبستان غیردولتی علوی

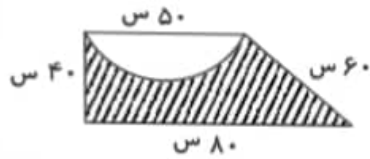
تاریخ برگزاری: / /

آزمون پایان نیمسال دوم

سؤالات ریاضی پنجم دبستان (صفحه سوم)

ردیف

محیط قسمت رنگ شده را به دست آورید؟



۱۰

جرم یک ظرف پر از روغن $3/67$ کیلوگرم است اگر نصف روغن آن را خالی کنیم $2/1$ کیلوگرم وزن خواهد داشت وزن ظرف چند گرم است؟

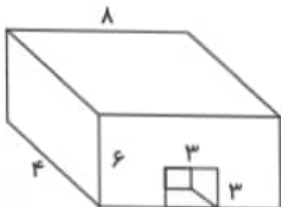
۱۱

میانگین سن بهروز، آریا و دانیال ۱۳ است. سن آریا چند سال است؟

نام بچه‌ها	بهرز	آریا	دانیال	میانگین
سن	۱۲	؟	۱۰	۱۳

۱۲

گنجایش شکل زیر را به دست آورید؟



۱۳

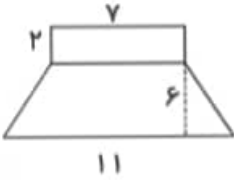


مدت پاسخ گویی
۱۱۰ دقیقه

سؤالات ریاضی پنجم دبستان (صفحه چهارم)

ردیف

مساحت شکل زیر را به دست آورید.



۱۴

.....

.....

.....

ردیف	عنوان	بارم	نمره دانش آموز
۱	کتاب کار علوی	۱/۵	
۲	کاربرگ	۱	
۳	تکالیف کتاب دبستان	۱	
۴	فعالیت کلاسی	۱/۵	
۵	برگه امتحانی	۱۵	
	نمره کل	۲۰	

تاریخ: / /

نام و نام خانوادگی آموزگار: