

ارزشیابی مداد کاغذی

۱ گزینه‌ی درست را انتخاب کنید.

الف) کدام گزینه، از $2\frac{1}{4}$ بزرگ‌تر است؟

$1\frac{3}{4}$ (۲) $\frac{5}{3}$ (۱)

ب) ساده‌شده‌ی حاصل عبارت روبه‌رو کدام است؟

$\frac{6}{12}$ (۲) $\frac{12}{24}$ (۱)

پ) خمس عدد ۴۵ برابر است با:

۵ (۲) ۹ (۱)

$2\frac{1}{8}$ (۴) $\frac{10}{4}$ (۳)

$\frac{1}{2}$ (۴) $\frac{3}{4}$ (۳)

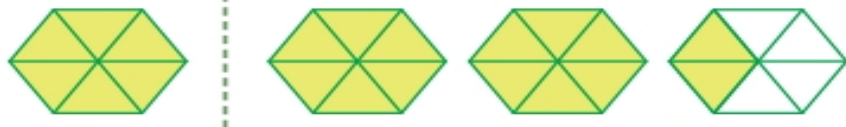
۱۰ (۴) ۸ (۳)

۳ امتیاز

$$\frac{6}{8} \times \frac{2}{3}$$

۲ عدد مخلوط و کسر مربوط به قسمت رنگ‌شده‌ی شکل زیر را بنویسید.

۲ امتیاز



کسر:

عدد مخلوط:

۳ عددهای زیر را از کوچک به بزرگ مرتب کنید.

..... < < < <

۶ امتیاز

$$3 \quad \frac{11}{3} \quad \frac{1}{5} \quad 1\frac{3}{7} \quad \frac{11}{4}$$

۴ حاصل عبارتهای زیر را به دست آورید.

الف) $\frac{1}{2} - \frac{1}{7} =$

ب) $2\frac{5}{6} + 1\frac{2}{3} =$

پ) $2\frac{2}{5} + 4 =$

ت) $\frac{2}{4} \div 6 =$

ث) $7\frac{2}{3} - (2\frac{1}{5} + 4\frac{2}{3}) =$

۵ امتیاز

۵ در فرودگاهی هر نیمساعت، یک هواپیما از زمین بلند می‌شود. در ۴ ساعت چند هواپیما از این فرودگاه به پرواز درمی‌آید؟


۲ امتیاز

۲ امتیاز



۶ امید ورزشکار است. او روز شنبه $2\frac{5}{7}$ ساعت و روز دوشنبه $1\frac{6}{7}$ ساعت ورزش کرده است. او در این دو روز چند ساعت ورزش کرده است؟

۴ امتیاز



۷ شیرین $\frac{3}{5}$ از کتاب ۲۰۰ صفحه‌ای خود و مریم $\frac{6}{10}$ از کتاب ۱۸۰ صفحه‌ای خود را خوانده است. کدام یک صفحات بیشتری خوانده است؟ چقدر بیشتر؟

۵ امتیاز


الف) $15 \times \frac{1}{5} = \dots\dots\dots$

پ) $\frac{1}{3} \div 12 = \frac{1}{3} \times \dots\dots\dots = \dots\dots\dots$

ب) $9 \div \dots\dots\dots = \frac{9}{5}$

ت) $\dots\dots\dots - \frac{2}{8} = 5\frac{2}{8}$

۸ جاهای خالی را پر کنید.

۲ امتیاز	<p>۹ حاصل ضرب $2\frac{1}{3} \times 1\frac{1}{2}$ را با رسم شکل به دست آورید.</p> 
۲ امتیاز	<p>۱۰ برای ضرب روبه‌رو مسئله بنویسید و آن را حل کنید.</p> $\frac{3}{5} \times 10 =$

آزمون ۳۳ امتیازی



۳۲ تا ۳۳ امتیاز | ۲۹ تا ۳۱ امتیاز | ۲۲ تا ۲۸ امتیاز | کمتر از ۲۲ امتیاز

نظر آموزگار

امتیاز



امتیاز کسب شده

۳۳

امتیاز کل