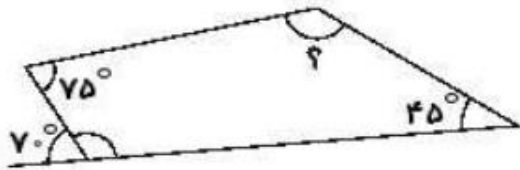
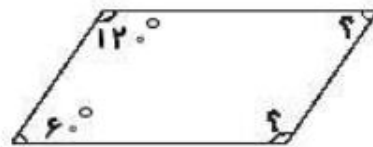




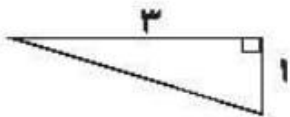
۲ در شکل‌های زیر اندازه‌ی زاویه‌های (؟) را به دست بیاور.



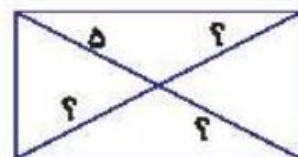
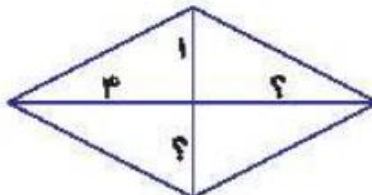
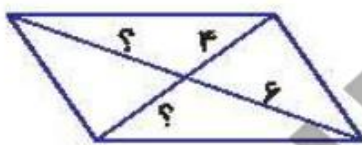
۳ متوازی‌الاضلاعی رسم کنید که قطرهای آن ۶ و ۴ باشد و روی خط‌های زیر قرار بگیرد.



۴ در شکل زیر $\frac{1}{4}$ از یک لوزی داده شده است، شکل را کامل کن.



۵ در هر شکل اندازه‌ی قسمت مشخص شده را حساب کن.



تمرین



۱ هر عبارت را به پاسخ صحیح خود وصل کن.

مستطیل

لوزی

متوازی‌الاضلاع

در قطرها عمود بر یکدیگرند.

در زاویه‌های روبه‌رو با هم مساوی ولی قائمه نیستند.

در قطرها با هم برابرند.

