
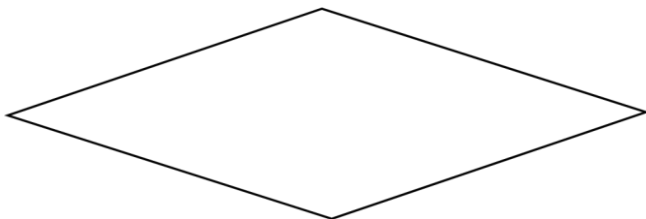
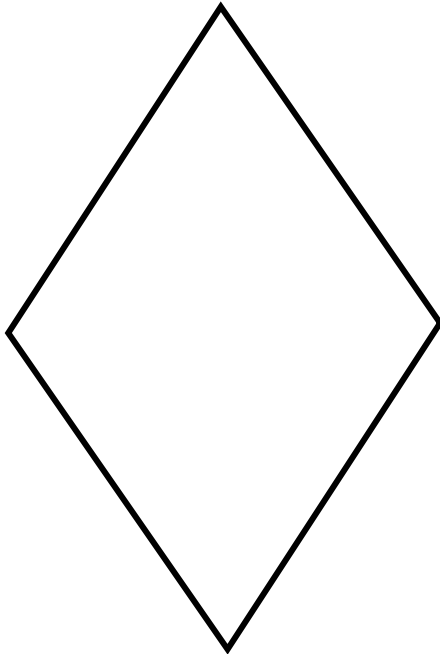



الف) در هر یک از شکل های زیر قطر ها را رسم کرده

ب) محل برخورد قطر ها را علامت گذاری کنید و با استفاده از طلق، 180° درجه در جهت عقربه های ساعت دوران دهید

ج) از راس ها (گوشه های چهارضلعی) تا محل برخورد قطر ها اندازه گیری شود.



با انجام این فعالیت دریافتم که.....

.....