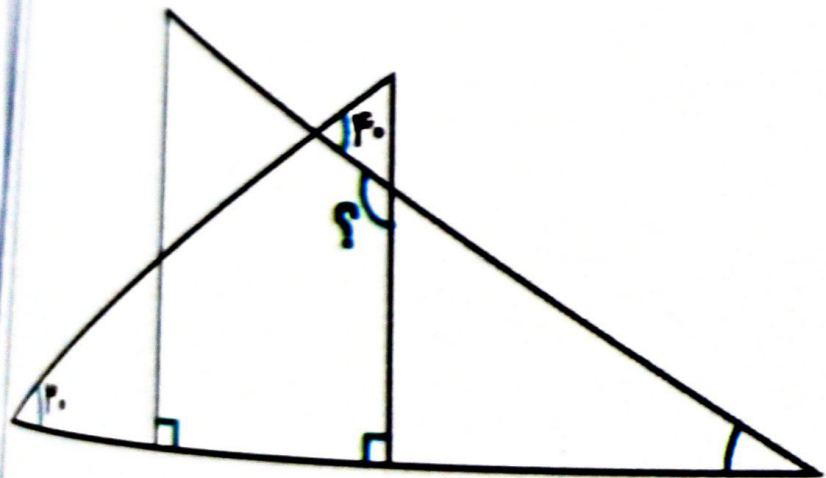
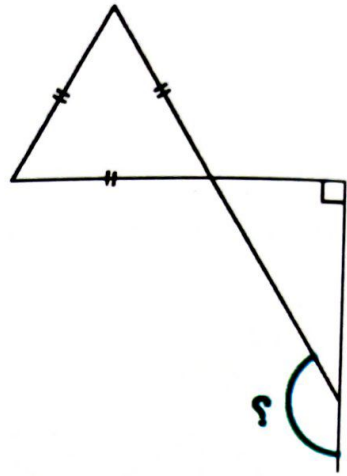
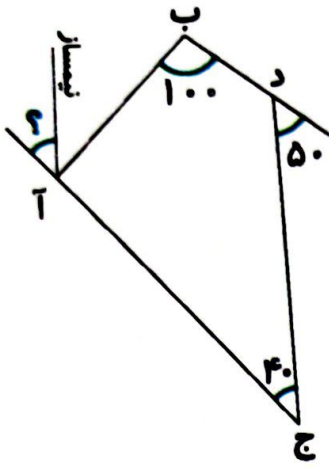


۹. ۳۰٪ زاویه‌ی نیم صفحه، چند درصد یک زاویه‌ی قائمه است؟

۱۰. اندازه‌ی زاویه‌ی خواسته شده را حساب کن.



۶. اندازه‌ی زاویه‌های خواسته شده را بنویس.

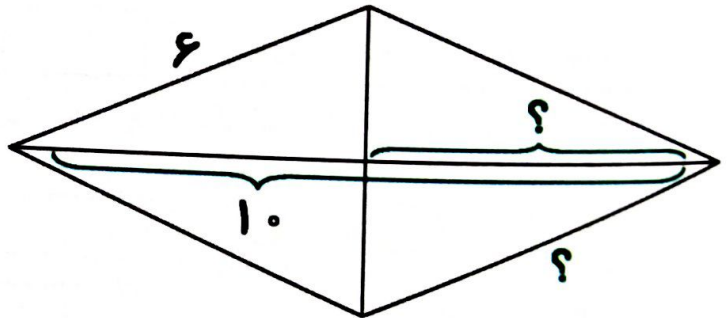
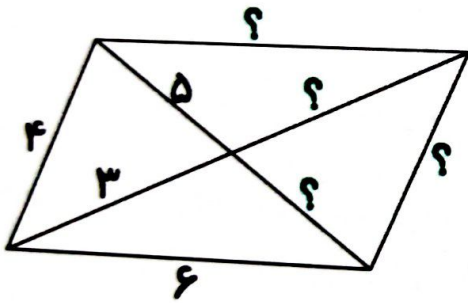


.....

.....

.....

۷. در شکل‌های زیر، اندازه‌های خواسته شده را بنویس.



.....

.....

.....

۸. نسبت زاویه‌های یک مثلث ۱، ۲ و ۳ است. مجموع بزرگ‌ترین زاویه و کوچک‌ترین زاویه چقدر است؟

این مثلث چه نوع مثلثی است؟ آن را رسم کن.

.....

.....

.....

.....