

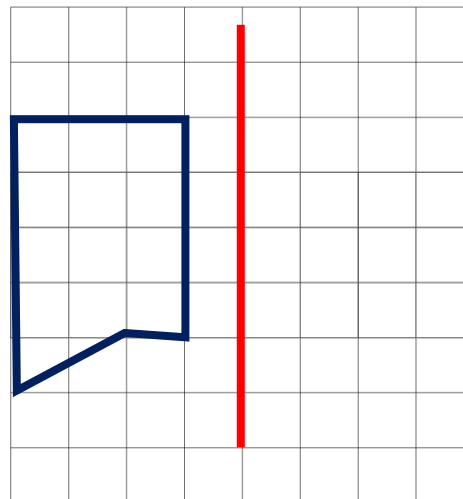
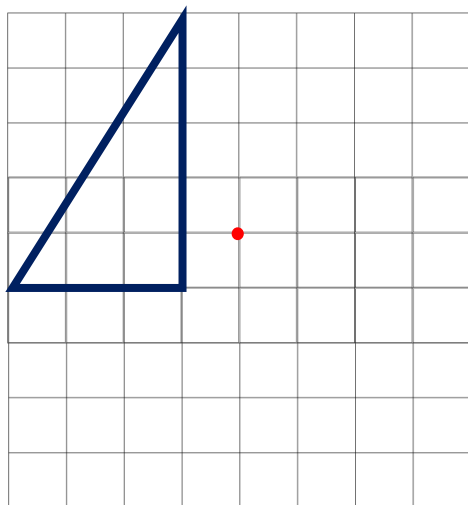
نام و نام خانوادگی:

دبستان پسرانه‌ی علوی (شعبه منیریه)






موضوع: فصل‌های ۵ و ۴




۱- قرینه‌ی هر شکل را نسبت به مرکز تقارن یا خط تقارن داده شده به دست آورید.

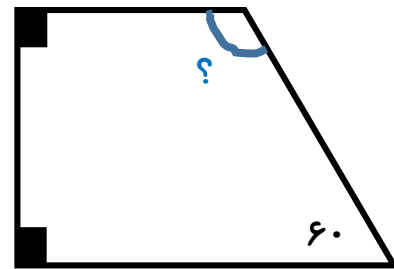
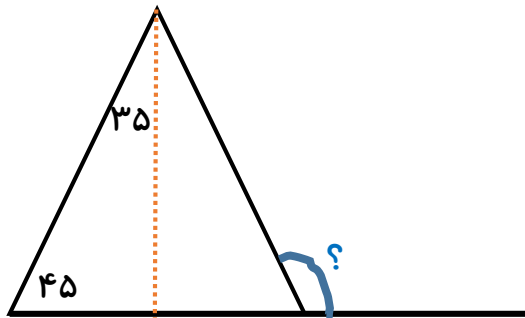
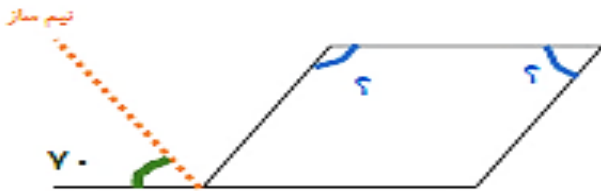


۲- جدول زیر را کامل کنید.

					چهارضلعی
					تعداد زاویه‌های راست
					ضلع‌های روبه‌رو باهم موازی‌اند
					زاویه‌های روبه‌رو باهم برابرند
					همه‌ی ضلع‌ها برابرند
					تعداد خط‌های تقارن



۳- اندازه‌ی زاویه‌های خواسته شده را به دست آورید.



تیم ساز

۴- به پرسش‌های زیر پاسخ دهید.

الف) در کدام چهارضلعی‌ها قطرها بر هم عمودند؟

ب) در کدام چهارضلعی‌ها قطرها یکدیگر را نصف می‌کنند؟

پ) در کدام چهارضلعی‌ها همه‌ی زاویه‌ها راست هستند؟

ت) در کدام چهارضلعی‌ها هر چهار ضلع با هم برابرند؟

ث) در کدام چهارضلعی تنها دو ضلع موازی هستند؟





۵- کسرهای زیر را به صورت اعشار بنویسید.

$$\frac{3}{5}$$

$$\frac{2}{100}$$

$$\frac{4}{1000}$$

$$\frac{7}{20}$$

$$\frac{1}{4}$$

$$\frac{5}{8}$$

۶- عدد ۸۹/۰۱۲ را در نظر بگیرید و به سوالات پاسخ دهید.

الف) این عدد را به حروف بنویسید.

ب) ارزش مکانی کدام رقم از همه بیشتر است؟

ج) ارزش مکانی کدام رقم از همه کمتر است؟

د) ارزش مکانی رقم ۱ را بنویسید.

۷- جاهای خالی را با عدد مناسب پر کنید.

الف)  $\frac{4}{3}$  برابر است با .....  $\frac{0}{1}$

ب)  $\frac{0}{56}$  دهم بین ..... دهم و ..... دهم قرار دارد.

پ)  $10$  تا  $1000$  می شود ..... و  $10$  تا  $100$  می شود .....

ت)  $\frac{73}{100}$  یعنی ..... صدم یا ..... دهم و ..... صدم.

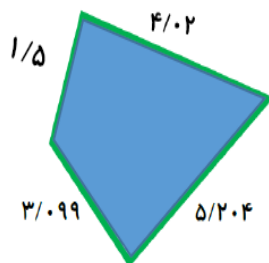


۸- جاهای خالی را با عدد مناسب پر کنید.

$$\begin{array}{r} 5 / \square 3 \\ + \\ 1 / 7 \square \\ \hline 6 / 9 2 \end{array}$$

$$\begin{array}{r} 2 6 / \square 4 \\ - \\ 1 0 / 3 1 \\ \hline 1 \square / 7 3 \end{array}$$

۹- محیط شکل را به دست آورید.



۱۰- جرم ظرف پر از مربایی  $2/5$  کیلوگرم است. اگر جرم شیشه ی آن  $0/47$  کیلوگرم باشد،

جرم مربا چقدر است؟

۱۱- آقای اسدی  $9/25$  کیلوگرم میوه خریده است. اگر قیمت هر کیلوگرم میوه  $28000$  تومان

باشد؛ قیمت کل میوه ها چند تومان است؟