

# بَابُ اللَّهِ الرَّحْمَنِ الرَّحِيمِ

دورهی فصل اول (ریاضی)

۱- در عدد ۲۳۴۶۷۵۹۱۰۰۸ :

الف) رقم‌های مرتبه‌ی میلیارد را بنویسید.

ب) رقم‌های ۶ و ۹ در چه مرتبه‌ای قرار دارند؟

پ) اگر این عدد را صد برابر کنیم، ارزش مکانی عدد ۵ چه تغییری می‌کند؟

۲- عملیات زیر را انجام دهید.

۵۷۹

× ۴۲۱

---

۵۴۹۳ | ۳۱

۳- تقریب بزنید.

۲۷۴۹۰۵۳۹  $\xrightarrow{\text{صدهزار}}$

۳۸۹۶۲۶۹  $\xrightarrow{\text{یک هزار}}$

۴- حاصل جمع و تفریق های مرکب زیر را به دست آورید.

ساعت	دقیقه	ثانیه
۷	۱۵	۵۴
- ۲	۱۹	۵۵

سال	ماه	روز
۹	۴	۲۰
+ ۲	۹	۱۲



۵- فرناد ساعت "۳۷' : ۲۵ : ۷ به مدرسه رسید و ساعت " ۴۰' : ۲۳ : ۲ بعد از ظهر از مدرسه خارج شد. او چه مدت در مدرسه بوده است؟

۶- با کامل کردن جدول بگویید، شکل بیست و سوم از چند گل تشکیل شده است؟



(۱)



(۲)



(۳)

شماره شکل	۱	۲	۳	۴
تعداد گل				
رابطه الگو				

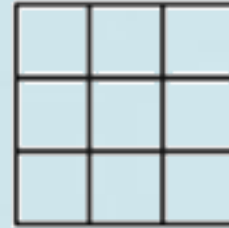
۷- در الگوی زیر شکل دوازدهم چند مربع دارد؟



(۱)



(۲)




(۳)

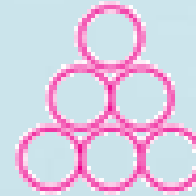
۸- در الگوی زیر شکل پانزدهم چند دایره دارد؟



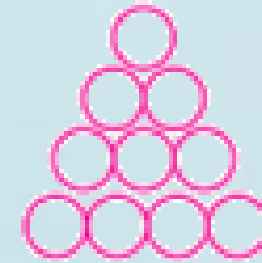
(۱)



(۲)



(۳)



(۴)

