

نام و نام خانوادگی: تاریخ: نام آموزگار:

مطالعات اجتماعی < مرور سال گذشته

هدیه‌های آسمان < مرور سال گذشته

قرآن < مرور سال گذشته

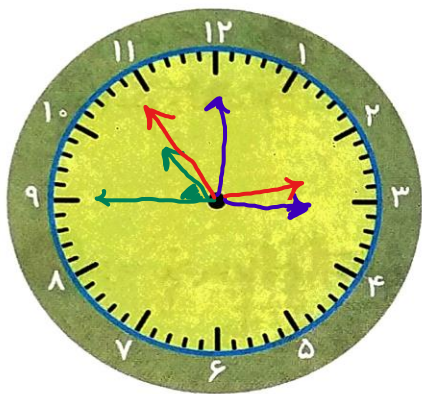
ریاضی < مرور سال گذشته

علوم < مرور سال گذشته

فارسی < مرور سال گذشته

ریاضی

به کمک ساعت زیر نوع زاویه‌ی بین عقربه‌های ساعت شمار و دقیقه شمار را در هر یک از موارد مشخص کنید.

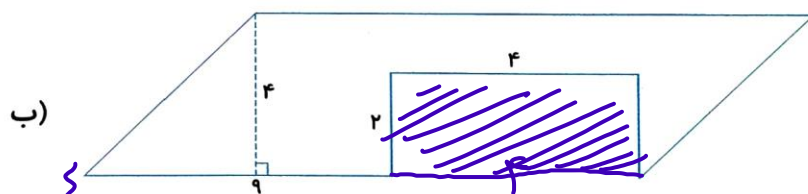
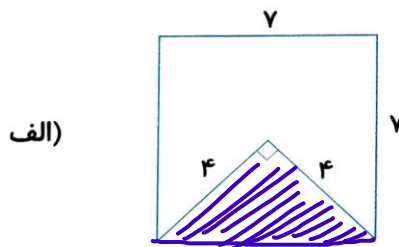


الف) ساعت ۳ بعد از ظهر: **مانده - راست**

ب) ساعت ۱۰ و ۴۵ دقیقه: **تند**

پ) ساعت ۱۴ و ۵۰ دقیقه: **باز**

مساحت شکل‌های زیر را به دست آورید.



مساحت مربع = ضلع \times ضلع = $7 \times 7 = 49 \text{ cm}^2$ مساحت متوازی‌الضلع = ارتفاع \times پایه = $4 \times 9 = 36 \text{ cm}^2$

مساحت مثلث = $\frac{1}{2} (\text{ارتفاع} \times \text{پایه}) = \frac{1}{2} (4 \times 4) = 8$ مساحت مستطیل = عرض \times طول = $2 \times 4 = 8 \text{ cm}^2$

مساحت زین = $49 - 8 = 41 \text{ cm}^2$ مساحت زین = $36 - 8 = 28 \text{ cm}^2$

نشده نشده

مقایسه کنید.

الف) $\frac{99}{100} > \frac{99}{100}$

$\frac{1 \times 8}{3 \times 8} > \frac{3 \times 6}{2 \times 8}$

ب) $\frac{3}{2 \times 6} = \frac{6}{12}$

ت) $\frac{2}{5} < \frac{1}{5}$

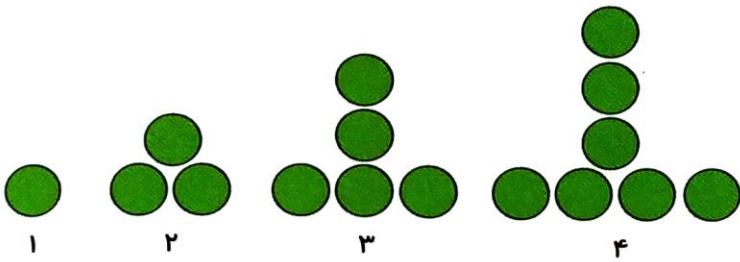
$\frac{100}{100} > \frac{99}{100}$

$\frac{18}{24} > \frac{1}{24}$

$\frac{6}{12} = \frac{6}{12}$



با توجه به الگوی شکل‌های زیر توضیح دهید شکل چهلم از چند دایره درست می‌شود؟



با توجه به عدد روبه‌رو به سؤالات زیر پاسخ دهید.

۲۹۰۲۶۱۶۸

(ب) رقم دهگان هزار آن چند است؟

(الف) این عدد چند رقمی است؟

(ت) رقم یکان میلیون آن چند است؟

(پ) عدد ۰ در کدام مرتبه قرار دارد؟

علوم

از چه روش‌هایی برای جدا کردن مخلوط‌ها می‌توان استفاده نمود؟

سنگ‌های رسوبی چگونه تشکیل می‌شوند؟

جاهای خالی را با کلمات مناسب پر کنید.

(الف) محل غذاسازی گیاهان هستند.

(ب) سنگ مرمر یک نوع سنگ است.

(پ) فراوان‌ترین جانوران روی زمین هستند.

یک زنجیره‌ی غذایی رسم کنید که شامل ۳ جاندار باشد.

۵ آب گرم در لیوان فلزی دیرتر سرد می‌شود یا لیوان کاغذی؟ چرا؟

فارسی

۱ معنی کلماتی که زیر آن‌ها خط کشیده شده است را بنویسید.

الف) آرش باید تیر را به طرف خاور پرتاب کند.

ب) بازرگان قرار شد برای همه سوغاتی بیاورد.

پ) در آن هنگام، حشرات کمیاب می‌شوند.

۲ جملات درهم ریخته زیر را مرتب کنید.

تیرانداز - این - کار بزرگ - کدام - را - خواهد داد - انجام

بازرگان - رسید - پس - چند - شبانه‌روز - از - به - هندوستان

۳ شعر زیر را کامل کنید.

برگ بی حوصله شد

دل هر غنچه تپید

گر خوش آواز بودی و خوش خوان

پر و بالت سیاه رنگ و قشنگ

۴ هم‌خانواده کلمه‌های زیر را بنویسید. (هر کدام دو مورد)

منتظر ← و معلم ←

مطالعات اجتماعی

۱ اولین روستاها چگونه به وجود آمدند؟

جدول بودجه چیست؟

هدیه‌های آسمان - قرآن

۱ در چه مواردی به جای وضو باید تیمم کرد؟

۲ نیکوکاران چه کسانی هستند؟

۳ معنای لغات زیر را بنویسید.

سبع:

السماء:

حسَنات:

- معنای واژه‌ها
- مرتب کردن جمله‌ها
- نحوه‌ی تشکیل روستاها
- آشنایی با جدول بودجه
- آشنایی با صفات نیکوکاران
- معنای واژه‌های قرآنی

- شناخت انواع زاویه
- توانایی به دست آوردن مساحت مثلث و متوازی الاضلاع
- شناخت و مقایسه کسرها
- پیدا کردن ارتباط بین الگوها
- شناخت روش جداسازی مخلوط‌ها
- آشنایی با نحوه‌ی تشکیل سنگ‌ها
- آشنایی با سرعت انتقال گرما

شاخص‌ها

- خیلی خوب
- خوب
- قابل قبول
- نیاز به تلاش بیشتر

