



نام و نام خانوادگی

تاریخ

موضوع:

ریاضی فصل ۱

هدف:

الف) جاهای خالی را با کلمات یا اعداد مناسب پر کنید.

- ۱- بیشترین ارزش مکانی در عدد «۵۰۸۳۰۹۸۱۲۷» رقم است.
- ۲- ۳ ساعت و ۱۷ دقیقه و ۲۰ ثانیه برابر است با ثانیه.
- ۳- به عددهای ۱،۳،۶،۱۰،۱۵،۰۰ می‌گویند.
- ۴- ۷۳۴۵ میلی‌متر یعنی متر و سانتی‌متر و میلی‌متر.
- ۵- ۸۲۷ میلی‌متر یعنی سانتی‌متر و میلی‌متر.
- ۶- ۹۰۶۵ گرم یعنی کیلوگرم و گرم.

۲- مهدی هر شب ساعت ۹:۴۵ می‌خوابد و ساعت ۶:۱۵ از خواب بیدار می‌شود، مدت خواب شبانه‌ی او کدام مورد است؟

۸:۰۰' (۴)

۸:۱۵' (۳)

۸:۳۰' (۲)

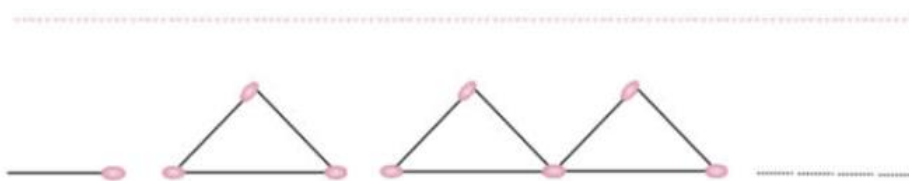
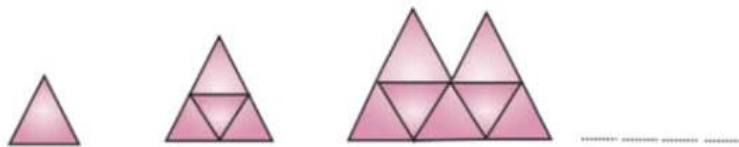
۸:۴۵' (۱)

۳- در تمرین زیر، عدد بعدی را مشخص کنید و بگویید چه الگویی است؟

۱، ۴، ۹، ۱۶،،،،

۱، ۳، ۶، ۱۰،،،،

۴- با توجه به شکل زیر، الگوی بعدی را بکشید.



بازخورد:

Handwriting practice area with dashed lines.





نام و نام خانوادگی

تاریخ

موضوع:


هدف:

۵- جمع و تفریق هارا انجام دهید.

$$\begin{array}{r} 6 \quad 15' \quad 17'' \\ + 2 \quad 29 \quad 34 \\ \hline \end{array}$$

$$\begin{array}{r} 9 \quad 46' \quad 35'' \\ - 5 \quad 15 \quad 42 \\ \hline \end{array}$$

$$\begin{array}{r} 3 \quad 00' \quad 18'' \\ - 1 \quad 25 \quad 42 \\ \hline \end{array}$$

۶- ملخ یک هواپیما در هر ثانیه ۴۰ دور می‌زند. این هواپیما در ساعت ۹:۴۵ از یزد خارج شد و در ساعت ۱۲:۴۸ در شهر کرد فرود آمد. ملخ هواپیما در این مدت چند دور زده است؟ 

۷- $\frac{4}{6}$ ساعت به صورت عدد مرکب چند است؟

۸- عدد مقابل را در جدول ارزش مکانی قرار دهید و سپس به سؤالات زیر پاسخ دهید.

الف) عدد را با حروف بنویسید. ۲۹۰۴۳۰۰۰۲۸۵۶

ب) کدام عدد بیشترین و کدام عدد کمترین ارزش مکانی را دارد؟

ج) رقم صدگان هزار و دهگان میلیون آن چند است؟

د) بزرگترین رقم آن چند است؟ و در چه مرتبه‌ای قرار دارد؟

۹. با رقم‌های ۱، ۳، ۹، ۰، ۴، ۵، بزرگترین و کوچکترین عدد شش رقمی را بنویسید. سپس اختلاف آن‌ها را به دست آورید

.....

.....

.....

