

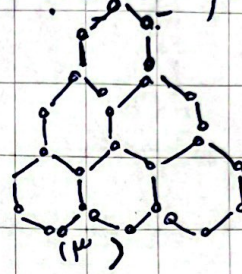
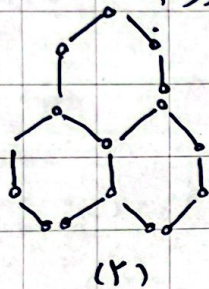
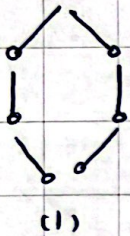
(۱) در یکی از روزهای تابستان طلوع آفتاب صبح شنبه $3^{\circ} : 31' : 6''$ و غروب آفتاب همان روز ساعت $7^{\circ} : 39' : 6''$ عصر می باشد. طول روز در این روز چقدر است؟

(۲) حرکت عبارت ها را به صورت عدد مرکب نمایش دهید.

(۱) 40567 مائت مده ← متر و سانتی متر و میلی مده

(۲) 725004 گرم ← تن و کیلوگرم و گرم

(۳) در آگوی زیر شکل صدم چند خوب کبریت دارد؟



(۴) ارتفاع قله دماوند 5670 متر است. کوهنوردی 3 کیلومتر و 800 متر از آن بال رفته است. او چقدر دیگر باید بال برود تا به قله برسد؟

(۵) مجموع عدد هفتم و عدد هشتم از دنباله ی پیری زیر چند است؟

_____ و 35 و 27 و 18 و 11 و 6