

نام و نام خانوادگی

تاریخ

موضوع: تقسیم کسرها

هدف: یادآوری مرور مثبت تقسیم کسرها ۱۴۰۲۹/۲۷

۱) در ۵ ساعت چندتا $\frac{1}{4}$ ساعت قرار دارد؟ (۱ نمره)

۲) فاطمه $\frac{3}{5}$ یک کتاب را در ۷ روز و نرگس $\frac{1}{5}$ همان کتاب را در ۳ روز خوانده است. هر کدام در هر روز چه کسری از کتاب را خوانده اند؟ (۱ نمره)


۳) $\frac{1}{5}$ محصول یک باغ به طور مساوی به ۴ کشور صادر شده است. چه کسری از محصول این باغ به هر یک از کشورها صادر شده است؟ (۱ نمره)

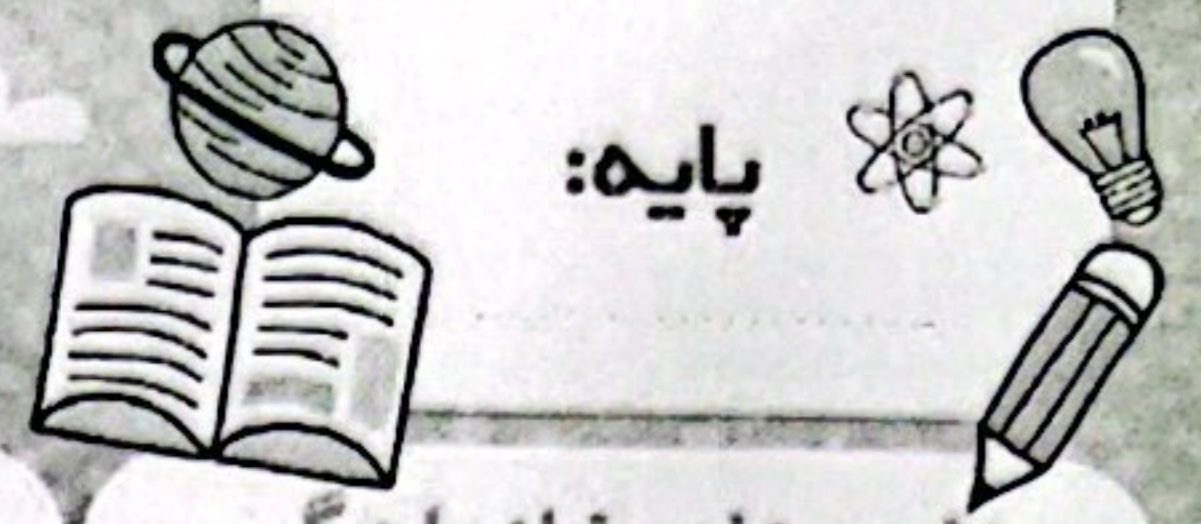
۴) آریان یک پیتزای گرد را به ۶ قسمت مساوی تقسیم کرد و بعد هر قسمت را به دو قسمت مساوی تقسیم کرد. هر تکه ی پیتزا چه کسری از کل پیتزا است؟ (۱ نمره)

۵) می خواهیم 2 کیلوگرم گوشت را در بسته های $\frac{2}{5}$ کیلوگرم بسته بندی کنیم. اگر هر 2 بسته گوشت را در یک کسبه ی پلاستیکی قرار دهیم، به چند کسبه ی پلاستیکی نیاز داریم؟ (۱ نمره)

باز خورد:

Handwriting practice area with dashed lines.



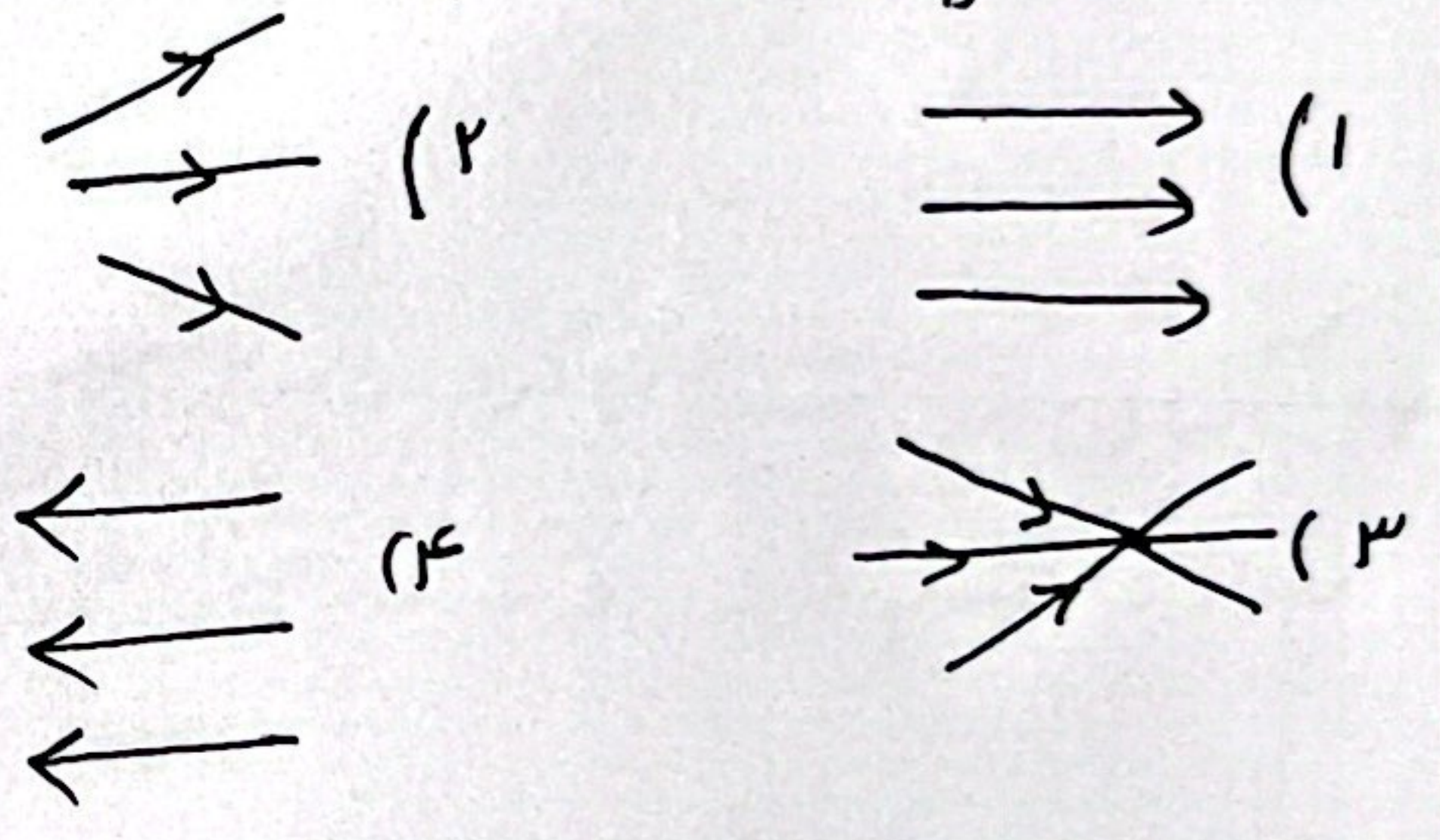
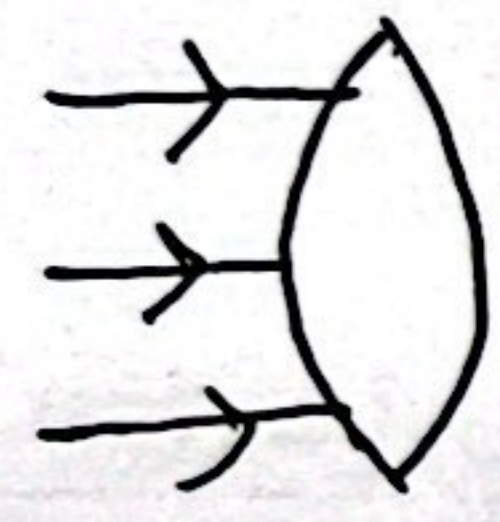


موضوع: علوم فصل ۳
 نام و نام خانوادگی: _____
 تاریخ: ۹/۲۷
 هدف: آمادگی برای آزمون نوبت اول

۱۱) پدر آریا نیشک است. او برای مشاهده ی میکروب ها و سلول های بدن بیماران خود از وسیله ای به نام _____ کمک می کند. ①

۱۲) خانواده ی فرهاد در یک روز آفتابی به کوه رفتند. آنها متوجه شدند که کبریت برای روشن کردن آتش نیاورده اند. خانواده ی فرهاد از وسیله ای بنام _____ استفاده کردند تا آتش درست کنند. ①

۱۳) اگر مسر حرکت پرتوهای نور را به صورت فلش نشان دهیم، بعد از آنکه نور به ذره بین می خورد، پرتوهای نور عبوری از ذره بین به چه صورت خواهد بود. ①



۱۴) اگر یک _____ را بین کاغذ و شمع قرار دهیم، تصویر شعاعی شمع به طور _____ روی صفحه کاغذ تشکیل می شود. ①

۱) منشور - وارونه ۲) ذره بین - مستقیم ۳) منشور - مستقیم ۴) ذره بین - وارونه

۱۵) اگر یک _____ رو به روی شکل → قرار دهیم، علامت فلش به سمت _____ انسان می خورد.

۱) لیوان پر آب - چپ ۲) لیوان پر آب - راست ۳) لیوان خالی چپ ۴) لیوان خالی - راست

باز خورد:

