



شماره‌ی  
۱۶

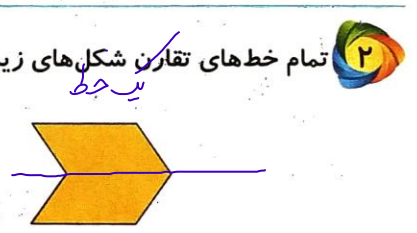

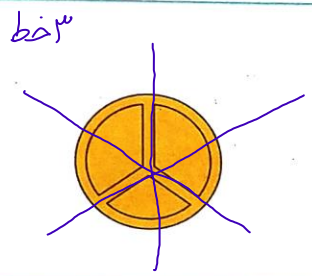
# ارمغان هفته - پنجم دبستان

نام و نام خانوادگی: ..... تاریخ: ..... نام آموزگار: .....

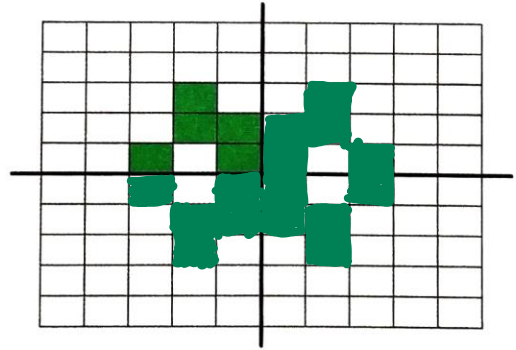
- ریاضی < فصل ۴: تقارن محوری و مرکزی  
 علوم < درس ۶: چه خبر؟ (۱) (۳)  
 فارسی < درس ۱۰: نام نیکو
- مطالعات اجتماعی < درس ۱۱: کشورهای همسایه (۱)  
 هدیه‌های آسمان < درس ۹: یک جهان جشن (۲)  
 قرآن < درس ۶: جلسه‌ی سوم

## ریاضی

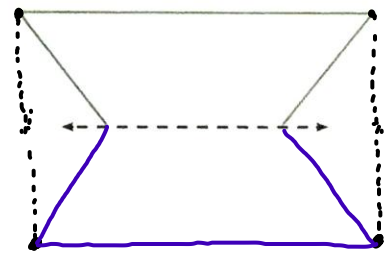
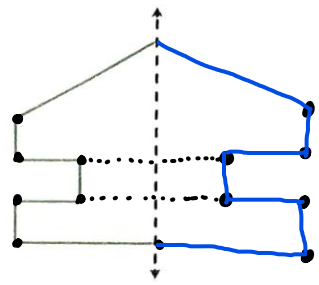
۱ مفاهیم زیر را تعریف کنید و هر یک را روی یک شکل دلخواه نشان دهید.  
 الف) خط تقارن: خطی است که شکل را به دو قسمت مساوی تقسیم کند و فاصله‌ی تمام نقاط مثل هم، از خط تقارن یکسان باشد.  
 ب) تقارن مرکزی: هرگاه سطحی را ۱۸۰ درجه، حول یک نقطه بچرخانیم، تقارن آن را نسبت به نقطه بترسیم کرده‌ایم.



۳ قرینه‌ی شکل زیر را نسبت به دو محور افقی و عمودی بکشید تا الگوی شکل کامل شود.



۴ با توجه به محور تقارن رسم شده، طرف دوم شکل‌های زیر را رسم کنید.



جاهای خالی را با کلمات مناسب کامل کنید.  
الف) متوازی الاضلاع **خط تقارن** ندارد و **مرکز تقارن** دارد.

ب) پاره خط **یک** خط تقارن دارد و مرکز تقارن **دارد**.

پ) مثلث متساوی الاضلاع **۳** خط تقارن دارد و مرکز تقارن **ندارد**.

ت) ۵ ضلعی منتظم **۵** خط تقارن و مرکز تقارن **ندارد**.

### علوم

۱ چگونه می توانید صدای دوستان را بشنوید؟ **هنگامی که امواج صوتی را لالهی گوش جمع آوری می کند، لرزش آن از طریق مجرای شنوایی به پرده می خورد و آن را می لرزاند، سپس استخوانچه ها و بعد از آن حلزون می لرزد و در نهایت گیرنده های شنوایی پیام را به مغز ارسال می کنند.**

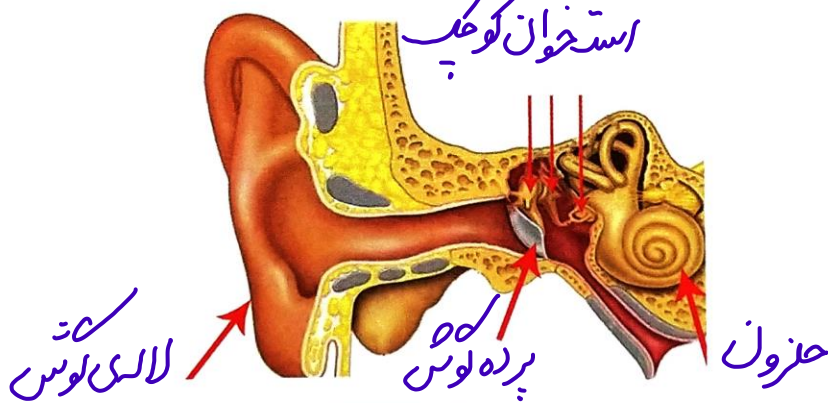
۲ افراد کم شنوا برای رفع این مشکل چه می کنند؟

**از سمعک استفاده می کنند.**

۳ کامل کنید.  
الف) وظیفه **لالهی گوش** جمع آوری صدا و هدایت آن به داخل گوش است.

ب) لرزش های پرده می گوش از طریق **استخوانچه ها** به **حلزون** می رسد.

۴ برچسب اجزای مشخص شده روی شکل را بچسبانید.



۵ جملات درست را با  و نادرست را با  مشخص کنید.

الف) گوش داخلی شامل لالهی گوش و مجرای شنوایی است.

ب) سمعک برای درمان افراد ناشنوا استفاده می شود.

پ) هنگام بیماری میکروبی تنفسی باید داروها را به موقع مصرف کنیم تا گوش داخلی دچار عفونت نشود.

ت) گوش داخلی شامل بخش حلزونی شکل می باشد.

## فارسی

۱ کلمه‌های هم خانواده را در کنار هم بنویسید و یک کلمه هم خانواده به هر گروه اضافه کنید.

حرکت - طرح - مشهور - متحرک - شعر - شهرت - طراحی - شاعر  
 حرکت، متحرک، مشهور، شهرت، مشاهیر  
 طرح، طراحی، مطرح  
 شاعر، شعر، مساعره

۲ مترادف (هم معنی) کلمه‌های زیر را بنویسید.

شبانگه: هنگام شب  
 آفت: اسب  
 خشت: آجر خام  
 نگاره: نقش  
 نام آشنا: معروف  
 کنجکاو: جستجوگر

۳ کلمه‌های زیر را مرتب کرده و سپس جمله‌ی مناسب را بنویسید.

الف) فرشچیان / استادی / و / نقاشی / سال‌ها / نام آشنا / در / بعد / هنرمند  
 سال‌ها بعد، فرشچیان استادی هنرمند و نام آشنا، در نقاشی شد.  
 ب) کنجکاو / نگاه / هیچ چیز / محمود / و / جست‌وجوگر / نمی‌ماند / دور / از  
 هیچ چیز از نگاه کنجکاو و جست‌وجوگر نیست، دور نمی‌ماند.

۴ تعداد جمله‌های بیت زیر را مشخص کنید.

نام نیکو گر بماند ز آدمی      به کزو ماند سرای زرنگار  
 جمله      جمله

۵ از نظر سعدی و با توجه به بیت‌های درس، رمز ماندگاری نام نیک افراد چیست؟

نام نیک رفتن ضایع‌ملن ← ضایع نلردن نام نیک لذت‌ستان

## مطالعات اجتماعی

۱ به سؤالات پاسخ کوتاه دهید.

الف) ایران با چند کشور همسایه است؟  
 ب) بین ایران و کشورهای همسایه‌اش، کدام یک پهناورتر هستند؟ ایران

۲ همسایگان شمالی ایران را نام ببرید.

آذربایجان - ترکمنستان - ارمنستان

۳ پاسخ دهید.

الف) سوان بزرگ‌ترین دریاچه‌ی کدام کشور است؟ ارمنستان  
 ب) بخش کوچک‌تر کشور آذربایجان چه نام دارد؟ نخجوان

برچسب نام کشورهای همسایه ایران را در محل مناسب خود بچسبانید.



جاذبه‌های گردشگری کشور آذربایجان را بیان کنید.

بوه‌ها ، دامنه‌های سرسبز

هدیه‌های آسمان - قرآن

کامل کنید.

الف) منبر پیامبر (ص) در روز غدیر خم از چهار شتر ساخته شده بود.

چهار شتر

ب) حضرت علی (ع) در خانه کعبه به دنیا آمد.

خانه کعبه

پاسخ دهید.

الف) در روز هجدهم ذی‌الحجه چه اتفاقی افتاد؟

امام علی (ع) از طرف پیامبر (ص) بر رهبری و سرپرستی مردم، معرفی شدند

ب) مردم در روز غدیر خم چه می‌کنند؟

حشمت می‌گیرند

معنای کدام کلمه درست است؟

۱) الْإِثْمُ وَ الْعُدْوَانُ: گناه و کارهای بد

۳) الذی: کسانی که

۲) مبین: چراغ

- توانایی تبدیل کلمات مفرد به جمع
- شناخت کشورهای همسایه
- ضرورت انتخاب جانشین برای پیامبر (ص)
- آشنایی با محتوای سوره‌ی مائده

- مفهوم تقارن محوری تقارن مرکزی
- توانایی ترسیم قرینه‌ی اشکال
- آشنایی با خصوصیات چندضلعی‌های منتظم
- شناخت اندام‌های مربوط به شنوایی
- مشکلات شنوایی

شاخص‌ها

- خیلی خوب
- خوب
- قابل قبول
- نیاز به تلاش بیشتر