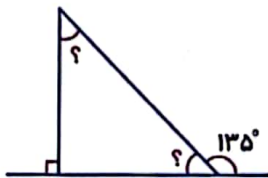
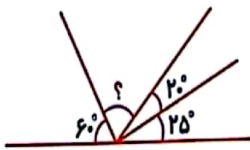
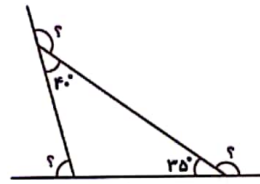
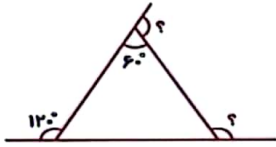


۱- زاویه (؟) را در شکل ها و مثلث های زیر پیدا کنید.



۲- مواردی که زوایای یک مثلث را نشان می دهد با دلیل بیان کنید.

الف)  $60^\circ, 30^\circ, 90^\circ$

ب)  $95^\circ, 45^\circ, 45^\circ$

ج)  $60\frac{1}{3}^\circ, 45\frac{1}{4}^\circ, 45\frac{1}{2}^\circ$

۳- در کدام شکل خط چین نیمساز است؟

