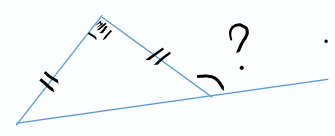
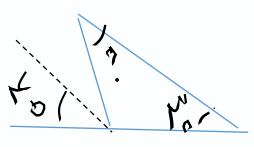




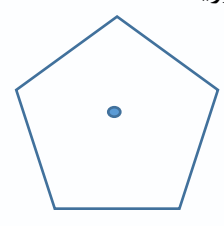
نام و نام خانوادگی: \_\_\_\_\_ تاریخ: \_\_\_\_\_

موضوع: ریاضی هدف: پرسش کتبی هفتگی




1- زوایه های خواسته شده را بدست آورید .

2- متوازی الاضلاعی بکشید که زوایه های 90 درجه داشته باشد . اما نیمسازها قطرهای و خط تقارن آن یکی نباشد .



4- قرینه ی شکل های زیر را بدست آورید .



بازخورد:

\_\_\_\_\_

\_\_\_\_\_

\_\_\_\_\_

