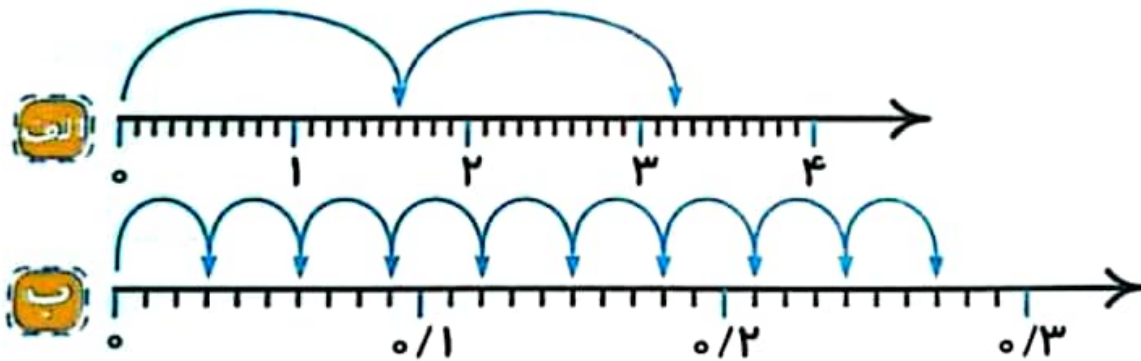


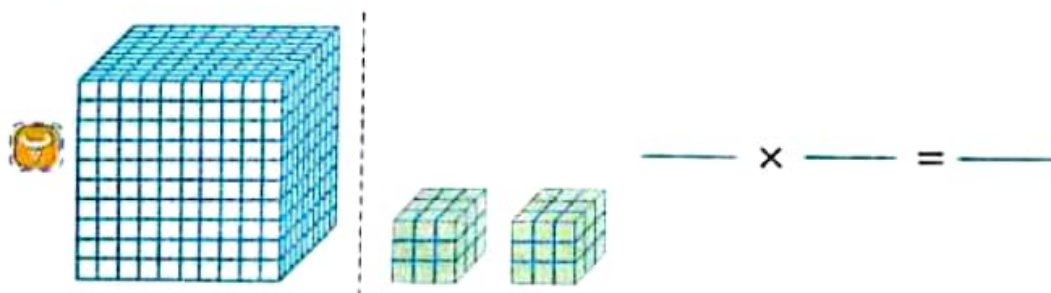
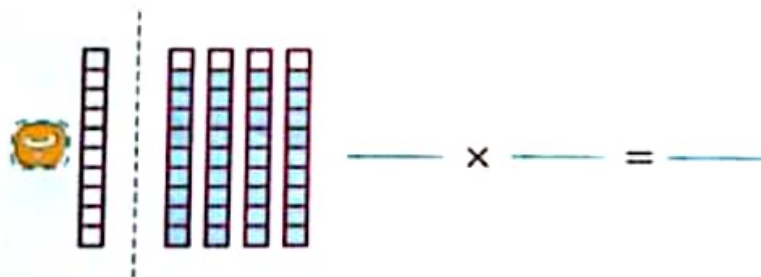

## کاربرگ ضرب عددهای اعشاری : پرسش های درس ۴ نام و نام خانوادگی:

۱- به سؤال های زیر به طور کامل پاسخ دهید.

۱. عبارتی که هر محور نشان می دهد را به صورت ضرب اعشاری بنویسید و حاصل را نیز به دست آورید.



۲. برای هر کدام از شکل های زیر یک عبارت ضرب اعشاری بنویسید و حاصل را نیز به دست آورید.



۳. عبارت  $3 \times \frac{2}{3}$  را روی محور نشان دهید و حاصل را به دست آورید.

۴. برای هر حاصل ضرب، عامل ضرب های متفاوتی بنویسید.

الف) ..... × ..... = ۰/۲۴

ب) ..... × ..... = ۰/۱

..... × ..... = ۰/۲۴

..... × ..... = ۰/۱

..... × ..... = ۰/۲۴

..... × ..... = ۰/۱

۵. حاصل ضرب های زیر را به دست آورید.

الف)  $۴/۸ \times ۰/۱۲ =$

ب)  $۵/۹ \times ۰/۲ =$

پ)  $۳۰۰۰ \times ۰/۰۲ =$

ت)  $۰/۵ \times ۵۰ =$

۶. مقدار تقریبی عبارت های زیر را با روش مشخص شده به دست آورید.

الف)  $۴/۷۵ + ۵/۱۹۳$   $\xrightarrow{\text{با تقریب رقم یکان}}$

ب)  $۱۶/۴۳۲ - ۷/۵$   $\xrightarrow{\text{تقریب با حذف رقم های اعشاری}}$

پ)  $۸/۵۱ \times ۶/۴$   $\xrightarrow{\text{با تقریب رقم یکان}}$

۷. طول هر پرش کانگوروی  $۵/۹$  متر می باشد. این کانگورو در ۸ پرش چند متر جلو می رود؟

۸. پدر فاطمه ۳ بسته چای  $۰/۴۵$  کیلوگرمی خریده است.

الف. او چند کیلوگرم چای خریده است؟

ب. اگر قیمت هر کیلوگرم چای ۳۰۰۰۰ تومان باشد، او چند تومان به فروشنده پرداخت کرده است؟