



نام و نام خانوادگی

تاریخ

موضوع: فصل چهار و پنج ریاضی

هدف: مرور مطالب

۱- درستی هر یک از عبارات زیر را مشخص کنید.

الف) مثلث متساوی الاضلاع ۳ خط تقارن و یک مرکز تقارن دارد.

ب) هیچ شکلی نمی تواند بیشتر از یک مرکز تقارن داشته باشد.

پ) متوازی الاضلاع مرکز تقارن دارد ولی خط تقارن ندارد.

ت) دوزنقه ی متساوی الساقین یک خط تقارن دارد.

۲- جاهای خالی را با عبارت مناسب پر کنید.

الف) مجموع زوایای مثلث درجه است.

ب) مجموع زوایای چهار ضلعی ها درجه است.

پ) نیم خطی که زاویه را به دو زاویه ی مساوی تقسیم می کند، نامیده می شود.

ت) در هر متوازی الاضلاع قطر ها یکدیگر را می کنند.

۳_ در هر مورد گزینه ی مناسب را انتخاب کنید.

الف) در کدام گزینه قطر ها بر هم عمودند؟

۱) لوزی و دوزنقه ۲) مربع و مستطیل ۳) مستطیل و دوزنقه ۴) مربع و لوزی

ب) در کدام گزینه قطر ها نیمساز هستند؟

۱) متوازی الاضلاع ۲) لوزی ۳) دوزنقه ۴) مستطیل

بازخورد:

.....

.....

.....





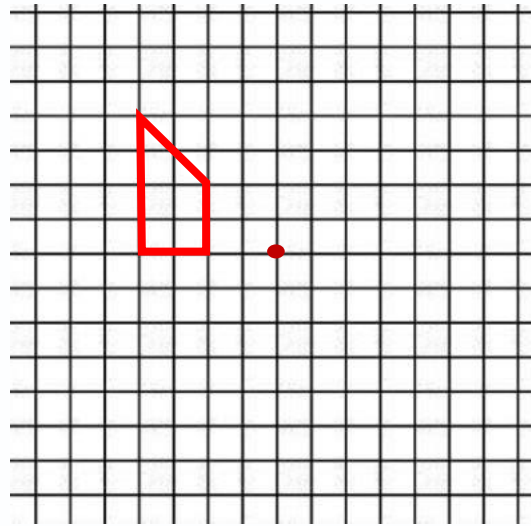
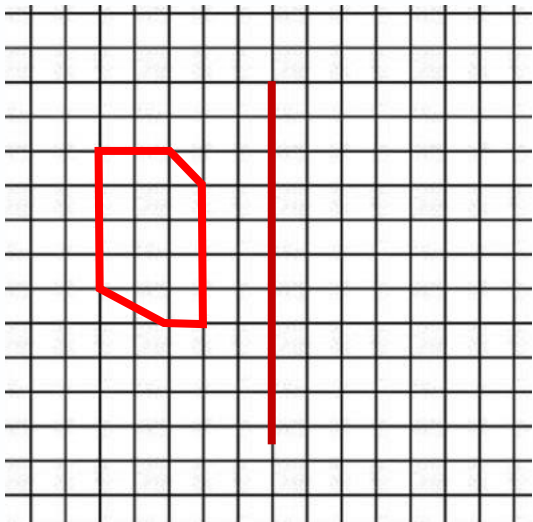
نام و نام خانوادگی

تاریخ

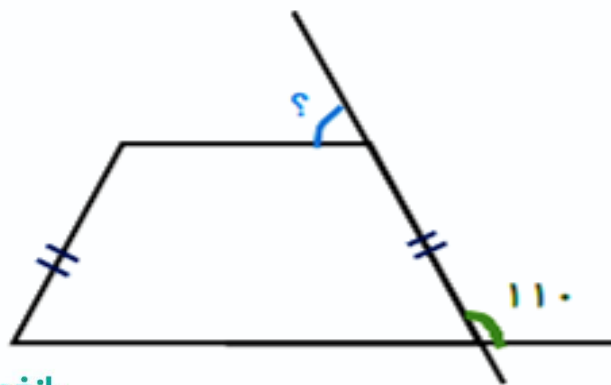
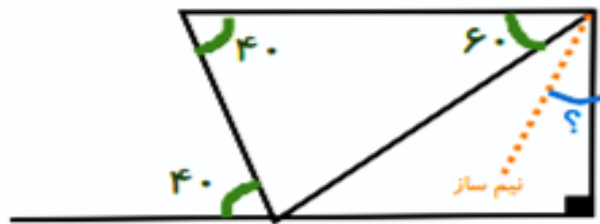
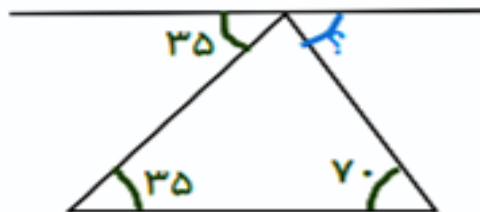
موضوع: فصل چهار و پنج ریاضی

هدف: مرور مطالب

۴- قرینه‌ی هر کدام از شکل‌ها را نسبت به نقطه و خط مشخص شده به دست آورید و سپس متقارن رنگ کنید.



۵- اندازه‌ی زاویه‌های مشخص شده را به دست آورید.



بازخورد:

Handwriting practice lines in a rounded rectangle.





موضوع: فصل چهار و پنج ریاضی

تاریخ

نام و نام خانوادگی

هدف: مرور مطالب

۶- به پرسش‌های زیر پاسخ دهید.

الف) عدد $۱۲/۳۵۶$ را در جدول ارزش مکانی قرار دهید.

ب) گسترده‌ی عدد $۶۵/۳۰۴$ را بنویسید.

پ) کسر $\frac{۳}{۴}$ را به صورت اعشاری بنویسید.

ت) دو عدد بین $۰/۶$ و $۰/۷$ بنویسید.

ث) $۸/۴$ از چند تا $۰/۱$ تشکیل شده است؟

۷) رهام می‌خواهد ۵ کیلو آجیل داشته باشید. او $۲/۴۳$ کیلو گرم پسته، $۱/۲۰۳$ کیلو گرم تخمه و نیم کیلو گرم بادام را با هم مخلوط کرد. او چه مقدار فندق برای آجیلش نیاز دارد؟

$۹/۸۰۶$

۸) مساحت مستطیل زیر را به دست آورید



$۴/۱۷$

بازخورد:

Four horizontal lines for writing feedback.

