



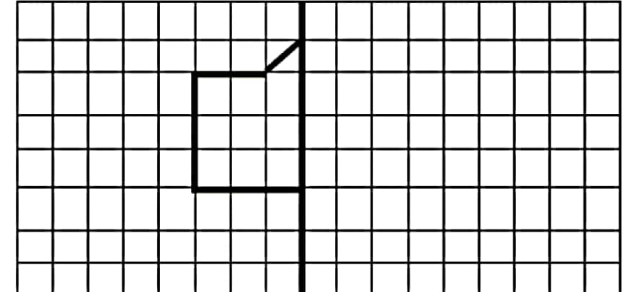
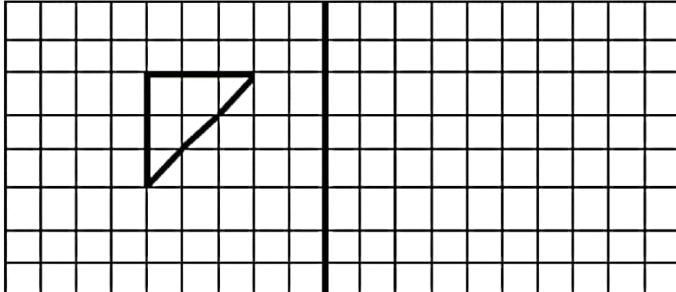
موضوع:

تاریخ:

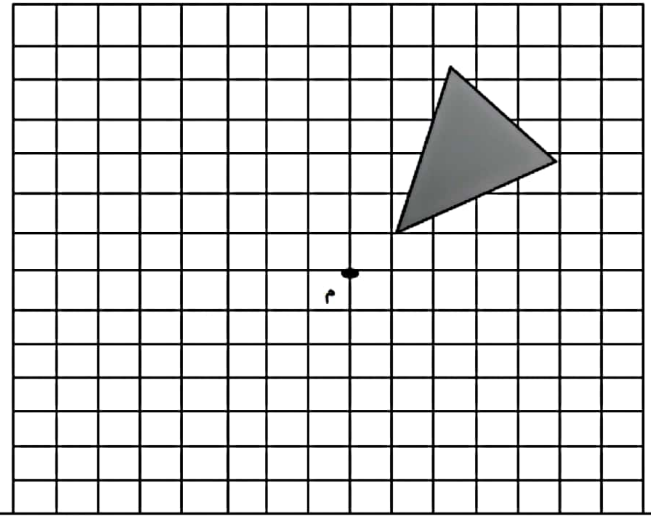
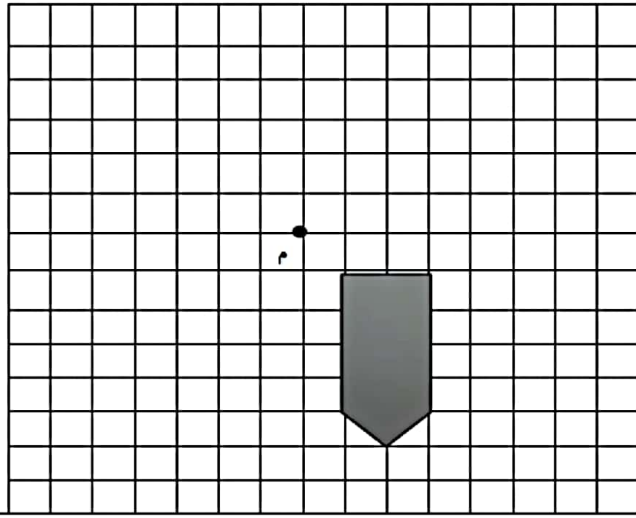
نام و نام خانوادگی:

هدف:

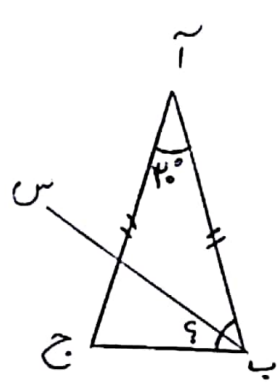
۱ قرینه ی شکل های زیر را نسبت به خط تقارن مشخص کنید؟



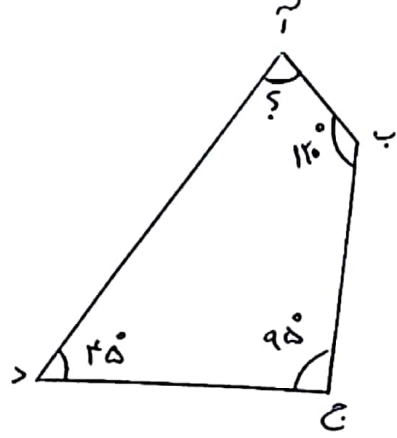
۲ قرینه ی شکل های زیر را نسبت به نقطه (م) پیدا کنید؟



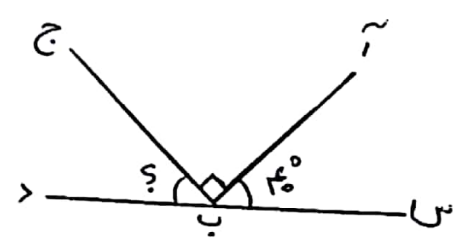
۳ در شکل های ، زیر اندازه ی زاویه ی خواسته شده را بدست آورید؟



اگر (ب س) نیمساز باشد  
زاویه (س ب ج)



زاویه (آ)



زاویه (ج ب د)

۴ جدول زیر را کامل کنید؟

هشت و سه دهم	۳/۰۰۵	ده و پنج صدم	۱۶/۲۵

به حروف و عدد بنویسید



موضوع:

تاریخ:

نام و نام خانوادگی:

هدف:

۵ اعداد اعشاری زیر را در جدول ارزش مکانی قرار دهید؟


صدگان	دهگان	یکان	دهم	صدم	هزارم
					۱۳/۰۰۲
					۱۳/۲۰۰
					۸/۱۰۲

۱۳/۲۰۰ ○ ۱۳/۰۰۲

الف) از بین اعداد روبرو کدام عدد بزرگ تر است؟ چرا؟

ب) در عدد ۱۳/۲۰۰ رقم مرتبه ی هزارم چه عددی است؟

۶ عدد (۳/۳) را روی شکل نشان بده؟



۷ تبدیل کنید؟

به عدد اعشاری تبدیل کنید.	به کسر و عدد مخلوط تبدیل کنید.
$۱۰ \frac{۵}{۱۰۰} =$	$۱۶/۲۳۰ =$
$۵ \frac{۲۳}{۱۰۰} =$	$۰/۵۰۱ =$
$۶ \frac{۹}{۱۰} =$	$۱۲/۱ =$

۸ حاصل عبارات زیر را به دست بیاورید؟

$۱۳/۰۸$	$۱۲/۵$	$۸/۳۰۰$	$۱۹/۰۲۸$	$۱۰/۱۲۵$	$۱۵/۰۰۲$
$\times ۱/۱۲$	$\times ۰/۰۸$	$- ۰/۹$	$- ۱۲/۳۰۰$	$+ ۹/۱۶$	$+ ۱۰/۱۲۵$

۹ در یک کارخانه ی تولید خودرو ، ۴۵۰ خودرو ساخته شده است . اگر برای تولید هر خودرو ۹۰۰/۲۳ کیلوگرم ورقه ی

فلزی استفاده شده باشد . برای تولید ۴۵۰ خودرو چقدر ورقه ی فلزی مصرف شده است ؟