



شماره‌ی

۲۵

ارمغان هفته - پنجم دبستان

نام و نام خانوادگی: تاریخ: نام آموزگار:

مطالعات اجتماعی < نوز

هدیه‌های آسمان < نوز

قرآن < نوز

ریاضی < نوز

علوم < نوز

فارسی < نوز

ریاضی

۱ پدر علی ۴۸۰۰ گرم آجیل خرید. اگر نسبت پسته و فندق و تخمه در این آجیل به ترتیب ۱ و ۳ و ۴ باشد. محاسبه کنید در این



پسته	۱	۶۰۰
فندق	۳	۱۸۰۰
تخمه	۴	۲۴۰۰
کل	۸	۴۸۰۰

۲ شما چند ریال عیدی دریافت کرده‌اید؟

برآمده دانش آموز

با رقم:



با حروف:

۳ مرضیه خانم برای تهیه آجیل عید نخود و کشمش را با نسبت ۳ به ۵ مخلوط کرد. اگر اندازه کشمش ۶۰۰ گرم باشد چه مقدار

نخود با آن مخلوط کرده است؟

نخود	۳	۳۶۰
کشمش	۵	۶۰۰
		$\times 120$

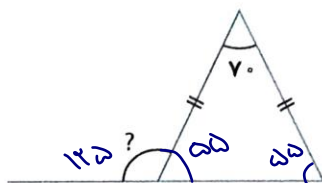
۴ عددهایی که روی گل‌ها نوشته شده را به ترتیب از کوچک به بزرگ مرتب کنید.



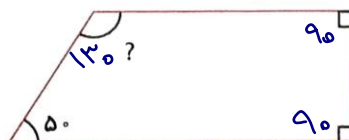
$0/25 < 0/411 < 0/5 < 1/1 < 3/42$

۵ اندازه زاویه‌های خواسته شده را پیدا کنید.

الف)



ب)




مغازه‌داری برای شب عید تمام لباس‌هایش را ۳۰٪ تخفیف گذاشته است. اگر لباس ۸۷۰۰۰ تومان باشد، ما بعد از تخفیف باید

چند تومان پردازیم؟

پرداخت	۷۵	۹۰۹۰۰
تخفیف	۳۰	۲۶۱۰۰
کل	۱۰۰	۸۷۰۰۰

اهلی علوم

گردوها و فندق‌های آجیل عید را با چه وسیله‌هایی می‌شکنند؟ هر کدام چه نوع اهرمی هستند؟ سه قسمت اهرم را در وسایل با یک نقاشی زیبا نشان دهید. این وسایل چگونه به ما کمک می‌کنند؟



گردوشکن - فندق‌شکن




بافتنی نیرو

مریم خانم برای شب سال نو سبزی پلو با ماهی پخت. او برای درست کردن ماهی مراحل زیر را انجام داد. در هر مرحله چه تغییری روی داده است؟

شستن ماهی: فیزیکی
سرخ کردن ماهی: شیمیایی

خرد کردن ماهی: فیزیکی
طعم‌دار کردن ماهی: فیزیکی

ساختمان چشم را نقاشی کرده و اجزای مهم آن را نام‌گذاری کنید.



برعهده دانش آموز

وقتی می‌دوید از کدام دستگاه بدن‌تان استفاده می‌کنید؟ توضیح دهید.

دستگاه استخوانی و ماهیچه‌ای



۲ زهرا از سروصدا آتش بازی چهارشنبه سوری می ترسد او چه نوع ترسی است به جا یا نابه جا! به جا

دو راه کار برای مقابله با ترس به زهرا پیشنهاد بدهید.

او می تواند بادگیران در میان بگیرد او می تواند نقاشی کند

۳ جاهای خالی را با عبارتهای مناسب کامل کنید.

در مسافرت حواسمان باشد:

(پ) در بازدید از مکانهای تاریخی به وسایل دست نزنیم

(الف) با راننده صحبت نکنیم

(ت) هنگام پختن غذا در جنگل هداقت آتش بگیریم

(ب) زباله های خود را بیرون نریزیم

هدیه های آسمان - قرآن

۱ با توجه به کتاب هدیه های آسمانی در مورد هر یک از موضوعات زیر یک حدیث از پیامبر بنویسید.

نماز	نماز نور چشم من است.
پاکیزگی	پاکیزگی از پایه های دین اسلام است.

۲ هفت سوره قرآنی زیر را با هفت سوره ی قرآن که بر اساس حروف اول آنها شروع می شود کامل کنید.

حم	لین	سجده	توحید	نور	نوح	بقره
----	-----	------	-------	-----	-----	------

۳ پدر متین در هنگام تحویل سال نو کتاب قرآن را باز کرد و قسمتی از آیه ی ۲۵ سوره بقره را خواند. ترجمه ی این قسمت از آیه

را بنویسید.

«وَبَشِّرِ الَّذِينَ ءَامَنُوا وَعَمِلُوا الصَّالِحَاتِ أَنَّ لَهُمْ جَنَّاتٍ»

دو بشارت ده کسانی که ایمان آورده اند و کارهای خوب انجام داده اند قطعاً، برای آنها بهشت هایی است

- توانایی بند نویسی
- شناخت جانوران مناطق مختلف
- شناخت موارد ایمنی
- آشنایی با سوره های قرآن

- توانایی حل مسئله با مفهوم نسبت
- محاسبه ی زاویه ی نامشخص
- کاربرد اهرم
- شناخت انواع ماشین های ساده
- شناخت تغییرات شیمیایی و فیزیکی

شاخص ها

- خیلی خوب
- خوب
- قابل قبول
- نیاز به تلاش بیشتر