



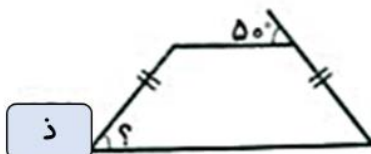
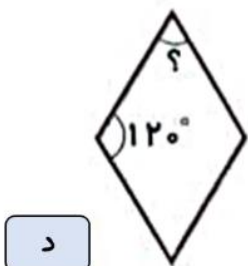
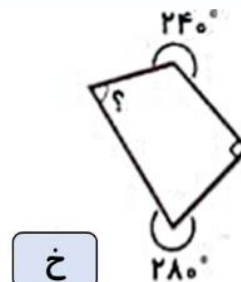
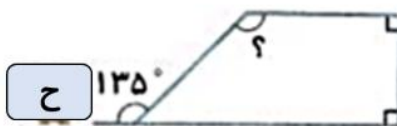
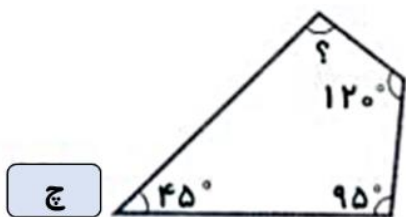
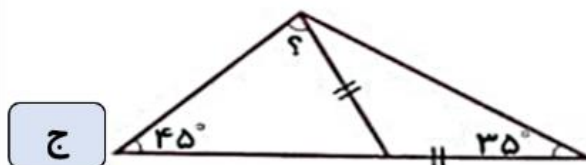
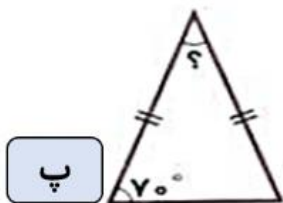
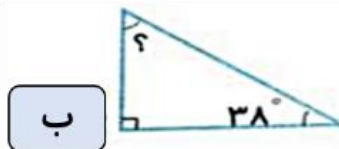
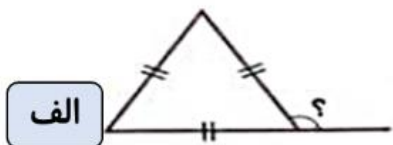
موضوع: فصل چهارم

تاریخ

نام و نام خانوادگی

هدف: مرور مطالب

۱- در هر شکل اندازه‌ی زاویه‌ی خواسته شده را به دست آورید.



بازخورد:

Handwriting practice area with a dashed orange border and four horizontal lines.





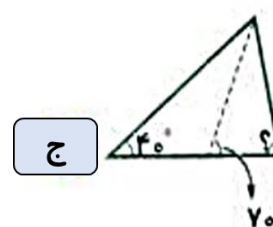
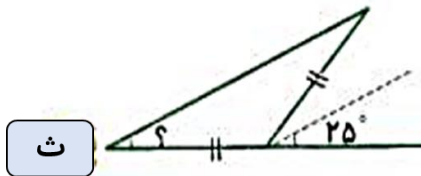
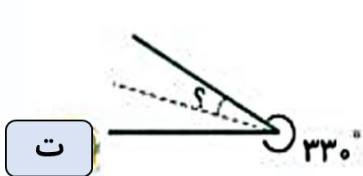
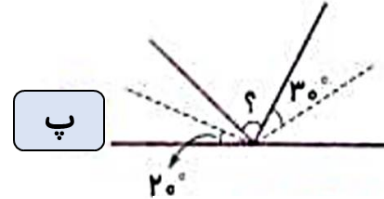
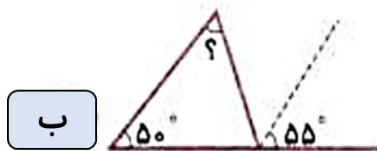
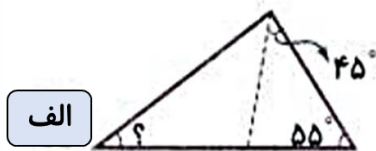
موضوع: فصل چهارم

تاریخ

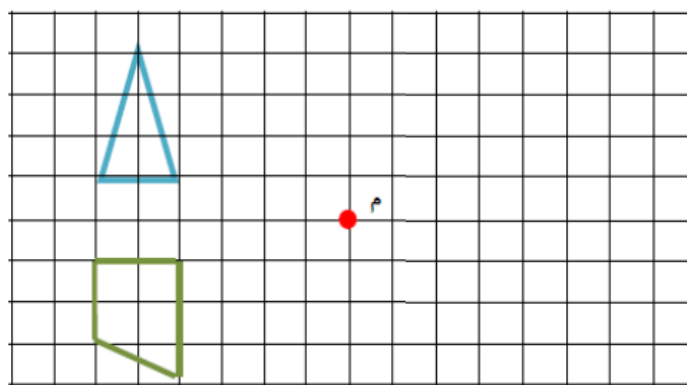
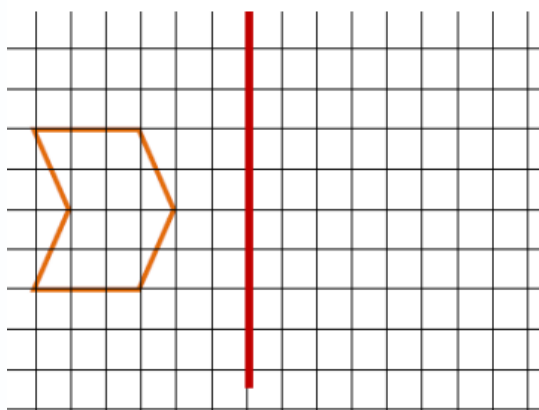
نام و نام خانوادگی

هدف:

۲- در هر یک از شکل های زیر، خط چین ها نیمساز هستند. اندازه ی زاویه ی خواسته شده را به دست آورید



۳- قرینه هر شکل را نسبت به خط تقارن یا نقطه تقارن رسم کنید.



بازخورد:

Handwriting practice area with a dashed orange border and horizontal lines.





موضوع: فصل چهارم

تاریخ

نام و نام خانوادگی

هدف:

۴- ویژگی‌های بیان شده برای چه شکل‌هایی می‌تواند باشد. (متوازی الاضلاع، لوزی، مستطیل، مربع و دوزنقه)

الف) چهار ضلع برابر دارد:

ب) تمام زاویه‌ها با هم برابرند:

پ) قطرها نیمساز هستند:

ت) قطرها بر هم عمودند:

ث: تنها دو ضلع موازی دارد:

ج) قطرها با هم مساوی هستند:



بازخورد:

Handwriting practice area with a dashed orange border and horizontal lines.

