



موضوع: فصل پنجم و ششم

تاریخ

نام و نام خانوادگی

هدف: مرور مطالب

۱- عدد $۳۰۴/۲۵$ را در جدول ارزش مکانی قرار دهید. سپس آن را به حروف نوشته و گسترده‌ی آن را نیز بنویسید.

۲- اعداد زیر را از کوچک به بزرگ بنویسید.

$۷۴/۲$ $۴۷/۲۰۰$ ۳ $۲/۹۹۹$ $۱/۱$ $۰/۹۹۹$ $۷/۳۰۰$ $۷/۰۰۳$

۳- کسرهای زیر را به صورت اعشاری بنویسید.

$$\frac{۷}{۲۰}$$

$$۲\frac{۳}{۴}$$

$$\frac{۲۵}{۸}$$

۴- رهام برای تهیه‌ی آجیل مهمانی، $۳۶۵/۲$ کیلوگرم بادام، $۳۷/۱$ کیلوگرم فندق و $۵/۱$ کیلوگرم پسته را با هم مخلوط کرد. رهام چند کیلوگرم آجیل آماده کرده است؟

۵- طول یک میله‌ی فلزی $۲۰/۰۹$ متر بود. اسامه ۲ قطعه‌ی $۵/۷۶$ متری از آن را برید،

(الف) اسامه چند متر از میله را بریده است؟

(ب) چند متر از میله باقی مانده است؟

بازخورد:





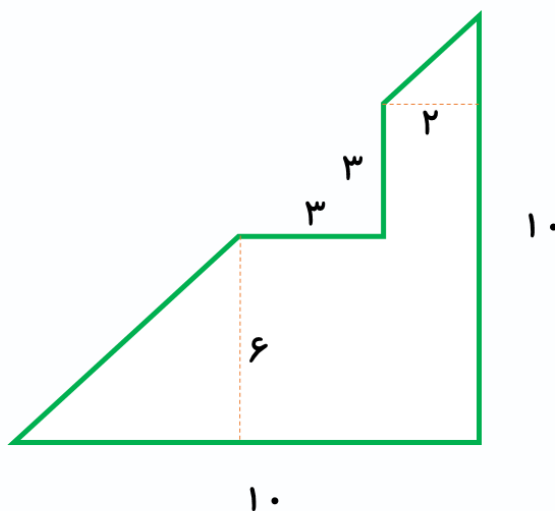
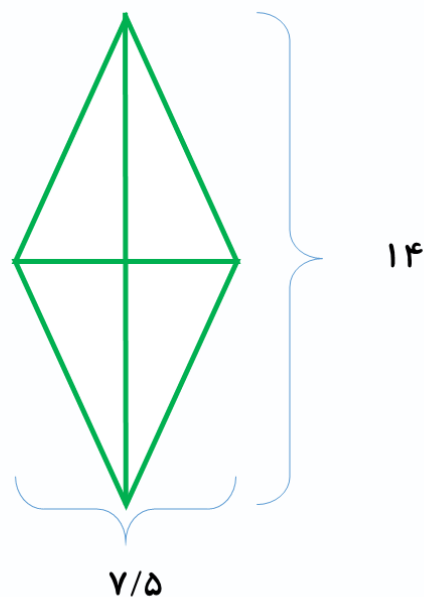
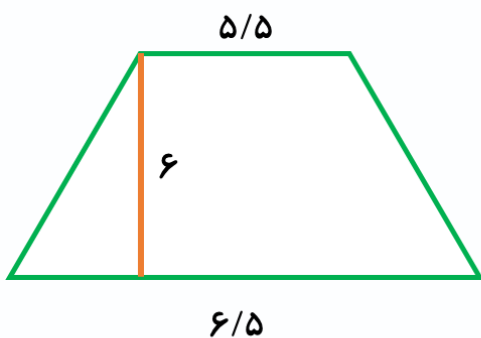
موضوع: فصل پنجم و ششم

تاریخ

نام و نام خانوادگی

هدف: مرور مطالب

۶- مساحت شکل‌های زیر را حساب کنید.



بازخورد:

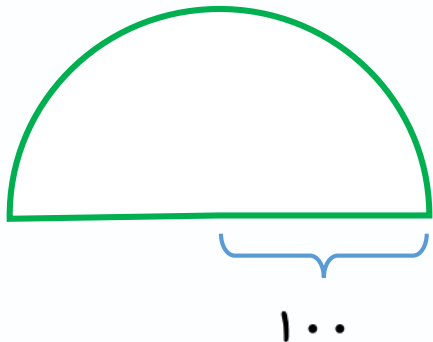
Handwritten feedback area with four horizontal lines.



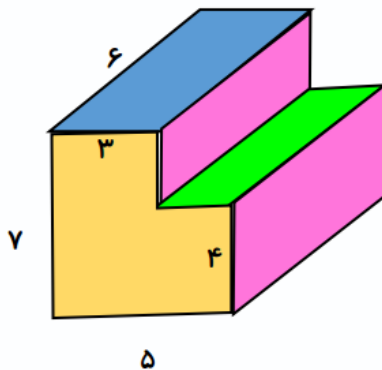
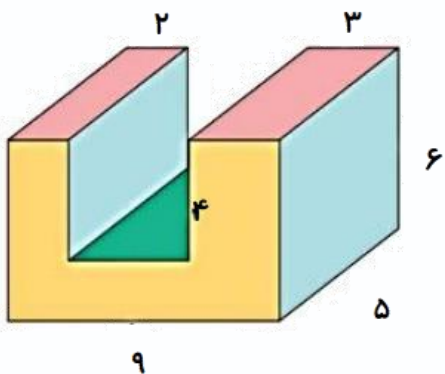


موضوع: فصل پنجم و ششم تاریخ نام و نام خانوادگی هدف: مرور مطالب

۷- نیما دور زمینی به شکل زیر را دویده است. حساب کنید او چند متر دویده است؟



۸- حجم شکل‌های زیر را محاسبه کنید.



بازخورد:

Handwritten feedback area with a dashed border and horizontal lines.





موضوع: فصل پنجم و ششم

تاریخ

نام و نام خانوادگی

هدف: مرور مطالب

۹- گزینه ی مناسب را انتخاب کنید.

۱- $\frac{3}{5}$ لیتر برابر کدام گزینه است؟

(ب) 350 میلی لیتر

(الف) 35 سانتی متر مکعب

(د) 3500 سی سی

(ج) 3500 سانتی متر مربع

۲- حجم مکعبی به ضلع $\frac{1}{5}$ چند متر مکعب است؟

(د) $\frac{2}{5}$

(ج) $\frac{1}{25}$

(ب) $\frac{1}{25}$

(الف) $\frac{1}{125}$

۳- کدام گزینه مقدار بیشتری را نشان می دهد؟

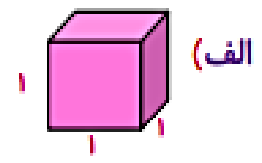
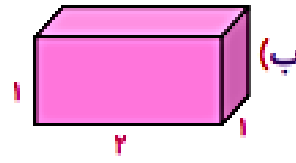
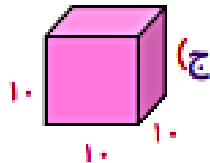
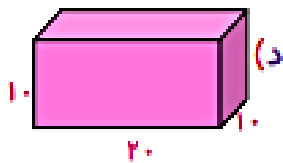
(ب) 4564 سی سی

(الف) 4456 سانتی متر مکعب

(د) $\frac{4}{56}$ میلی لیتر

(ج) $\frac{4}{56}$ لیتر

۴- مقدار مایع درون کدام شکل برابر یک لیتر است؟



بازخورد:

