

۱- حاصل جمع و تفریق‌های زیر را به دست آورید.

$$\begin{array}{r} 302040 \\ + 70903 \\ \hline \end{array}$$

$$\begin{array}{r} 900000 \\ - 25000 \\ \hline \end{array}$$

$$\begin{array}{r} 8040000 \\ - 730000 \\ \hline \end{array}$$

۲- حاصل ضرب‌های زیر را به دست آورید.

$$\begin{array}{r} 430000 \\ \times 200 \\ \hline \end{array}$$

$$\begin{array}{r} 80000 \\ \times 2000 \\ \hline \end{array}$$

$$\begin{array}{r} 80020 \\ \times 50 \\ \hline \end{array}$$

۳- تقسیم‌های زیر را انجام دهید.

$$80000 \div 4000 =$$


$$90000 \div 300 =$$

$$80000 \overline{) 30000}$$

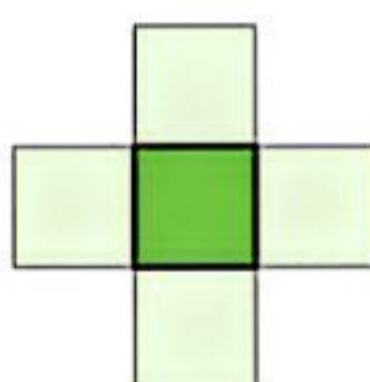
$$700000 \overline{) 4000000}$$

## تمرین


۱- عددهای ۱، ۲، ۳، ۴ و ۵ را در هر یک از شکل‌های زیر بنویسید؛ طوری که مجموع ۳ عدد عمودی با مجموع ۳ عدد افقی برابر شود. سپس، این مسئله را در سه حالت زیر حل کنید (می‌توانید از حدس زدن و آزمایش کردن استفاده کنید).



مجموع عددها ۸ شود



مجموع عددها ۹ شود



مجموع عددها ۱۰ شود

۲- عددهای زیر را بنویسید.

۱۲ تا ۱۰۰ تا و ۱۰ تا ۱۰۰۰ تا می‌شود:

۵۰۰ تا کمتر از ۱۷ تا ۱۰۰ تا می‌شود:

۳- الگوهای زیر را ادامه دهید.

۵,۰۰۰,۰۰۰ . ۶,۰۰۰,۰۰۰ . ۷,۰۰۰,۰۰۰ . \_\_\_\_\_ . \_\_\_\_\_ . \_\_\_\_\_

۵ میلیون . ۶ میلیون . ۷ میلیون . \_\_\_\_\_ . \_\_\_\_\_ . \_\_\_\_\_

۴- ضرب و تقسیم‌های زیر را انجام دهید.

$$23 \times 371 =$$

$$2437 \div 52 =$$

$$241 \times 105 =$$

$$1428 \div 23 =$$