

نام و نام خانوادگی

تاریخ

موضوع:

هدف:

الف) گزینه درست را با علامت ✓ مشخص کنید.

۱- عدد «دویست و چهل میلیارد و هفتاد و شش میلیون و دویست و یک کیلوگرم» کدام است؟
 (۱) $24,742,020$ (۲) $24,740,020$ (۳) $24,740,020$ (۴) $24,742,020$

۲- سه ساعت و چهل دقیقه بعد از ساعت ۱۱ و ۲۵ دقیقه چه ساعتی می شود؟
 (۱) $15:05$ (۲) $14:05$ (۳) $13:55$ (۴) $14:55$

۳- در انگلی مقابله عدد دوازدهم چند است؟
 (۱) 121 (۲) 144 (۳) 96 (۴) 122


۴- کدام عدد نشان دهنده عدد یک میلیارد است؟
 (۱) 10 تا 100 میلیون (۲) 10 تا 100 میلیون (۳) 100 تا 100 میلیون (۴) 100 تا 100 هزار

۵- 1523 میلی متر به صورت عدد مرکب کدام گزیده است؟
 (۱) 1 متر و 52 سانتی متر و 3 میلی متر (۲) 1 متر و 52 سانتی متر و 3 میلی متر
 (۳) 15 متر و 2 سانتی متر و 3 میلی متر (۴) 1 متر و 5 سانتی متر و 23 میلی متر

ب) جاهای خالی را کامل کنید.

- (۱) عدد 420000000 از _____ تا یک میلیون ساخته شده است.
- (۲) عدد 3400700 از _____ تا _____ تا صد تایی ساخته شده است.
- (۳) نصف 8 میلیون _____
- (۴) 72300 گرم یعنی _____ کیلو و _____ گرم
- (۵) عدد 1448195 با تقریب صد هزار می شود _____

ج) اگر هواپیمایی روز دوشنبه ساعت $25^{\circ} 15'$ شب حرکت کند مدت پرواز آن هفت ساعت و 45 دقیقه باشد، حساب کنید این هواپیمای در چه روز و چه زمانی به مقصد می رسد؟

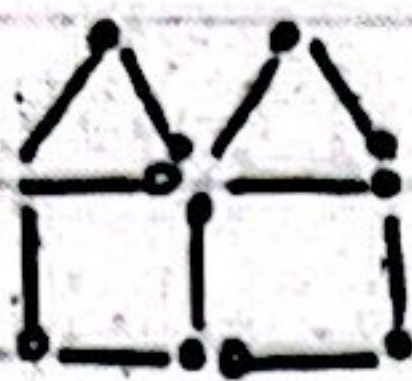


نام و نام خانوادگی: _____
 تاریخ: _____
 موضوع: _____
 هدف: _____


د) در انگوی داده شده شکل هفتادم با چند چوب کبریت ساخته شده است؟



(۱)



(۲)



(۳)

۵) حاصل عبارت‌ها را درست بنویس.

$$\begin{array}{r} 4 \quad 15' \quad 39'' \\ + 2 \quad 39' \quad 52'' \\ \hline \end{array}$$

$$\begin{array}{r} 8 \quad 34' \quad 41'' \\ - 2 \quad 47' \quad 55'' \\ \hline \end{array}$$

$$\begin{array}{r} 9 \quad 800 \\ + 5 \quad 500 \\ \hline \end{array}$$

$$\begin{array}{r} 701 \\ \times 495 \\ \hline \end{array}$$

$$500000 \mid 20000$$

$$\begin{array}{r} 804000 \\ - 75000 \\ \hline \end{array}$$

(س)

باز خورد:

