

نام و نام خانوادگی

تاریخ

موضوع:

هدف:

۱- اگر عدد ۸۹۶ را ۱۰۰۰ برابر کنیم ارزش رقم ۹ چند میشود؟ (تغییر را در ارزش مکانی نشان دهید)

۲- گسترده عدد ۷۰۰۲۵۳۷ را بنویسید

۳- عدد ۴۳۵۴۷۵۳۰۰۱۰ را به حروف بنویسید

۴- اعداد زیر را مقایسه کنید

۴۳۸۹۵۴۳۰۰۲

۴۳۸۹۴۹۹۸۷۶

۵۷۸۹۰۱۲۰۰۸

۸۵۱۹۹۲۳۵۹

۵- جاهای خالی را با عدد مناسب پر کنید

- صد برابر ۱۴ تا ده هزار

- ربع ۱۶ تا یک میلیون


- چهار برابر ۵ تا ده میلیون


۶- اعداد زیر را با تقریب بنویسید

با تقریب یک میلیون ۴۳۸۷۲۴۰۱

بازخورد:

Handwritten feedback area with a dashed border and horizontal lines.





نام و نام خانوادگی: _____ تاریخ: _____ موضوع: _____

هدف: _____

۷- اگر زمان طلوع خورشید ۵۰ : ۴۵ : ۴ باشد و طول روز ۱۴ : ۵۴ : ۳۳ باشد ، غروب خورشید چه زمانی است؟

۸- قطاری ساعت ۸ : ۲۵ : ۵۰ از تهران حرکت کرده و ساعت ۸ : ۲۳ : ۴۵ شب به مشهد می رسد . این قطار چه مدت در راه بوده است ؟

۹- کشاورزی طبق جدول زیر از باغ میوه چیده است او جمعا چند کیلو میوه چیده است ؟


سیب	۵۰ کیلوگرم و ۳۵۰ گرم
انار	۳۷ کیلوگرم و ۸۰۰ گرم
انگور	۸۳ کیلوگرم و ۷۸۰ گرم
هندوانه	۲۵۰ کیلوگرم و ۴۰۵ گرم

۱۰- در الگوهای زیر رابطه اعداد را توضیح داده و ادامه دهید

۱۶ و ۸ و ۴ و ۲ و ۱

۱۲ و ۱۱ و ۸ و ۷ و ۴

باز خورد:



پایه:



بنام خداوند جان و خرد

علوی

نام و نام خانوادگی

تاریخ

موضوع:

هدف:

۱۱- در الگوی مثلثی اختلاف عدد مرحله هفتم و ششم چند تا است؟

۱۲- در الگوی زیر عدد پانزدهم چند است؟

۳۶۹۱۲

۱۳- در الگوی مربعی اختلاف اعداد مرحله دوم و پنجم چند تا است؟

بازخورد:

Hand-drawn dashed box containing three horizontal lines for feedback.

