



موضوع: فصل اول و دوم

تاریخ

نام و نام خانوادگی

هدف: مرور آموخته‌ها

۱\_ جاهای خالی را با عبارت مناسب پر کنید.

(الف) عدد ۲۴۰۰۰۰۰۰۰ از ..... تا یک میلیون ساخته شده است.

(ب) عدد ۴۵۰۰۰۰۰۰۰ از ..... تا ده میلیون ساخته شده است.

(پ) عدد ۲۰۶۰۰۹۰۰ از ..... تا یک میلیونی و ..... تا صد هزاری و ۹ تا ..... درست شده است.

(ت) عدد ۴۰۰۸۰۰۱۰۰ از ۴ تا ..... و ..... تا صد هزاری و ..... صد تایی تشکیل شده است.

(ث) ده تا صد میلیون می‌شود.....

۲- با توجه به عدد ۲۳۴۰۶۰۰۵۳۹۸ به پرسش‌های زیر پاسخ دهید:

(الف) عدد را در جدول ارزش مکانی قرار دهید.

(ب) آن را به حروف بنویسید.

(پ) اگر عدد فوق را در ۱۰۰ ضرب کنیم، رقم ۵ چه مرتبه‌ای پیدا می‌کند؟

(ت) این عدد با تقریب دهگان میلیون چند خواهد شد؟

(ث) بزرگ‌ترین رقم در چه مرتبه‌ای قرار دارد؟

۳\_ با کارت‌های ۱، ۳، ۵، ۷ و ۹ عددهای دو رقمی بسازید که:

(ب) بیشترین حاصل ضرب را داشته باشند.

(الف) کمترین حاصل ضرب را داشته باشند.

بازخورد:

.....  
 .....  
 .....





موضوع: فصل اول و دوم

تاریخ

نام و نام خانوادگی

هدف:

۴- حاصل تقسیم‌های زیر چقدر است؟

$$\begin{array}{r} 300900 \\ \hline 200 \end{array}$$

$$\begin{array}{r} 26890 \\ \hline 34 \end{array}$$

۵- برای محل مشخص شده عدد تقریبی مناسب بیان کنید.



۶- درنا ۷:۳۵ از شبانه روز را خوابیده است. او چه مدت بیدار بوده است؟

۷- برنا ساعت ۵:۱۰:۲۰ به باشگاه ورزشی رفت و پس از ۵۰:۴۰:۴ به خانه برگشت. او در چه ساعتی به خانه برگشته است؟

بازخورد:

\_\_\_\_\_

\_\_\_\_\_

\_\_\_\_\_







موضوع: فصل اول و دوم

تاریخ

نام و نام خانوادگی

هدف:

۸- حاصل جمع و تفریق های مرکب زیر را به دست آورید.

کیلو متر	متر	سانتی متر	میلی متر
۶	۳۰۰	۴۰	۴
- ۳	۴۰۰	۸۰	۹

---

تن	کیلو گرم	گرم
۴	۸۶۰	۳۰۰
+ ۱	۲۵۰	۷۱۰

---


روز	ماه	سال
۲۰	۴	۹
+ ۱۲	۹	۲

---

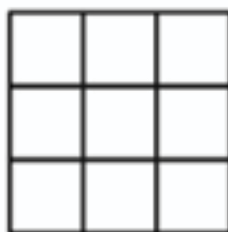
۹- در الگوی زیر شکل دوازدهم چند مربع دارد؟



(۱)



(۲)



(۳)

بازخورد:

Handwriting practice area with four horizontal lines.





موضوع: فصل چهار و پنج ریاضی

تاریخ


نام و نام خانوادگی

هدف: مرور مطالب

۱۰- با توجه به الگوی زیر جاهای خالی را پر کنید.

..... ، ..... ، ..... ، ۱۰ ، ۶ ، ۳ ، ۱

۱۱- با کامل کردن جدول بگویید، شکل شماره ۲۰ از چند گل درست شده است؟ (نوشتن رابطه الزامی ست).



(۱)




(۲)



(۳)

شماره شکل	۱	۲	۳	۴
تعداد گل				

۱۲- محیط چندمین شکل برابر ۲۴ خواهد بود؟ ( رسم جدول و نوشتن رابطه فراموش نشود).



بازخورد:

.....

.....

.....







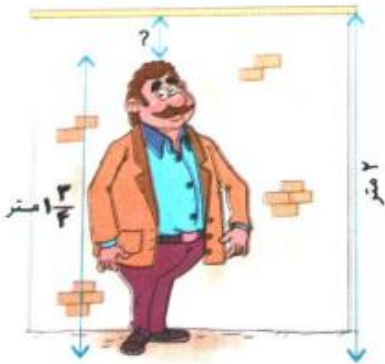
موضوع:

تاریخ

نام و نام خانوادگی

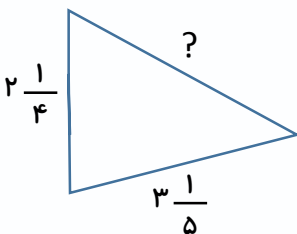
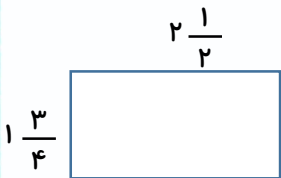
هدف:

۱۲- مهیار  $3\frac{1}{4}$  ساعت و ایلیا  $2\frac{3}{5}$  ساعت به تحقیق و پژوهش درباره‌ی یک موضوع پرداختند. آن‌ها روی هم چند ساعت تحقیق کرده‌اند؟



۱۳- با توجه به شکل فاصله‌ی سر آقای محمدی تا بالای دیوار چقدر است؟

۱۴- محیط مستطیل و مثلث زیر با هم برابرند. اندازه‌ی ضلع مشخص شده‌ی مثلث چقدر است؟



بازخورد:

Four horizontal lines for writing feedback.

