



موضوع:

تاریخ

نام و نام خانوادگی

هدف:

۱- جاهای خالی را با عبارات مناسب پر کنید.

(الف) عدد ۴۶۰۰۰۰۰۰ از _____ تا یک میلیونی تشکیل شده.

(ب) عدد ۹۴۰۰۵۰۰ از _____ تا یک میلیونی و _____ تا صد هزار تایی و ۵ تا _____ تشکیل شده است.

(ج) دومین رقم سمت چپ عددی در مرتبه‌ی صدگان میلیون قرار دارد. این عدد _____ رقمی است.

(د) ۱۰۰۰ تا یک میلیونی می‌شود _____ .

به جای ایکه عددی را بر ۲ تقسیم کنیم، می‌توانیم آن را در _____ ضرب کنیم.

(ه) برای جمع دو کسر ابتدا باید _____ را مساوی کنیم، سپس _____ را جمع کنیم.

(و) عدد مخلوط $3\frac{4}{7}$ برابر کسر _____ است، یعنی _____ تا $\frac{1}{7}$

(ز) ۱۰٪ تخفیف یعنی از هر ۱۰۰ تومان _____ تومان گرفته نمی‌شود و _____ تومان گرفته می‌شود.

(ح) هر دو نسبت مساوی یک _____ را تشکیل می‌دهند.

(ط) نسبت اندازه‌ی ضلع مربع به محیط آن مربع برابر _____ است.

بازخورد:





موضوع:

تاریخ

نام و نام خانوادگی

هدف:

۲- حاصل عبارتهای زیر را به دست آورید.

$$\begin{array}{r} 145.7 \\ \times 86 \\ \hline \end{array}$$

$$\begin{array}{r} 24000 \\ \times 700 \\ \hline \end{array}$$

$$\begin{array}{r} 3000 \\ | \\ 400 \\ \hline \end{array}$$

$$\begin{array}{r} 793 \\ | \\ 21 \\ \hline \end{array}$$

$$\frac{2}{5} + \frac{4}{6}$$

$$\frac{2}{3} - \frac{1}{2}$$

$$\frac{1}{3} \times \frac{2}{3}$$

بازخورد:

.....

.....

.....





موضوع:

تاریخ

نام و نام خانوادگی

هدف:

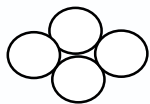
$$7 - 3 \frac{3}{5}$$

$$\frac{5}{24} \times 6$$

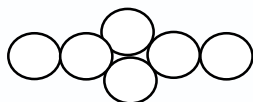
$$\frac{12}{7} \div 6$$

۳- اگر اکنون ساعت ۱۴ روز ۲۰ خرداد باشد، ۲ ماه و ۱۵ روز و ۶ ساعت بعد چه زمانی خواهد بود؟

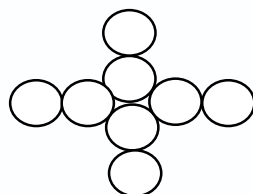
۴- پس از نوشتن رابطه بگویید شکل ۲۰ ام از چند دایره تشکیل شده است؟



(۱)



(۲)



(۳)

بازخورد:

Four horizontal dashed lines for writing feedback.





موضوع:

تاریخ

نام و نام خانوادگی

هدف:

۵- می خواهیم ۹ ظرف آبمیوه‌ی یک لیتری را در ظرف‌های $\frac{1}{4}$ لیتری بریزیم. برای این کار به چند ظرف نیاز داریم؟

۶- می خواهیم در $\frac{3}{7}$ از زمین مقابل را فضای سبز ایجاد کنیم:

الف) مساحت زمین مقابل چقدر است؟

ب) چند متر مربع فضای سبز خواهیم داشت؟

پ) چند متر مربع از زمین خالی خواهد ماند؟

$$\frac{1}{2}$$

$$\frac{1}{5}$$



۷- نسبت سرعت اتومبیل A به اتومبیل B $\frac{5}{3}$ است. اگر سرعت اتومبیل A ۲۵۰ متر در دقیقه باشد:

الف) سرعت پدر در یک دقیقه چقدر است؟

ب) پدر مسافت ۳۰۰ را در چند دقیقه می‌رود؟

بازخورد:

Four horizontal lines for writing feedback.






موضوع:


تاریخ

نام و نام خانوادگی

هدف:



۸- چند درصد از شکل مقابل رنگ شده است؟



۹- ۶۰٪ شکل مقابل را رنگ کنید.

۱۰- برنا کتی به قیمت ۶۰۰۰۰۰ تومان را با ۲۰٪ تخفیف خریده است:

الف) او چند تومان تخفیف گرفته است؟

ب) چند تومان به فروشنده پرداخت کرده است؟

بازخورد:

Four horizontal lines for writing feedback.

