

فعالیت کلاسی صفحه ۱۲۱ کتاب کار

۱ حاصل جمع‌های زیر را به دست بیاور و به دلخواه برای یک مورد شکل بکش.


الف: $\frac{2}{35} + \frac{1}{42} =$

ب: $\frac{3}{9} + \frac{1}{37} =$




۲ حاصل جمع‌های زیر را با کمک رسم محور به دست بیاور.

الف: $\frac{2}{4} + \frac{3}{9} =$


ب: $\frac{0}{13} + \frac{0}{42} =$




الف) $\frac{2}{35} + \frac{1}{42} = \frac{3}{77}$




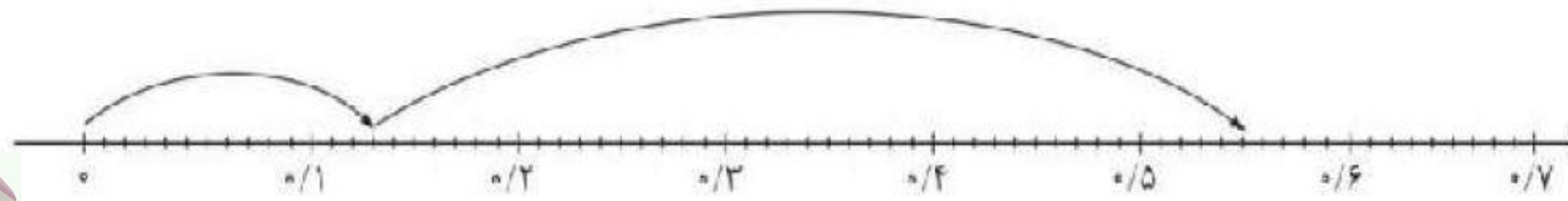
$$\text{ب) } \frac{3}{9} + \frac{1}{37} = \frac{5}{27}$$



الف) $\frac{2}{4} + \frac{3}{9} = \frac{6}{3}$



ب) $\frac{0}{13} + \frac{0}{42} = \frac{0}{55}$



فعالیت کلاسی صفحه ۱۲۱ کتاب کار

۲


حاصل جمع‌های زیر را به کمک جدول ارزش مکانی به دست بیاور.

الف: $6/2 + 4/135 = \dots\dots\dots$

ب: $14/002 + 37/026 + 13/2 = \dots\dots\dots$

هزارم	صدم	دهم	ی	د

هزارم	صدم	دهم	ی	د



الف) $6/2 + 4/135 = 10/335$

هزارم	صدم	دهم	یکان	هگان
۰	۰	۲	۶	
۵	۳	۱	۴	+
۵	۳	۳	۰	۱

ب) $14/002 + 37/026 + 13/2 = 64/228$

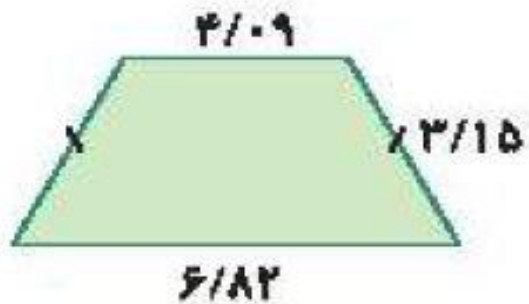
هزارم	صدم	دهم	یکان	هگان	صدگان
۲	۰	۰	۴	۱	
۶	۲	۰	۷	۳	+
۰	۰	۲	۳	۱	
۸	۲	۲	۴	۶	



فعالیت کلاسی صفحه ۱۲۱ کتاب کار

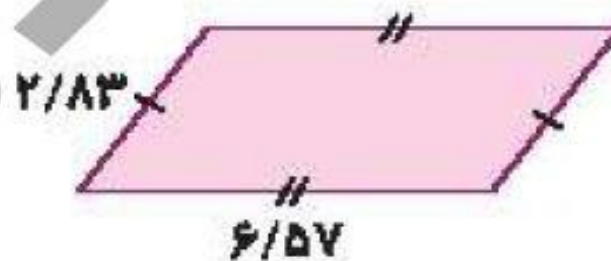
۴

محیط چندضلعی‌های زیر را به دست بیاور. (واحد متر)



الف،

(دوازدهی متساوی الساقین)



ب،

(متوازی الاضلاع)



ابتدا حاصل جمع‌ها را به صورت تقریبی (با حذف رقم‌های اعشاری) و سپس به‌طور دقیق به دست بیاور.



الف: $4/326 + 16/0.27 =$

ب: $6/7 + 52/69 + 14/0.91 =$

ابتدا حاصل جمع‌ها را به صورت تقریبی (با نزدیک بودن به یکان) و سپس به‌طور دقیق به دست بیاور.



الف: $3/197 + 28/5 =$

ب: $21/793 + 6/82 =$



.۴

$$\text{الف) } = 4/09 + 3/15 + 6/82 + 3/15 = 17/21$$

$$\text{ب) } = 2/83 + 6/57 + 2/83 + 6/57 = 18/8$$

.۵

$$\text{الف) } 4/326 + 16/027$$

$$\text{دقیق : } 20/353$$

$$\text{با حذف رقم اعشاری : } 4 + 16 = 20$$

$$\text{ب) } 6/7 + 52/69 + 14/091$$

$$\text{دقیق : } 73/481$$

$$\text{با حذف رقم اعشاری : } 6 + 52 + 14 = 72$$



$$\text{الف) } 3/197 + 28/5$$

$$\text{دقیق: } 31/697$$

$$\text{با حذف رقم اعشاری: } 3 + 29 = 32$$

$$\text{ب) } 21/793 + 6/82$$

$$\text{دقیق: } 28/613$$

$$\text{با حذف رقم اعشاری: } 22 + 7 = 29$$

