



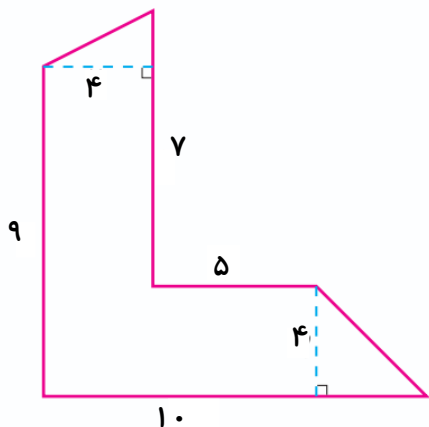
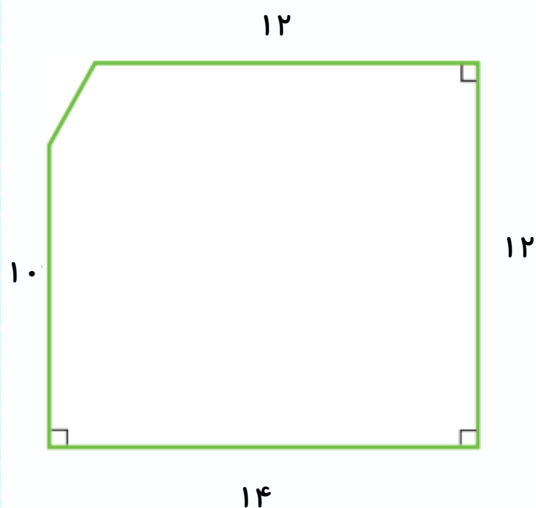
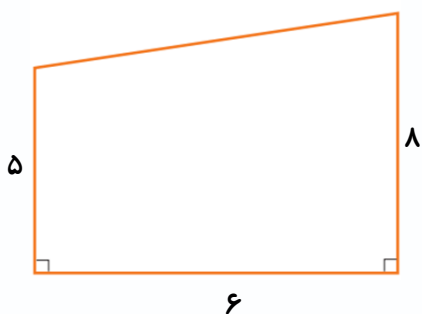
موضوع: مساحت لوزی و ذوزنقه

تاریخ

نام و نام خانوادگی

هدف: تکرار و تمرین

۱- مساحت هر شکل را به دست آورید.



بازخورد:

Handwriting practice area with a dashed orange border and four horizontal lines.





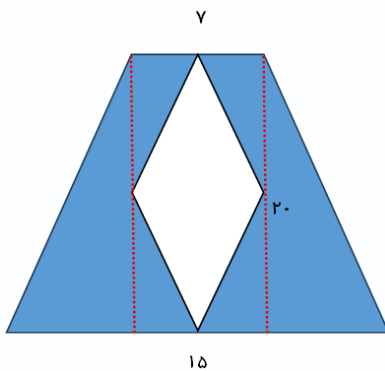
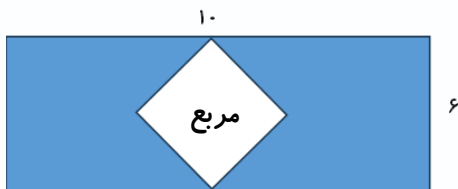
موضوع:

تاریخ

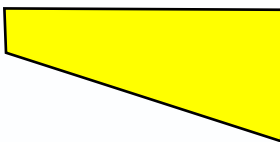
نام و نام خانوادگی

هدف:

۲- مساحت قسمت رنگی هر شکل را به دست آورید.



۳- طول یک استخر شنا ۴۰ متر و عمق آن در قسمت کم عمق ۱ متر تا ۵ متر زیاد می شود. دیواره‌ی طولی این استخر به شکل روبه‌رو است.



الف) مساحت این دیواره چند متر مربع است؟

ب) می‌خواهیم دیواره را با کاشی‌های لوزی شکل که هر دو قطر آن ۲۰ سانتی متر است بپوشانیم. به چند کاشی نیاز داریم؟

بازخورد:

Handwritten feedback area with a dashed border and horizontal lines.

