

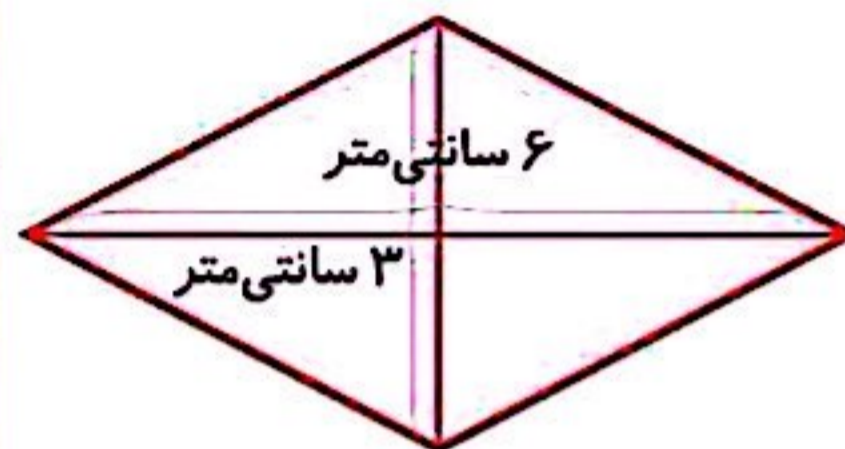
سؤال ۱

مساحت مربع زیر را به دست آورید.



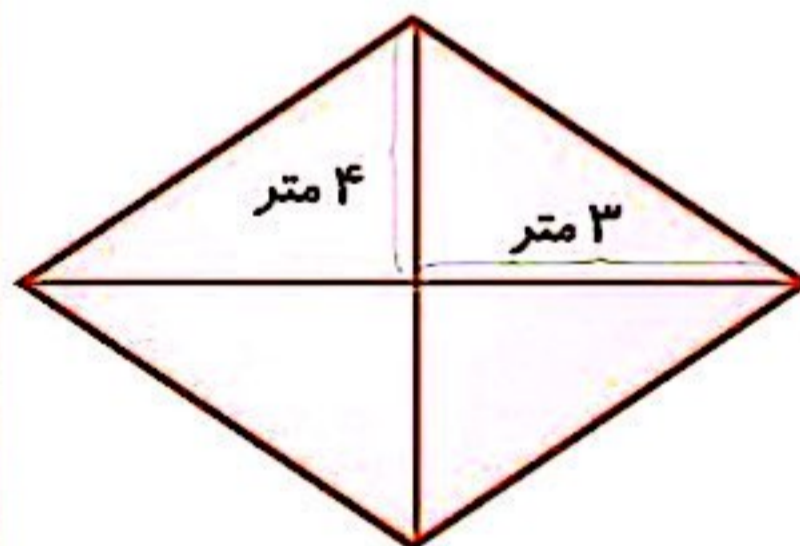
سؤال ۲

مساحت شکل زیر را حساب کنید.



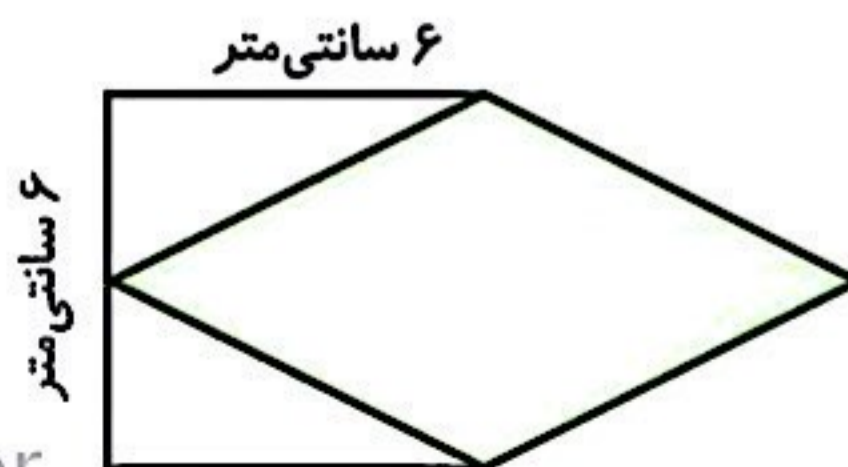
سؤال ۳

مشهدی رضا باغچه‌ای به شکل زیر دارد. مساحت این باغچه را حساب کنید.



سؤال ۴

مساحت قسمت رنگی را حساب کنید.



سؤال ۵

محیط لوزی زیر ۲۴ سانتی متر است. مساحت آن را حساب کنید.



سؤال ۶

زمینی به شکل مستطیل به طول ۳۰ متر و عرض ۲۰ متر داریم. در داخل این زمین، حوضی به شکل لوزی قطر بزرگ ۸ متر و قطر کوچک ۶ متر ساخته شده است. بقیه‌ی مساحت زمین چند متر مربع است؟

سؤال ۷

مساحت شکل زیر را حساب کنید.



سؤال ۸

مساحت قسمت رنگی را محاسبه کنید.



سؤال ۹

باغچه‌ای است به شکل دوزنقه به مساحت ۴۵ متر مربع. اگر مجموع دو قاعده‌ی زمین ۱۸ متر باشد، ارتفاع آن را حساب کنید.

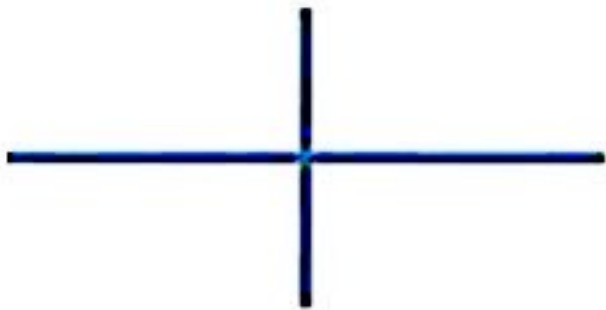


سؤال ۱۰

مساحت یک دوزنقه ۹۰ سانتی‌متر مربع است. اگر مجموع دو ساق آن ۱۴ سانتی‌متر و ارتفاع آن ۵ سانتی‌متر باشد، محیط این دوزنقه چه قدر است؟

سؤال ۱۱

در زیر قطرهای یک لوزی رسم شده است. شکل لوزی را رسم و مساحت آن را حساب کنید. پیدا کردن اندازه قطرها با شماست.



سؤال ۱۲

جاهای خالی را کامل کنید.

دوزنقه			
مساحت	ارتفاع	قاعده کوچک	قاعده بزرگ
	۴	۳	۵
۳۰		۵	۱۰
۱۸	۳	۴	