



ارمغان هفته - پنجم دبستان

شماره‌ی
۱۹

نام و نام خانوادگی: تاریخ: نام آموزگار:

مطالعات اجتماعی < درس ۱۳: حرکت‌های زمین (۲)
هدیه‌های آسمان < درس ۱۱: سرو بلند سامرا
قرآن < درس ۷: جلسه‌ی سوم و چهارم

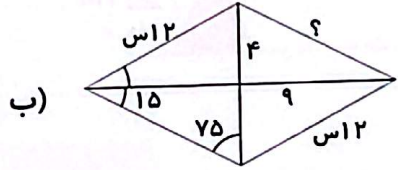
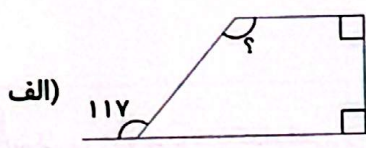
ریاضی < فصل ۴: زاویه در چهارضلعی‌ها
علوم < درس ۸: کارها آسان می‌شود (۱) (۱)
فارسی < درس ۱۲: درس آزاد

ریاضی

الف) مجموع زوایای یک ۸ ضلعی منتظم را به دست آورید.

ب) اندازه‌ی یک زاویه‌ی ۸ ضلعی منتظم را به دست آورید.

۲) در شکل‌های زیر اندازه‌ی زاویه‌های خواسته شده را به دست آورید.



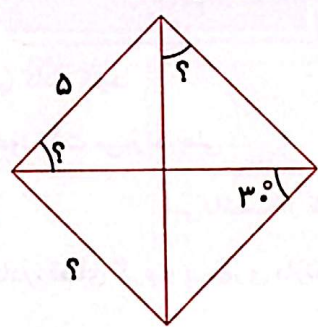
۳) جاهای خالی را کامل کنید.

الف) هر چهار ضلعی که تنها دو ضلع موازی دارد است.

ب) متوازی‌الاضلاع که زاویه‌ها و ضلع‌های برابر دارد نام دارد.

پ) در متوازی‌الاضلاع قطرهای یکدیگر را می‌کنند اما برهم نیستند.

۴) در لوزی زیر اندازه‌ی قسمت‌های خواسته شده را مشخص کنید.

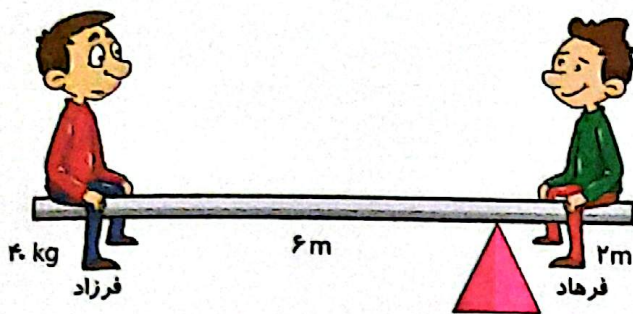


۵ مساحت زمینی به شکل ذوزنقه را به دست آورید. که قاعدهی کوچک آن ۸ متر و قاعدهی بزرگ آن ۱۲ متر و ارتفاع آن ۱۰ متر است.

علوم

۱ اهرم چیست؟

۲ در اهرم زیر فرهاد چند کیلوگرم باید باشد تا بتواند با فرزاد الاکلنگ بازی کند؟



۳ شکل روبه‌رو مربوط به کدام اهرم زیر است؟

(۲) انبردست

(۱) اِزّه

(۴) نردبان

(۳) سرسره

۴ اهرم‌ها بر اساس جایگاه تکیه‌گاه به چند دسته تقسیم می‌شوند؟ نام ببرید؟

فارسی

۱ جاهای خالی را با حروف ربط (اما - نیز - هم) کامل کنید.

الف) مریم گفت: آن‌ها از تدریس آموزگار خود لذت می‌برند. علی تأیید کرد.

ب) مسعود کاغذ و قلم را از دوستش گرفت نمی‌دانست از کجا شروع کند و چه بنویسد.

پ) فرزندان در کنار پدر و مادر، فضای گرم و پرمهری دارند.



جاهای خالی را با واژگان مناسب پر کنید.

(الف) اثری منظوم از فردوسی است.

(ب) اثری منثور از نظامی عروضی است.

(پ) فردوسی نزدیک به سال برای نوشتن شعرهای شاهنامه تلاش کرد.

جدول را مانند نمونه کامل کنید.

از خود گذشته	ی +	از خود گذشته
		سازنده

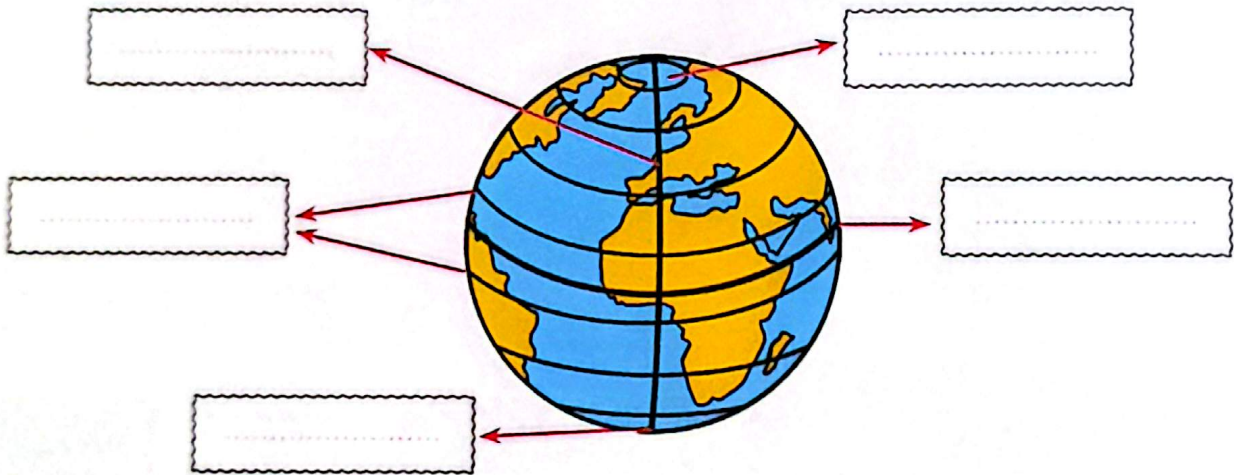
معنی و مفهوم هر قسمت را ساده و روان بنویسید.

«به چهره نکو بود برسان شید ولیکن همه موی، بودش سپید»

مرا بکشید که از گوشت من هر یسه، نیکو آید.

مطالعات اجتماعی

تمام قسمت‌های مشخص شده روی تصویر را بنویسید.



مدار نصف‌النهار را تعریف کنید.

جملات درست را با و نادرست را با مشخص کنید.

الف) نصف‌النهار مبدأ ۱۸۰ درجه و مدار استوا ۹۰ درجه است.

ب) نصف‌النهار مبدأ زمین را به دو نیمه‌ی شمالی و جنوبی تقسیم می‌کند.

هدیه‌های آسمان - قرآن

کامل کنید.






الف) پدر امام حسن عسکری (ع) به دستور خلیفه‌ی عباسی با زور و اجبار از به آورده شدند.






ب) امام حسن عسکری (ع) در شهر به دنیا آمد.

پ) عسکر یعنی:




۲ رفتار امام حسن عسکری (ع) در زندان چگونه بود؟

۳ داستان دُعَیْبِر، نشان‌دهنده‌ی چه واقعیتی است؟ توضیح دهید.

	کاربرد حروف ربط
	مساحت و معنای کلمات مرکب
	شناخت خط استوا، نصف‌النهار و مدار
	شناخت امام یازدهم
	آشنایی با داستان غدیر

	محاسبه‌ی اندازه‌ی روایا در چند ضلعی
	محاسبه‌ی مساحت دوزنقه
	شناخت اهرام و اجزای آن
	آشنایی با انواع هرم
	کاربرد اهرام در زندگی

شاخص‌ها

-  خیلی خوب
-  خوب
-  قابل قبول
-  نیاز به تلاش بیشتر