



موضوع: محیط دایره

تاریخ

نام و نام خانوادگی

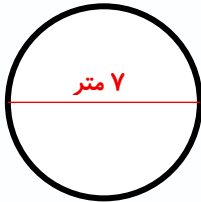
هدف: تثبیت آموخته ها

۱- محیط هر کدام از اشکال را به دست آورید.

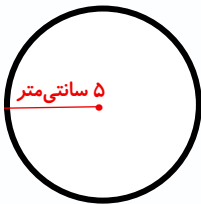
(الف)



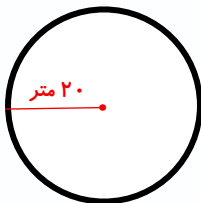
(ب)



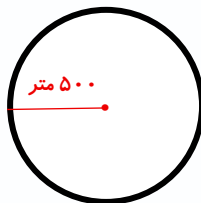
(پ)



(ت)



۲- محیط دایره‌ی مقابل چند سانتی متر است؟



بازخورد:





موضوع:

تاریخ

نام و نام خانوادگی

هدف:

۳- محیط هر کدام از نیم‌دایره‌ها را به دست آورید. (پی را عدد ۳ در نظر بگیرید.)

(الف)



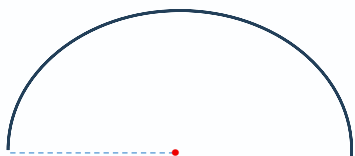
۳۰ سم

(ب)



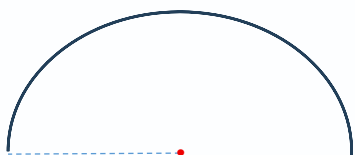
۱۴ سم

(پ)



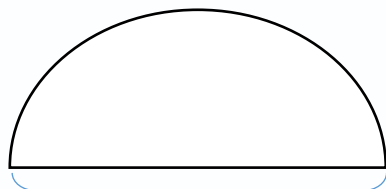
۲۰ سم

(ت)



۱۰۰ سم

۴- محیط شکل مقابل چند سانتی‌متر است؟



۲۰۰ سم

بازخورد:

Handwriting practice area with four horizontal lines.

