



نام و نام خانوادگی: _____

تاریخ: _____

موضوع: ریاضی فصل ۵

هدف: _____

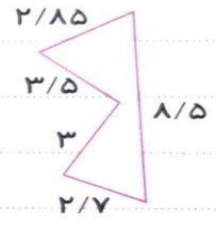
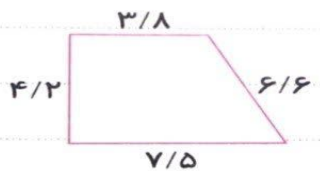
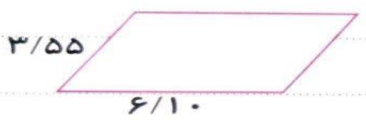
تفریق‌های زیر را انجام دهید.

$$\begin{array}{r} 7/355 \\ - 4/019 \\ \hline \end{array}$$

$$\begin{array}{r} 6/455 \\ - 2/228 \\ \hline \end{array}$$

$$\begin{array}{r} 26/2 \\ - 3/856 \\ \hline \end{array}$$

محیط چند ضلعی‌های زیر را به دست آورید.



مساحت شکل‌های زیر را پیدا کنید.

