



موضوع: سری ۳ سوالات ریاضی پایه پنجم

تاریخ

نام و نام خانوادگی

هدف:

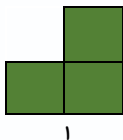


۱\_ یک فروشنده، مانتوهای خود را با تخفیف ۲۰ درصد و کفش ها را تخفیف ۱۵ درصد می فروشد.

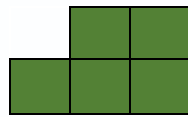
الف) زهرا بابت خرید مانتو، ۲۶۰۰۰۰ تومان پرداخت کرد، قیمت مانتو قبل از تخفیف چقدر بوده است؟

ب) اگر قیمت کفش ۲۰۰۰۰۰ تومان باشد، زهرا برای خرید آن چند تومان باید به فروشنده بدهد؟


۲\_ در الگوی زیر شکل شماره ۳۱ از چند مربع تشکیل شده است؟



۱

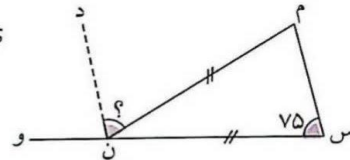
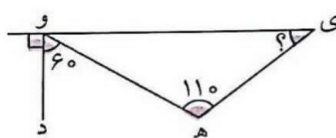


۲



۳

۳\_ زاویه های خواسته شده را به دست آورید. (خط چین نیمساز است)



$$7 \text{ } 45' \text{ } 36''$$

$$17 \text{ } 19' \text{ } 26''$$

۴\_ حاصل جمع و تفریق های زیر را به دست آورید.

$$+ \quad 3 \text{ } 36' \text{ } 25''$$

$$- \quad 6 \text{ } 8' \text{ } 46''$$



۵\_ با توجه به عدد ۱۶۰۷۹۳۰۲۰۰۴ به سوالات زیر پاسخ دهید.

الف) عدد را به حروف بنویسید.

ب) اگر عدد را در ۱۰ ضرب کنیم عدد ۷ چه مرتبه ای پیدا می کند؟





موضوع: سری ۳ سوالات فارسی عید پایه پنجم

تاریخ

نام و نام خانوادگی

هدف:



۱\_ در متن زیر دور صفت ها خط بکشید.

سپیدار گفت: « من سرسبزترین این دشت هستم. زیر پایم چشمه ی زلال است و بالای سرم آسمان آبی. خیلی از پرنده ها آرزو دارند که روی شاخه های من لانه بسازند.»



۲\_ مخالف کلمات زیر را پیدا کنید و بنویسید. (یک کلمه اضافی است)

خشن \_ عجله \_ نهار \_ مشهور \_ زرنگی

درنگ ≠ ..... لیل ≠ ..... گمنام ≠ ..... لطیف ≠ .....

۳\_ جمله در هم ریخته زیر را مرتب کنید و به صورت جمله کامل بنویسید.

قرار، بیمارستانی، کهن، در، ساخته، شهری، در، بود، روزگاران، شود



۴\_ دو واژه جدید با «گار و گر» بسازید و بنویسید.

..... = گر + .....

..... = گار + .....

۵\_ جمله ی زیر را گسترش دهید.

پرچم ایران به اهتزاز در آمد.

