



موضوع: کاربرد محیط دایره و حجم

تاریخ

نام و نام خانوادگی

هدف:

محیط شکل های زیر را حساب کنید.

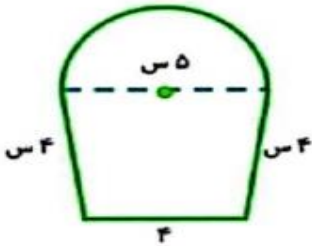


۱۰ س



۸ س

۸ س



۵ س


۴ س

۴ س

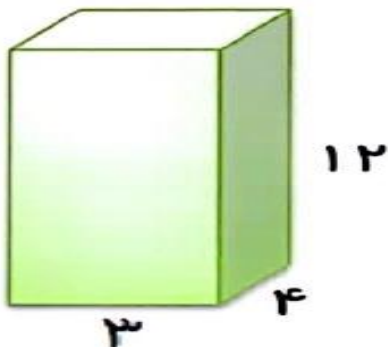
۴

در شکل سوم عدد پی را ۳ در نظر بگیرید

حجم شکل های زیر را به دست آورید



۹



۱۲

۴

۴