

موضوع:

تاریخ:

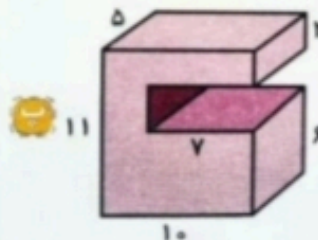
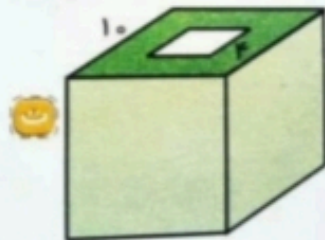
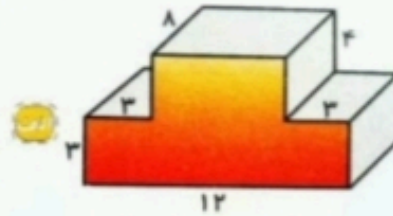
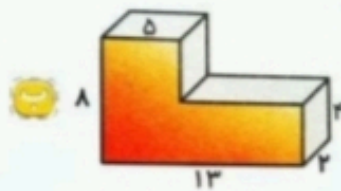
نام و نام خانوادگی:

هدف:

۴. محیط گسترده ی مکعب زیر ۴۲ متر می باشد. حجم مکعبی که از گسترده ی زیر به دست می آید، چه قدر است؟



۵. حجم شکل های زیر را به دست آورید.



۶. در یک کارتن به حجم ۱۸۰۰ سانتی متر مکعب، چند جعبه کبریت به اندازه های ۴، ۳ و ۵ سانتی متر جای می گیرد؟ (تمام کارتن با جعبه های کبریت پر می شود.)

۷. حجم اتاقی به شکل مکعب مستطیل ۶۰ متر مکعب است. طول، عرض و ارتفاع این اتاق چه قدر می تواند باشد؟ (۳ جواب مختلف بنویسید.)

