

# ارمغان هفته - پنجم دبستان

شماره‌ی

۲۳

نام و نام خانوادگی: ..... تاریخ: ..... نام آموزگار: .....

- ریاضی < فصل ۵: ضرب اعداد اعشاری  
 علوم < درس ۸: کارها آسان می‌شود (۲) (۳)  
 فارسی < درس‌های ۱۲ تا ۱۴: درس آزاد، روزی که باران بارید، شجاعت  
 مطالعات اجتماعی < درس ۱۷: سفر به کربلا (۱)  
 هدیه‌های آسمان < درس ۱۳: کوچک‌های بزرگ (۱)  
 قرآن < درس ۹: جلسه‌ی سوم و چهارم


## ریاضی

۱ حاصل ضرب‌های زیر را با تبدیل به کسر به دست بیاورید.

الف)  $3/6 \times 1/8 =$

ب)  $0/45 \times 0/9 =$

۲ در شکل زیر ۱۲ تا ۰/۰۶ را رنگ کنید و سپس بنویسید که چه مقدار از شکل به طور کلی رنگ شده است؟




۳ در جای خالی عامل‌های مناسب بنویسید.

$1/3 \times \dots = 4/8$        $4 \times \dots = 4/8$        $2 \times \dots = 4/8$   
 $4/8 \times \dots = 4/8$        $6 \times \dots = 4/8$

۴ علی ۱۵ سال دارد و پدرش ۲/۵ برابر سن علی سنش است. مجموع سن علی و پدرش را به دست آورید.

۵ روی محور زیر، یک ضرب بنویسید و حاصل آن را به دست آورید. **حرف است.**



## علوم

۱ زیر کلمه‌ی درست داخل کمانک خط بکشید.

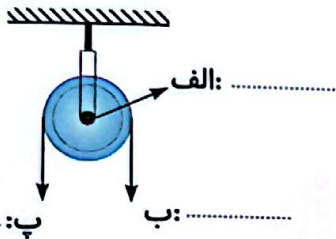
الف) هرچه فاصله دنده‌ها (کم‌تر - بیش‌تر) باشد، نیرو بیش‌تر می‌شود.

ب) مداد تراش رو میزی یک (پیچ - چرخ و محور) است.

۲ در اطراف خود دقت کنید. از قرقره در چه وسایلی استفاده می‌شود؟ نام دو تا از آن‌ها را بنویسید.

۳ چرا در کامیون‌ها فرمان از اتومبیل شخصی بزرگ‌تر است؟

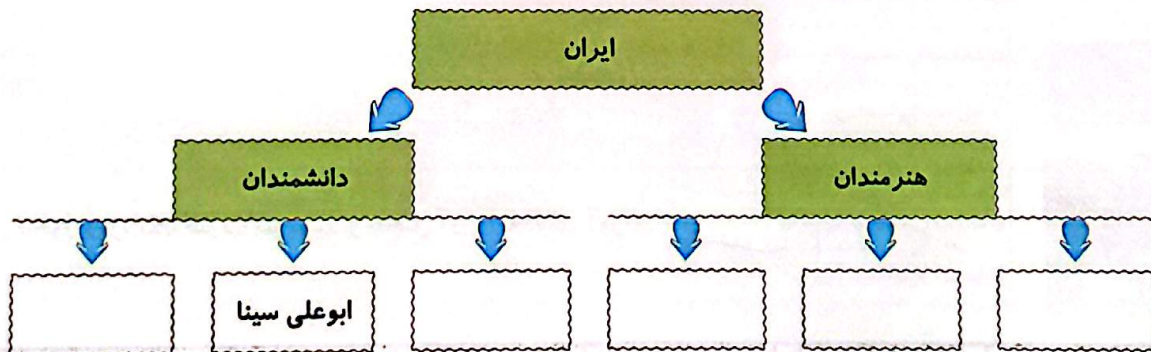
۴ بر روی تصویر، قسمت‌های مختلف قرقره را مشخص کنید.



۵ چرخ و محور چیست؟ (در چه وسایلی از چرخ و محور استفاده شده است.)

## فارسی

۱ نمودار تناسب معنایی زیر را کامل کنید.



واژه‌های گروه دالف، و دب، را ترکیب کنید و واژه‌ی جدید بسازید.

<input type="text"/>	←	گر	+	سحر
<input type="text"/>	←	آمیز	+	شگفت
<input type="text"/>	←	سوز	+	ویران
<input type="text"/>	←	گذار	+	خانمان
<input type="text"/>	←	انگیز	+	اثر

با توجه به متن درس و فردوسی فرزند ایران، نام هر شخصیت را به صفت مناسب خود وصل کنید.

- |             |   |             |
|-------------|---|-------------|
| زال         | + | سام نریمان  |
| فردوسی      | + | دایه‌ی کودک |
| شیردل       | + | سفید مو     |
| جهان پهلوان | + | نام‌آور     |

### مطالعات اجتماعی

کلمات مرتبط را به یکدیگر وصل کنید.

بصره	+	جلگه پهن‌آور عراق از آبرفت رود
خلیج فارس	+	مهم‌ترین بندر عراق
دجله و فرات	+	راه آبی کشور عراق

از داخل کمانک انتخاب کنید.

(الف) مهم‌ترین محصول کشاورزی عراق ..... است. (خرمالو - خرما)

(ب) بیش‌تر مردم عراق ..... هستند. (عرب - فارس)

کدام تمدن در سرزمین بین‌النهرین به وجود نیامده است؟

۴) شهرهای مقدس و زیارتی عراق را نام ببرید. (چهار مورد)

### هدیه های آسمان - قرآن

۱) جملات درست را با  و نادرست را با  مشخص کنید.

الف) ما باید قدر نعمت هایی را که خدا به ما داده است، بدانیم.

ب) دیدن تکرار سریال ها، از هدر رفتن وقت جلوگیری می کند.

۲) اگر تکه ای نان را دور بریزیم، در اصل چه چیزهایی را هدر داده ایم؟ (دور آن خط بکشید).

نور خورشید - آب - زحمت کشاورز - هوا - کود - گندم - خاک - زمان - باران

۳) این سخن پیامبر را کامل کنید.

«کسی که در دل خود چیزی از قرآن نداشته باشد.....»

- شناخت شخصیت های زمان فردوسی
- شناخت کشور عراق
- آشنایی با مفهوم اسراف
- تکمیل سخن پیامبر (ص)

- معاصبه ی ضرب های اعشاری
- حل مسائل اعشاری
- شناخت لفرقه و کاربرد آن
- مقایسه ی ماشین های ساده
- ساخت کلمات مرکب

شاخص ها

- خیلی خوب
- خوب
- قابل قبول
- نیاز به تلاش بیشتر