



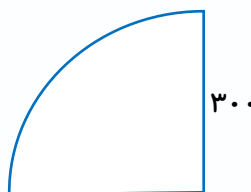
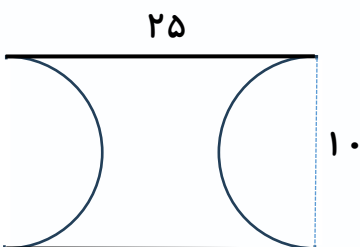
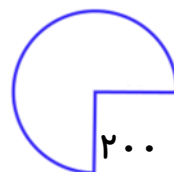
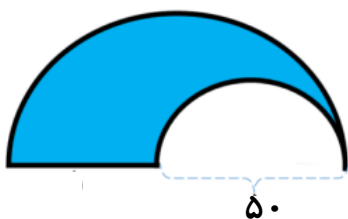
موضوع: فصل ششم

تاریخ

نام و نام خانوادگی

هدف: مرور آموخته‌ها

۱) محیط هر شکل را به دست آورید.



بازخورد:





موضوع:

تاریخ

نام و نام خانوادگی

هدف:

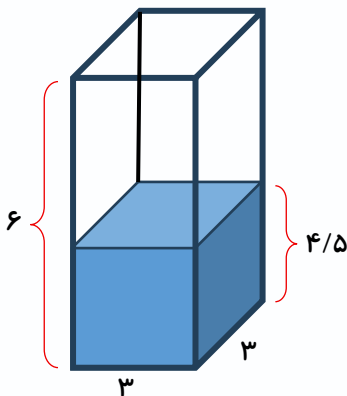
۲) مساحت دوزنقه ای ۳۸۴ سانتی متر مربع است. اگر ارتفاع آن ۱۶ سانتی متر و یکی از قاعده ها ۲۰ سانتی متر باشد، اندازه ی قاعده ی دیگر را محاسبه کنید.

۳) یک قطعه فلز را داخل یک ظرف پر از آب می اندازیم. $\frac{1}{4}$ آب به بیرون ریخت. اگر گنجایش ظرف ۲۰۰ سانتی متر مکعب باشد، حجم قطعه چقدر است؟

۴) در ظرف زیر مقداری آب ریخته ایم. آب تا ارتفاع $\frac{4}{5}$ سانتی متر بالا آمده است.

الف) چند سانتی متر مکعب از ظرف خالی است؟

ب) یک تکه سنگ داخل ظرف می اندازیم. آب درون ظرف به اندازه ی ۱ سانتی متر بالا می آید. حجم سنگ چند سانتی متر مکعب است؟



بازخورد:

Handwritten feedback area with dashed lines.

