




نام و نام خانوادگی

تاریخ

موضوع:

هدف:

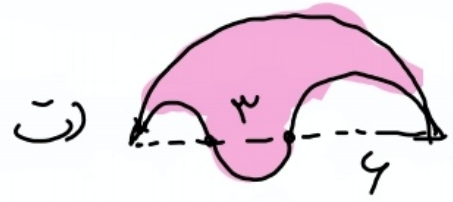

۱- محیط قترای رزی را برست آورید.



شعاع دایره کوچک = 4



شعاع دایره بزرگ = 8



۲- کنجایس ملقب ۲۷ لیتر است ضلع ملقب چند سانتی متر است؟

۳- در فن منبر به ابعاد ۱، ۲، ۵، ۱ متر تا $\frac{2}{3}$ پد از آب است چند لیتر دیگر باید به آن آب اضافه کنیم تا کاملاً پد شود.

۴- در یک ملقب مستطیل ۴، ۲، ۸ سانتی متر، چند ملقب به بعد اسانترند می توان صادر؟

۵- شعاع دو صرهای ۳۰ سانتی متر است. اگر ه ۴ دور بزنند، دو عرض چند متر جلوی رود؟ **پازخورد:**

Handwriting practice lines within a dashed border.

