



موضوع: فصل یک

تاریخ

نام و نام خانوادگی

هدف: مرور آموخته‌ها

۱- در عدد 234675910800 :

الف) این عدد را در جدول ارزش مکانی قرار دهید.

ب) عدد را به حروف بنویسید.

پ) رقم‌های مرتبه‌ی میلیارد را بنویسید.


ت) رقم‌های ۶ و ۹ در چه مرتبه‌هایی قرار دارند؟

ث) اگر این عدد را صد برابر کنیم، ارزش مکانی عدد ۵ چه تغییری می‌کند؟

ج) اگر این عدد را بر ۱۰ تقسیم کنیم، ارزش مکانی عدد ۷ چه تغییری می‌کند؟

چ) تقریب این عدد را با تقریب دهگان هزار بنویسید.

۲- پس از کامل کردن جدول موارد خواسته شده را مشخص کنید.



الف) برای مکان مشخص شده یک عدد تقریبی بنویسید.

ب) محل تقریبی عدد 12684059731 را مشخص کنید.

بازخورد:

Four horizontal lines for writing feedback.





نام و نام خانوادگی

تاریخ

موضوع:

هدف:

۳- جاهای خالی را با عدد مناسب پر کنید.

الف) عدد ۳۷۰۰۰۰۰۰ از تا ده هزار تایی تشکیل شده است.

ب) تا یک میلیون تشکیل شده است.

پ) عدد ۴۷۰۰۱۰۰ از تا یک میلیون تایی، تا هزار تایی و یک تایی تشکیل شده است.

ت) عدد ۲۰۹۰۰۵۰۰ از ۲ تا، تا ۹ تایی و تا صد تایی تشکیل شده است.

ث) نصف ۴۰ میلیون می شود

ج) ۵۰ هزار به علاوه ۳۰ هزار می شود

چ) یک میلیارد منهای ۵۴۰ میلیون می شود

ح) ربع ۱۰۰ هزار می شود

خ) فاصله‌ی دو درخت در یک ۱۲۷۶ میلی‌متر است. یعنی متر و سانتی‌متر و میلی‌متر.

۴- حاصل عبارات زیر را با نوشتن راه حل به دست آورید.

$$۲۹۱ \times ۳۴۸۵۰۰ =$$

$$۷۶۱۲۵۸ \div ۴ =$$

$$۴۰۶ \times ۴۹۷۲۱$$

$$۶۱۲۳ \div ۱۵ =$$

بازخورد:

.....

.....

.....





نام و نام خانوادگی

تاریخ

موضوع:

هدف:

۵- جمع و تفریق‌های زیر را انجام دهید.

	ساعت	دقیقه	ثانیه
	۷	۰۰	۰۰
-	۲	۱۹	۵۵

	سال	ماه	روز
	۷	۱	۱۲
+	۵	۹	۱۴

	گرم	کیلوگرم
	۳۰۰	۸۶۰
+	۷۱۰	۲۵۰

	میلی متر	سانتی متر	متر	کیلو متر
	۴	۴۰	۳۰۰	۶
-	۹	۸۰	۴۰۰	۳

۶- امیر عباس ساعت " 37 : 25 : 7 به مدرسه رسید و ساعت " 40 : 23 : 2 بعد از ظهر از مدرسه خارج شد. او چه مدت در مدرسه بوده است؟

بازخورد:

Blank area for student response with horizontal lines.





نام و نام خانوادگی

تاریخ

موضوع:

هدف:

۷- مادر امیر طاهما ساعت ۲۱:۳۰ روز شنبه مسافرتی را آغاز کرد و روز یکشنبه ساعت ۵:۱۰ به محل مورد نظرش رسید. مادر چه مدت در راه بوده است؟

۸- امیرحسین برای داشتن یک پیراهن ۲ متر و نیم پارچه خرید. او ۲۳۰ سانتی متر از آن را استفاده کرد. چه مقدار از پارچه باقی مانده است؟


۹- علیرضا به میوه فروشی رفت. او ۵۰۰ گرم توت فرنگی، ۲ کیلوگرم سیب، ۷۰۰ گرم گوجه سبز و ۱ کیلوگرم و نیم پرتقال گرفت. او چه مقدار خرید کرده است؟

۱۰- با توجه به هر الگو جدول نظام‌دار را کامل کنید، رابطه‌ی خواسته شده را بنویسید و الگوی خواسته شده را محاسبه کنید.

الف) تعداد دایره در شکل ۴۵ ام

شماره‌ی شکل						
تعداد دایره						

رابطه :



بازخورد:

Handwritten feedback area with a dashed border and horizontal lines.






موضوع: _____ تاریخ: _____ نام و نام خانوادگی: _____

هدف: _____

ب) تعداد مثلث در شکل ۲۵ ام

شماره‌ی شکل						
تعداد مثلث						

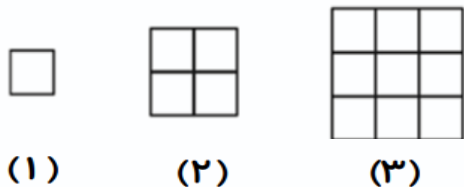
رابطه :



پ) تعداد مربع در شکل ۲۵ ام

شماره‌ی شکل						
تعداد مربع						

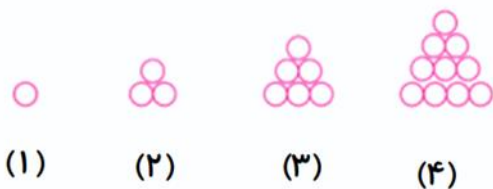
رابطه :



ت) شکل ۷ ام

شماره‌ی شکل						
تعداد دایره						

رابطه :



بازخورد:

