



موضوع: سری ۱ - سوالات ریاضی عید پایه پنجم

تاریخ

نام و نام خانوادگی

هدف:

۲۴۵۱۷۹۰۰۸۶۳۳

۱_ با توجه به عدد رو به رو به سوالات زیر پاسخ دهید.

(الف) عدد را به حروف بنویسید.

(ب) بزرگ ترین رقم در کدام مرتبه قرار دارد؟

(پ) کدام رقم بیشترین ارزش مکانی را دارد؟

۲_ حاصل عبارت های زیر را به دست آورید و تا حد امکان ساده کنید.

(الف) $2\frac{1}{2} \times \frac{3}{5} =$

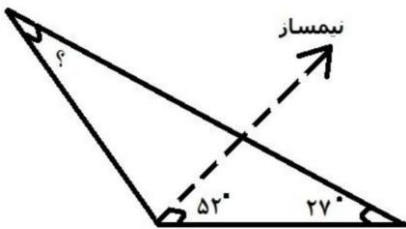
(ب) $4\frac{1}{2} + 3\frac{2}{3} =$

(ج) $6\frac{2}{4} - 2\frac{3}{5} =$



۳_ ۲۰ درصد دانش آموزان یک مدرسه، کلاس پنجم هستند. اگر تعداد دانش آموزان کلاس پنجم ۴۶ نفر

باشند کل دانش آموزان این مدرسه چند نفر است؟



۴_ اندازه زاویه ی خواسته شده را به دست آورید.

(۶ × ۴/۵) + (۱/۲ × ۳/۸) - (۰/۵ × ۰/۸) =

۵_ حاصل عبارت رو به رو را به دست آورید.

نام و نام خانوادگی

تاریخ

موضوع: سری ۱ سوالات علوم عید پایه پنجم

هدف:



۱_ جاهای خالی را با واژه های مناسب پر کنید.

الف) در مرکز عنبیه بخشی به نام وجود دارد. (عدسی _ مردمک)

ب) لاله ی گوش به گوش وصل است. (مجرای گوش _ استخوان های گوش)

پ) در یک اهرم هرچه جسم به تکیه گاه نزدیک تر باشد، برای جابه جایی آن به نیروی احتیاج داریم.

(بیشتر _ کم تر)

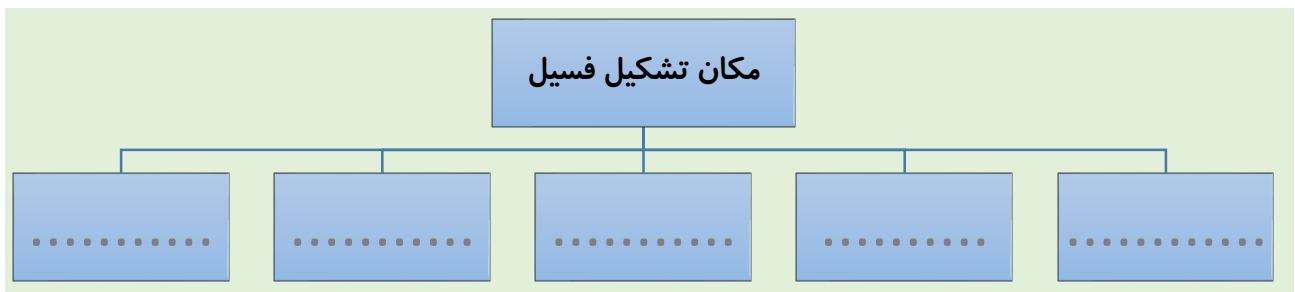
۲_ دو تغییر شیمیایی و دو تغییر فیزیکی نام ببرید.

Yellow dashed box for answer 2

۳_ کانون عدسی چیست؟

Green dashed box for answer 3

۴_ پنج مکان تشکیل فسیل را بنویسید.



۵_ چهار وظیفه استخوان را بنویسید.

Yellow grid for answer 5



نام و نام خانوادگی

تاریخ

موضوع: سری اسوالات فارسی عید پایه پنجم

هدف:



۱ _ معنی کلمات زیر را بنویسید.

- (الف) غازی :
- (پ) بلند آوازه :
- (ث) آراست :
- (ب) خصلت :
- (ت) اهتزاز :
- (ج) کاهلی :

۲ _ مفهوم ضرب المثل « عقلش به چشمش است » را بنویسید.

Blank area for writing the answer to question 2.

۳ _ شعرهای حفظی زیر را کامل کنید.

(الف) به دانش گرای چو خواهی

(ب) کرد دهقان کرد کوتاه

۴ _ با توجه به بیت زیر به سوالات پاسخ دهید.

« فردا که بر من و تو وزد باد مهرگان / آنکه شود پدید، که نامرد و مرد کیست »

(الف) بیت را به نثر ساده بنویسید.

.....


(ب) این بیت چند جمله دارد؟ آن ها را مشخص کنید

.....

۵ _ برای کلمات داده شده هم خانواده بنویسد.

محفوظ _ شروط _ تدبیر

مطمئن _ تشویق _ هیجان



Blank area for writing the answer to question 5.

