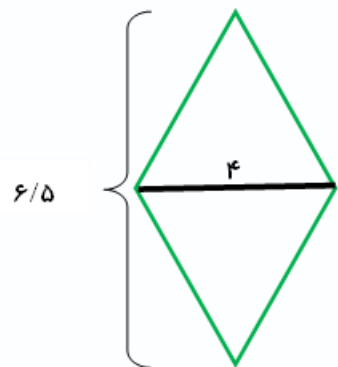
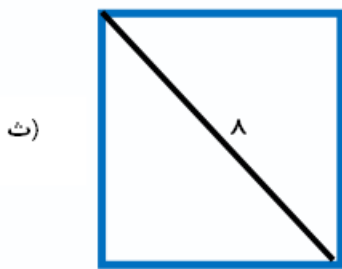
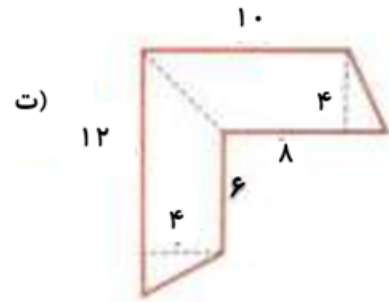
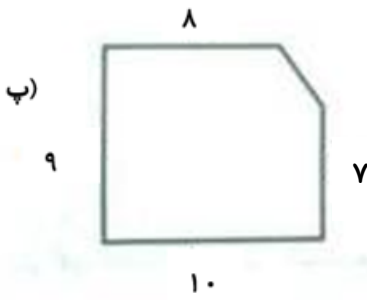
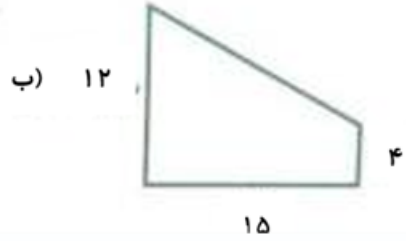
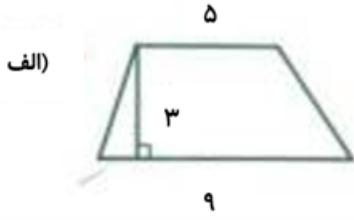




نام و نام خانوادگی: تاریخ: موضوع: فصل ششم

هدف: مرور آموخته‌ها

۱- مساحت هر یک از شکل‌های زیر را محاسبه کنید.



بازخورد:

Handwritten feedback area with four horizontal lines.





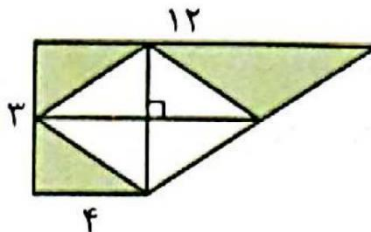
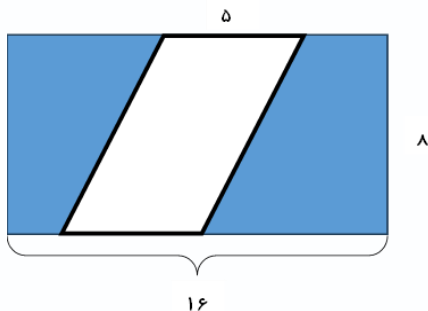
نام و نام خانوادگی

تاریخ

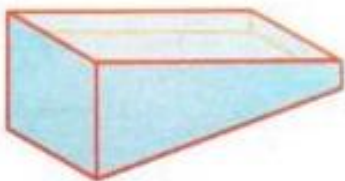
موضوع:

هدف:

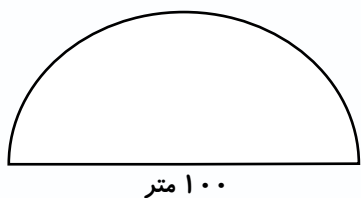
۲- مساحت قسمت رنگی شکل زیر را محاسبه کنید.



۳- علی می خواهد دیوار کنار استخری را رنگ بزند. اگر طول استخر ۴۰ متر، قسمت کم عمق ۱ متر و قسمت عمیق ۴ متر باشد، حساب کنید او چند مترمربع رنگ خواهد شد؟



۴- پارسا می خواهد دور باغچه ی زیر را نرده بکشد:



الف) او به چند متر نرده نیاز دارد؟

ب) اگر هزینه ی هر متر نرده ۱۰۰۰۰ تومان باشد، او چند تومان باید هزینه کند؟

بازخورد:

Four horizontal lines for writing feedback.





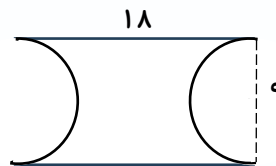
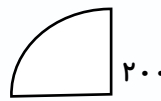
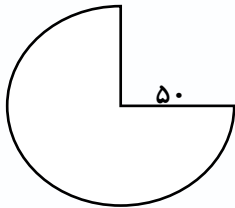
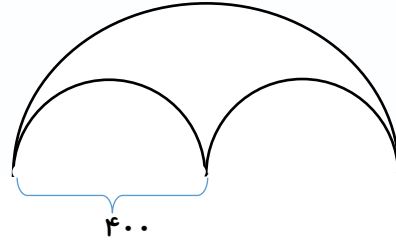
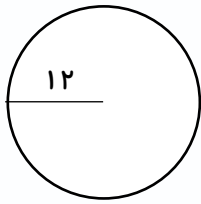
موضوع:

تاریخ

نام و نام خانوادگی

هدف:

۵- محیط شکل های زیر را به دست آورید.



بازخورد:

Handwriting practice area with four horizontal lines.





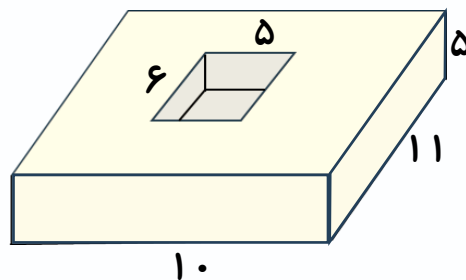
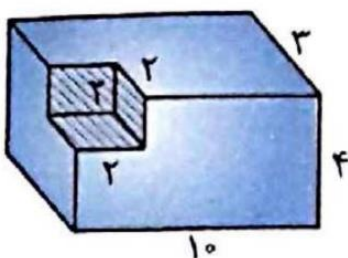
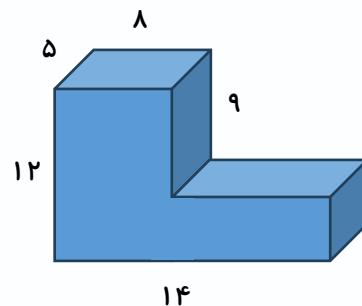
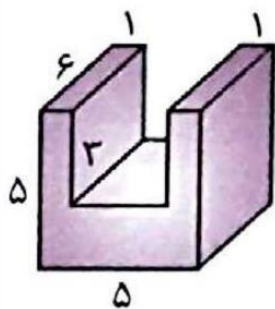
نام و نام خانوادگی

تاریخ

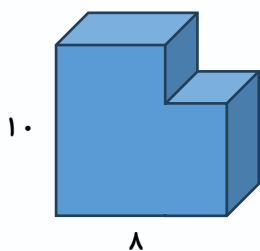
موضوع:

هدف:

۶- حجم اشکال زیر را محاسبه کنید.



۷- علی از گوشه‌ی قالب پنیری به شکل زیر یک مکعب به ابعاد ۳ سانتی متر جدا کرد. چه مقدار از پنیر باقی مانده است؟



بازخورد:

Handwriting practice area with a dashed orange border and three horizontal lines for writing.

