

# ارمغان هفته - پنجم دبستان

شماره‌ی

۲۸

نام و نام خانوادگی: ..... تاریخ: ..... نام آموزگار: .....

مطالعات اجتماعی < درس ۲۰: وزیران کاردان شهرهای آباد (۱)

هدیه‌های آسمان < درس ۱۵: بهمن همیشه بهار

قرآن < درس ۱۱: جلسه‌ی اول و دوم


ریاضی < فصل ۶: مساحت، محیط و حجم

علوم < درس ۱۰: خاک با ارزش

فارسی < درس ۱۵: زیر آسمان بزرگ، حکمت

## ریاضی

۱ در یک کارتون به ابعاد ۷۰ و ۸۰ و ۱۲۰ سانتی‌متر، چند جعبه به ابعاد ۲۰ و ۱۰ و ۳۰ را می‌توان جای داد؟



.....

.....

.....

۲ در هر مورد دور کلمه‌ی درست خط بکشید.

الف) برای اندازه‌گیری مساحت اتاق از واحد ..... استفاده می‌شود. (متر - مترمربع - مترمکعب)

ب) برای اندازه‌گیری گنجایش یک منبع از واحد ..... استفاده می‌شود. (مترمربع - مترمکعب - متر)

۳ مجموع یال‌های یک مکعب ۶۰ سانتی‌متر است. حجم این مکعب چند سانتی‌متر مکعب است؟

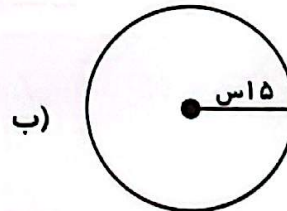
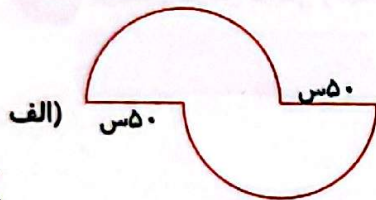
۲۲۵ (۴)

۱۵۰ (۳)

۱۲۵ (۲)

۶۰ (۱)

۴ محیط شکل‌های زیر را به دست آورید.

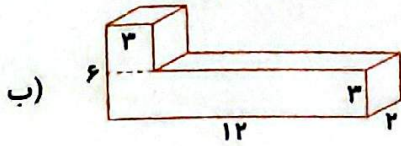
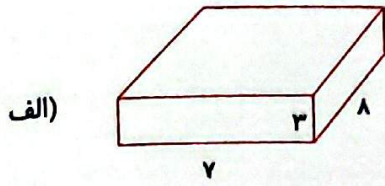


.....

.....



حجم هریک از شکل‌های زیر را به دست آورید.



ظرفی به شکل مستطیل داریم که طول و عرض آن ۱۰ و ۵ است و تا ارتفاع ۴۰ سانتی‌متری آن پر از آب است. اگر جسمی را درون ظرف بیندازیم آب تا ارتفاع ۵۲ سانتی‌متر بالا می‌آید. حجم جسمی که در آب انداختیم چند سانتی‌متر مکعب بوده است؟  $(\pi = 3)$

### علوم

۱) گزینه صحیح را انتخاب کنید.

الف) کدام عامل سبب از بین رفتن خاک سطحی نمی‌شود؟

- ۱) شخم‌زدن نامناسب      ۲) آبیاری نامناسب      ۳) از بین رفتن پوشش گیاهی      ۴) کشت متناوب

ب) هوازدگی سنگ و تشکیل خاک در کدام استان بیش‌تر است؟

- ۱) مازندران      ۲) تهران      ۳) یزد      ۴) شیراز

۲) برچسب عوامل طبیعی و انسانی فرسایش را در جدول زیر بچسبانید.

انسانی	طبیعی

۳) حملات درست را با  و نادرست را با  مشخص کنید.

الف) باد، مقداری از خاک را با خود جابه‌جا می‌کند.

ب) سیل از عوامل فرسایش خاک است.

۲) در چه زمینی هنگام بارندگی، احتمال جاری شدن سیل بیش‌تر است؟

### فارسی

۱) شخصیت‌های داستان به چند دسته تقسیم می‌شوند؟ نام ببرید.

۲) معنی عبارت زیر را بنویسید.

باری چند، غوطه خورد؛ جامه‌اش گرفتند و سوی کشتی آوردند.

۳) نسبت «حکمت با حکیم، مانند کلمه‌های کدام گزینه است؟

۴) لطف و کرم

۳) مکان و دکان

۲) ملاطفت و مهربانی

۱) سلامت و سلام

۴) معنای هر جمله را بنویسید.


الف) حکیمی در آن کشتی بود، مَلِک را گفت: «اگر فرمان دهی، من او را به طریقی، خاموش گردانم.»


ب) مَلِک را پسندیده آمد، گفت: «در این، چه حکمت بود؟»


### مطالعات اجتماعی

۱) نام هر تصویر را بنویسید.




شخصیت‌های زیر را معرفی کنید. 



جدول زیر را کامل کنید. 

ابوالقاسم فردوسی	خواجه نظام الملک توسی	
		شباهت‌ها
		تفاوت‌ها

به سؤالات زیر پاسخ کوتاه دهید. 

الف) در زمان سلطان ملکشاه سلجوقی، قلمرو سلجوقیان تا کجا گسترش یافت؟


ب) پایتخت سلطان ملکشاه کدام شهر بود؟

### هدیه‌های آسمان - قرآن

کامل کنید. 

الف) انقلاب اسلامی ایران در روز ..... سال ..... پیروز شد.

ب) قهرمانان ..... بهترین یاران امام خمینی (ره) هستند.

پاسخ دهید. 

الف) چند نفر از شهدای بزرگ انقلاب را نام ببرید.

ب) چرا مردم در روز ۲۲ بهمن به راهپیمایی می‌روند؟

کامل کنید. 

دَهْدِي اللهُ لِنُوْرِهِ مَن يَشَاءُ،

..... می‌کند ..... به نورش کسی را که .....

 معنای جمله و ضرب المثل	 محاسبه‌ی حجم
 شناخت اماکن تاریخی	 محاسبه‌ی محیط
 شناخت فرمانروایان	 تبدیل واحد
 شناخت شهدای ۲۲ بهمن	 فرسایش و عوامل آن
 معنای واژه‌های قرآنی	 ساخت واژه

**شناخت‌ها**

-  خیلی خوب
-  خوب
-  قابل قبول
-  نیاز به تلاش بیشتر