



موضوع:

تاریخ:

نام و نام خانوادگی:

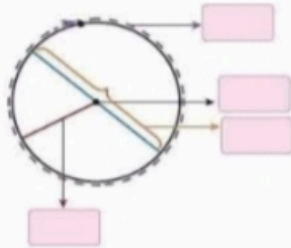
هدف:

۱- جاهای خالی را کامل کنید .

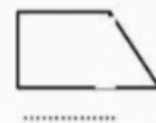
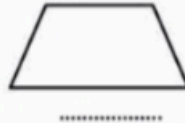
الف) هر چه قطر یک دایره بزرگ تر شود، محیط آن می شود.

ب) نسبت محیط هر دایره به قطر آن تقریباً است . به این عدد گفته می شود.

ج) در شکل رو به رو ، در جاهای خالی کلمه های مناسب بنویسید.



د) نام شکل های زیر را بنویسید.



۲- جدول زیر را کامل کنید.

ویژگی	متوازی الاضلاع	مربع	لوزی
ضلع های روبه رو برابرند			
قطرها برابرند.			
قطرها یکدیگر را نصف می کنند.			
قطرها برهم عمودند.			

۳- مساحت هریک از لوزی های زیر را حساب کن. (اندازه ی روی شکل ها اندازه ی قطر ها هستند)

