



ارمغان هفته پنجم دبستان

شماره‌ی
۲۲

نام و نام خانوادگی: تاریخ: نام آموزگار:

- ریاضی < دوره
- علوم < دوره
- فارسی < دوره
- مطالعات اجتماعی < دوره
- هدیه‌های آسمان < دوره
- قرآن < دوره

ریاضی

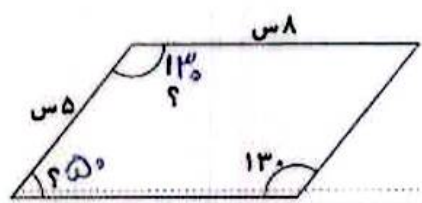
۱ حاصل ضرب عبارت‌های زیر را بیابید.

- الف) $0.001 \times 8000 = 8$
- ب) $0.001 \div 6000 = 6$
- پ) $100 \div 0.001 = 0.1$
- ت) $500 \times 0.009 = 4.5$

۲ حاصل ضرب عدد 0.084×0.12 برابر با چه عددی خواهد شد؟

۱) ۷ ۲) ۰.۷ ۳) ۰.۰۷ ۴) ۰.۰۰۷

۳ با توجه به خواص متوازی‌الاضلاع اندازه‌های خواسته شده را روی شکل بنویسید.



$180 - 110 = 70$

۴ مهدی یک بطری آب میوه دارد، $\frac{1}{3}$ آن را داخل لیوان و $\frac{3}{4}$ از آب میوه باقی مانده را داخل یک تنگ می‌ریزد. چقدر آب میوه

در بطری باقی مانده است؟

باقی مانده $1 - \frac{5}{6} = \frac{6}{6} - \frac{5}{6} = \frac{1}{6}$

$\frac{1}{3} + \frac{3}{4} = \frac{4}{12} + \frac{9}{12} = \frac{13}{12}$

آب داخل تنگ $\frac{1}{3} \times \frac{13}{12} = \frac{13}{36}$

$1 - \frac{13}{36} = \frac{36}{36} - \frac{13}{36} = \frac{23}{36}$

۵ مجموع نصف عدد $\frac{1}{4}$ و ربع عدد $\frac{1}{4}$ چند درصد است؟

$\frac{1}{4} \div 2 = \frac{1}{4} \times \frac{1}{2} = \frac{1}{8}$

$\frac{1}{4} \div 4 = \frac{1}{4} \times \frac{1}{4} = \frac{1}{16}$

$\frac{1}{8} + \frac{1}{16} = \frac{2}{16} + \frac{1}{16} = \frac{3}{16}$

$\frac{3}{16} = \frac{18.75}{100} \rightarrow 18.75\%$





علوم

عبارت‌های مناسب در هر دو ستون را به هم وصل کنید. (یک مورد اضافی است)



زیر کلمه‌ی درست داخل کمانک خط بکشید.

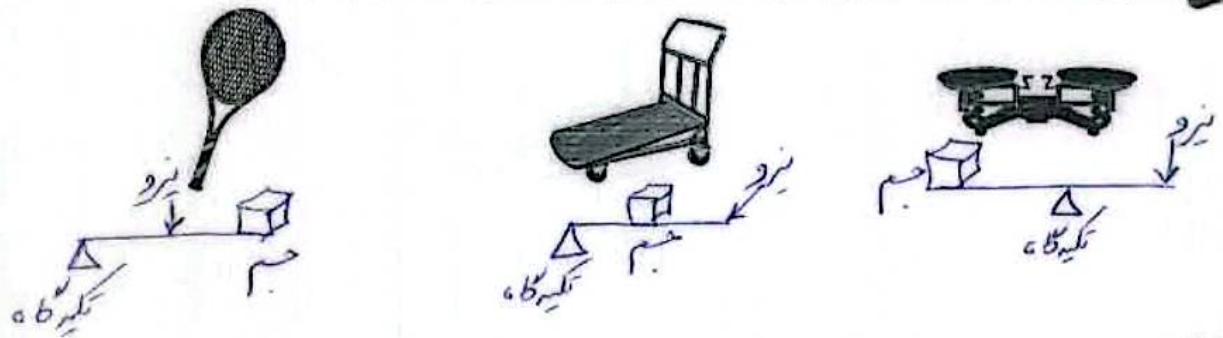
الف) هر نوع سوختنی یک تغییر (فیزیکی - شیمیایی) است. شیمیایی

ب) قرار دادن آبغوره در آفتاب تغییر (فیزیکی - شیمیایی) ایجاد می‌کند.

چه عواملی باعث فرسایش خاک می‌شود؟

باد، آب (سيل، بارش، رود)، زلزله، حرارتی، یخبندان، دام، نابودی جنگل، حوا و قطب در عمان، جاده‌سازی، کشت نامناسب در زمین کشاورزی

برای هر یک از وسایل زیر شکل اهرم را رسم کنید و قسمت‌های مختلف را روی شکل نمایش دهید.




فکر کنید و پاسخ دهید.

الف) اگر علم زمین‌شناسی به وجود نیامده بود. آن‌گاه ← دانشگاه دانش کموز
 ب) اگر بدن ما ماهیچه‌ای غیر ارادی نداشت. آن‌گاه ← دانشگاه دانش کموز

فارسی

هر کتاب را به نویسنده‌ی آن وصل کنید.





هم خانواده کلمه های زیر را بنویسید.

(ب) جذب: جذاب و مجذوب

(الف) غرور: مغرور و غرّه

اصلی ترین قسمت جمله های زیر را پیدا کرده و زیر آن خط بکشید.

(الف) پنجد بر من، مہان جهان / از این بچه در آشکار و نہان

(ب) وطن داری آموز از ماکیان

(پ) کتاب ها در کتابخانه خیلی منظم و خوش نما چیده شده اند.

بعد از خواندن متن به جای () نشانه ی نگارشی مناسب بگذارید. (، - ؟ -)

زندگی پر از مسابقه است () تا حالا با خودتان در یک مسابقه شرکت کرده اید () تاکنون بر خودتان پیروز شده اید ()

کدام لذت بخش تر است () پیروزی بر خود یا بر دیگران ()

هر زوج کلمه داده شده با هم چه نسبت یا رابطه ای دارند؟

کاهلی و تنبلی ← مترادف لیل و نهار ← متضاد تحسین و تشویق ← مترادف

طمع و فناغت ← متضاد مونس و مانوس ← هم خانواده افق و آفاق ← هم خانواده

مطالعات اجتماعی

خط زمان را کامل کنید.

خط زمان	۱- بعثت پیامبر	۲- دعوت پنهانی	۳- دعوت آشکار	۴- هجرت مسلمانان به حبشه
	۵- امامت در شنگ ای	۶- هجرت به مدینه	۷- جنگ های پیامبر	۸- فتح مکه

از کلمات داخل جعبه استفاده کرده و بنویسید کارخانه ها برای تولید هر یک از کالاهای زیر به کدام مواد اولیه نیاز دارند؟

شماره	جعبه ی کلمات
۱	نخ
۲	ورق فلزی
۳	شکر
۴	پارچه
۵	لامپ
۶	موتور
۷	کاغذ
۸	کره
۹	آلبالو
۱۰	دکمه
۱۱	آرد
۱۲	درم

مواد اولیه	کالای تولید شده
نخ	فرش
ورق فلزی، لامپ، موتور	یخچال
کاغذ	دفتر
درم	کفش
آلبالو	مریای آلبالو
آرد	بیسکویت
پارچه	لباس



عبارت های زیر را کامل کنید.

الف) در زمان سلجوقیان زبان فارسی مجدد توجه قرار گرفت و رواج یافت

ب) شاعر معروف دوره غزنویان فردوسی است

واژه های زیر را تعریف کنید.

الف) قناعت: صادرات کالاها یا خدماتی که در یک ناحیه تولید شده اند، برای فروش در جاهای دیگر فرستاده می شوند به این

ب) مهاجرت: محو عرقی افرادی که در یک جا زندگی می کنند

هدیه های آسمان - قرآن

جدول را کامل کنید.

ح	ک	ی	م	ه
م	ن	ص	و	ر
ع	ی	د	غ	د
ی	د	ی	ر	ا
ح	ب	ر	ذ	ی

← ۱

۱- نام خواهر امام هادی (ع)

← ۲

۲- از القاب امام زمان (عج) به معنای (باری شده)

← ۳

۳- در این روز حضرت محمد (ص)، علی (ع) را به عنوان جانشین برگزیدند.


← ۴

۴- حضرت عبدالعظیم از شاگردان این امام می باشد.

← ۵

۵- نام فرشته وحی

کلمه های زیر را به عبارت های مناسب آن وصل کنید. (یک کلمه اضافی است)



- ترکیب معنای واژه مزروف «تعداد و هم خوانده»
- علامت نگارشی
- نوعی ادوای کشور سختار زمان
- نواحی صنعتی و مرکزی زمین شناخت مواد اولیه
- انجام جدول و معنای لغات

- انجام ضرب های اعشاری
- تجانسی اعداد در ساعت انجام ی ستاگری
- قرینگی اشکال هندسی انگاره ی زاری انجمن
- قسمت های اصلی گیاه
- شناخت اهرم ها و مدل حواس

شناختن آنها

حرف خوب

حرف بد

لایق بودن

تبار به نفع بیشتر